

الأجوبة النموذجية

للمسئلة الوزارية

( 2012 - 2019 )

الكيمياء : لمادة

للفصف : الثالث متوسط

( مرتبة حسب فصول الكتاب )

اعداد وترتيب :

أبو الزهراء محمد بن الفيلسوف الفيلسوف

المدرس في ثانوية الفياض للبنين

07834663646

07730763646

٠٧٨٣٤٦٦٣٦٤٦ / ٠٧٧٣٠٧٦٣٦٤٦

اعداد وترتيب : أبو الزهراء محمد خليفة الرملي

# ملزم الزهراء الاعظميه

# الجزء الأول

ويحتوي على

الفصل الأول : التركيب الذري للمادة

الفصل الثاني : الزمرتان الأولى والثانية

الفصل الثالث : الزمرة الثالثة

الفصل الرابع : المحاليل والتعبير عن التركيز

07730763646 // 07834663646

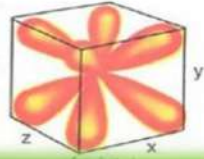
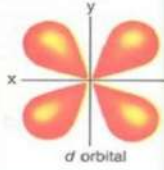
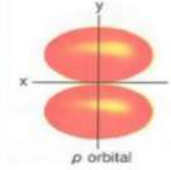
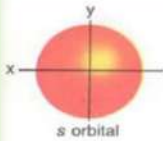
الأجوبة النموذجية للأسئلة الوزارية ( 2019 - 2012 )

المدرس في ثانوية الفيض للبنين

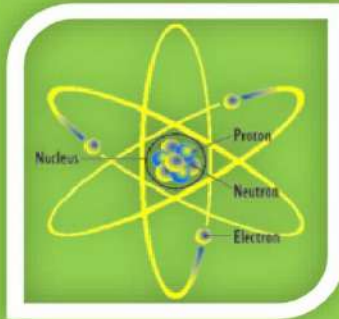
اعداد وترتيب : **أبو الزهراء محمد خليفة الترمي**

# الفصل الأول: التركيب الذري للمادة

## Orbitals



n=1	1s
n=2	2s 2p
n=3	3s 3p 3d
n=4	4s 4p 4d 4f
n=5	5s 5p 5d 5f
n=6	6s 6p 6d 6f
n=7	7s 7p 7d 7f



Increases

### Atomic Size

1																	18
H																	He
Li	Be											B	C	N	O	F	Ne
Na	Mg	3	4	5	6	7	8	9	10	11	12	Al	Si	P	S	Cl	Ar
K	Ca	Sc	Ti	V	Cr	Mn	Fe	Co	Ni	Cu	Zn	Ga	Ge	As	Se	Br	Kr
Rb	Sr	Y	Zr	Nb	Mo	Tc	Ru	Rh	Pd	Ag	Cd	In	Sn	Sb	Te	I	Xe
Cs	Ba	La	Hf	Ta	W	Re	Os	Ir	Pt	Au	Hg	Tl	Pb	Bi	Po	At	Rn
Fr	Ra	Ac	Rf	Db	Sg	Bh	Hs	Mt	Ds	Rg	Cn	Uut	Uuq	Uup	Uuh	Uus	Uuo
		Ce	Pr	Nd	Pm	Sm	Eu	Gd	Tb	Dy	Ho	Er	Tm	Yb	Lu		
		Th	Pa	U	Np	Pu	Am	Cm	Bk	Cf	Es	Fm	Md	No	Lr		

### Electronegativity Trend

Electronegativity increases from left to right and from bottom to top.

Group	1	2	3	4	5	6	7	8	9	10	11	12	13	14	15	16	17	18
Period	1	2	3	4	5	6	7	8	9	10	11	12	13	14	15	16	17	18
1	1																	2
2	3	4											5	6	7	8	9	10
3	11	12	13	14	15	16	17	18										
4	19	20	21	22	23	24	25	26	27	28	29	30	31	32	33	34	35	36
5	37	38	39	40	41	42	43	44	45	46	47	48	49	50	51	52	53	54
6	55	56	57	58	59	60	61	62	63	64	65	66	67	68	69	70	71	72
7	87	88	89	90	91	92	93	94	95	96	97	98	99	100	101	102	103	104
			Lanthanides															
			Actinides															

2019 - 2020

## الفصل الأول : التركيب الذري للمادة

### المسائل الرياضية

الترتيب الإلكتروني :  $1s^2 2s^2 2p^6 3s^2 3p^6 4s^2 3d^{10} 4p^6 5s^2 4d^{10} 5p^6 6s^2$

**ملاحظة مهمة :** لحل الأسئلة الرياضية المتعلقة بهذا الفصل يجب عليك عزيزي الطالب ان تتعلم كيف تكتب الترتيب الإلكتروني للذرات لذلك عليك اتباع الخطوات التالية :

١- لا تحفظ الترتيب الإلكتروني كقطع واحد وانما عليك تجزئته الى مقاطع صوتية قصيرة

**s s p s p d p s d p s**  
دي بي اس دي بي اس بي اس بي اس دي بي اس دي بي اس

٢- بعد كتابة الترتيب الإلكتروني على شكل مقاطع صوتية نبدأ بترقيم الغلاف الثانوي S ومعلوم ان

الغلاف S يبدأ من الغلاف الرئيسي الأول لذلك فإن ترقيمه يبدأ من الرقم ( 1 ) فصاعداً

**1s 2s p 3s p 4s d p 5s d p 6s**

٣- بعد الإنتهاء من ترقيم الغلاف S نبدأ بترقيم الغلاف الثانوي p ومعلوم ان الغلاف p يبدأ من

الغلاف الرئيسي الثاني لذلك فإن ترقيمه يبدأ من الرقم ( 2 ) فصاعداً

**1s 2s 2p 3s 3p 4s d 4p 5s d 5p 6s**

٤- بعد الإنتهاء من ترقيم الغلاف S و p نبدأ بترقيم الغلاف الثانوي d ومعلوم ان الغلاف d يبدأ

من الغلاف الرئيسي الثالث لذلك فإن ترقيمه يبدأ من الرقم ( 3 ) فصاعداً

**1s 2s 2p 3s 3p 4s 3d 4p 5s 4d 5p 6s**

٥- بعد ان انتهينا من ترقيم الأغلفة الثانوية فإننا نقوم بتوزيع الإلكترونات عليها حيث نضع فوق

كل غلاف من نوع S **الكرونيين** لانه يحتوي **اوربيتال واحد** لذلك لا يمكنه حمل اكثر من

الكرونيين ، اما الغلاف من نوع p فنضع فوقه **6** الكرونيات لأنه يحتوي **ثلاثة اوربيتالات**

لذلك لا يمكنه حمل اكثر من 6 الكرونيات ، اما الغلاف من نوع d فإننا نضع فوقه **10** الكرونيات

لأنه يحتوي **خمسة اوربيتالات** لذلك لا يمكنه حمل اكثر من 10 الكرونيات . ويكون الترتيب


حسب مبدأ اوفباو أي اننا نضع الإلكترونات في مستويات الطاقة الثانوية بالتسلسل من الأوطأ

الى الأعلى ، فمثلاً لا يصح ان نملأ الـ 2p حتى نملأ قبله الـ 2s ، وكذلك لا نملأ الـ 3s حتى

نملأ قبله الـ 2p ، فيكون الترتيب النهائي كالاتي :

**1s<sup>2</sup> 2s<sup>2</sup> 2p<sup>6</sup> 3s<sup>2</sup> 3p<sup>6</sup> 4s<sup>2</sup> 3d<sup>10</sup> 4p<sup>6</sup> 5s<sup>2</sup> 4d<sup>10</sup> 5p<sup>6</sup> 6s<sup>2</sup>**

**ملاحظة مهمة : على الطالب حفظ رموز العناصر العشرين الأولى من الجدول الدوري مع اعدادها الذرية والتي تبدأ بالهيدروجين وتنتهي بالكالسيوم وهي :**



العنصر	رمزه الكيميائي وعدده الذري	العنصر	رمزه الكيميائي وعدده الذري
هيدروجين	1H	صوديوم	11Na
هيليوم	2He	مغنيسيوم	12Mg
ليثيوم	3Li	المنيوم	13Al
بريليوم	4Be	سليكون	14Si
بورون	5B	فسفور	15P
كربون	6C	كبريت	16S
نتروجين	7N	كلور	17Cl
اوكسجين	8O	اركون	18Ar
فلور	9F	بوتاسيوم	19K
نيون	10Ne	كالسيوم	20Ca

والآن نتوكل على الله ونبدأ بحل الأسئلة

**س ١: ذرة عنصر مرتبة بها الإلكترونات كما يأتي :**  $1s^2 2s^2 2p^6 3s^2 3p^5$

١- ما عدد الكترونات العنصر ؟

٢- ما عدد الالكترونات المزدوجة ؟

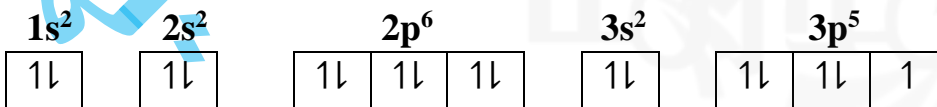
٣- ما عدد مستويات الطاقة الثانوية المملوءة بالالكترونات ؟

( ٢٠١٢ دور اول )

ج ١:

١- عدد الكترونات العنصر = 17 الكتروناً

٢-



عدد الإلكترونات المزدوجة = 16 الكتروناً

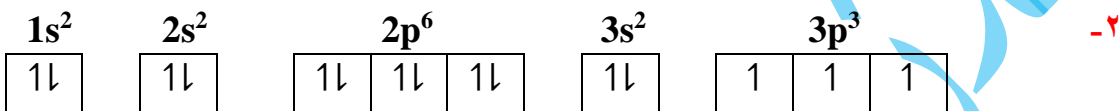
٣- عدد مستويات الطاقة الثانوية المملوءة بالالكترونات = 4 .

س٢: ذرة عنصر مرتبة بها الإلكترونات كما يأتي :  $1s^2 2s^2 2p^6 3s^2 3p^3$

- ١- ما عدد الكترولونات العنصر ؟
- ٢- ما عدد الالكترولونات المزدوجة ؟
- ٣- ما عدد الالكترولونات غير المزدوجة ؟
- ٤- ما عدد مستويات الطاقة الثانوية المملوءة بالالكترولونات ؟
- ٥- اكتب رمز لويس لهذه الذرة

( ٢٠١٥ دور ثاني )

ج٢: ١- عدد الكترولونات العنصر = 15 الكترولوناً



عدد الالكترولونات المزدوجة = 12 الكترولوناً

- ٣- عدد الالكترولونات غير المزدوجة = 3 الكترولونات
- ٤- عدد مستويات الطاقة الثانوية المملوءة بالالكترولونات = 4
- ٥- الذرة هي لعنصر الفسفور لذلك فإن رمز لويس هو :

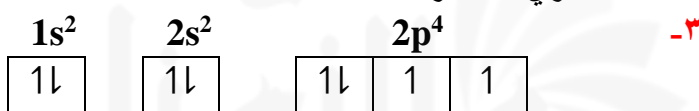


س٣: ذرة عنصر مرتبة بها الإلكترونات كما يأتي :  $1s^2 2s^2 2p^4$

- ١- ما عدد الكترولونات في هذه الذرة ؟
- ٢- ما العدد الذري لهذا العنصر ؟
- ٣- ما عدد مستويات الطاقة الثانوية المملوءة بالالكترولونات ؟
- ٤- ما عدد الالكترولونات غير المزدوجة ؟
- ٥- اكتب رمز لويس لهذه الذرة . ( ٢٠١٨ دور ثالث )

ج٣: ١- عدد الكترولونات العنصر = 8 الكترولونات

٢- العدد الذري للعنصر = 8



عدد مستويات الطاقة الثانوية المملوءة بالالكترولونات = 2

٤- عدد الالكترولونات غير المزدوجة = 2 الكترولوناً

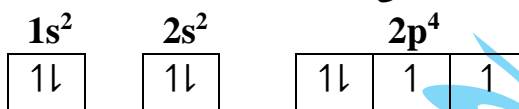
٥- الذرة هي لعنصر الأوكسجين لذلك فإن رمز لويس هو :



س ٤ : اكتب الترتيب الإلكتروني وكيفية توزيع الإلكترونات على الأوربيتالات لذرة عنصر الأوكسجين O (٢٠١٢ دور ثاني) ثم بين الزمرة والدورة ورمز لويس لتلك الذرة .

ج ٤ :

١- الترتيب الإلكتروني لذرة الأوكسجين  $1s^2 2s^2 2p^4$   
٢- توزيع الإلكترونات على الأوربيتالات



٣- من ملاحظة الترتيب الإلكتروني فإن الأوكسجين يقع في الدورة الثانية والزمرة السادسة .

٤- رمز لويس لذرة الأوكسجين هو :



س ٥ : إذا علمت ان العدد الذري لذرة عنصر السليكون يساوي ( 14 ) اجب عما يأتي :

١- اكتب الترتيب الإلكتروني للعنصر ٢- رقم الدورة والزمرة للعنصر

٣- رمز لويس لذرة العنصر (٢٠١٣ دور اول)

ج ٥ :

١- الترتيب الإلكتروني لذرة السليكون  $1s^2 2s^2 2p^6 3s^2 3p^2$

٢- من ملاحظة الترتيب الإلكتروني فإن السليكون يقع في الدورة الثالثة والزمرة الرابعة .

٣- رمز لويس لذرة السليكون هو :



س ٦ : إذا علمت ان العدد الذري لعنصر المغنيسيوم يساوي ( 12 ) اجب عما يأتي :

١- اكتب الترتيب الإلكتروني للعنصر ٢- ما رقم الدورة والزمرة للعنصر ؟

٣- اكتب رمز لويس لذرة العنصر ٤- ما عدد الإلكترونات غير المزدوجة لذرة العنصر ؟

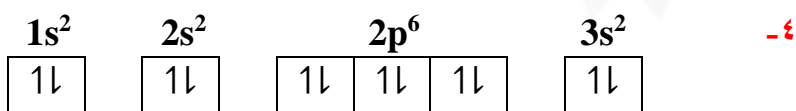
٥- ما عدد مستويات الطاقة الثانوية المملوءة بالإلكترونات ؟ (٢٠١٩ دور ثاني)

ج ٦ :

١- الترتيب الإلكتروني للعنصر  $1s^2 2s^2 2p^6 3s^2$

٢- المغنيسيوم يقع في الدورة الثالثة والزمرة الثانية

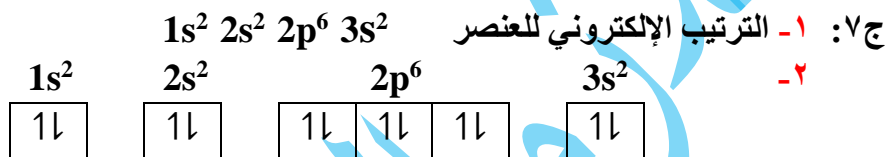
٣- رمز لويس لذرة المغنيسيوم هو :





عدد الإلكترونات غير المزدوجة = لا يوجد  
٥- عدد مستويات الطاقة الثانوية المملوءة بالإلكترونات = 4

س٧: عنصر عدده الذري ( 12 ) :  
١) اكتب الترتيب الإلكتروني له . ( ٢ ) ما عدد مستويات الطاقة الثانوية المملوءة بالإلكترونات ؟  
٣) ما عدد الإلكترونات غير المزدوجة فيه ؟ ( ٤ ) ما الدورة والزمرة التي يقع فيها ؟  
٥) اكتب رمز لويس لهذه الذرة . ( ٢٠١٨ دور اول )



عدد مستويات الطاقة الثانوية المملوءة بالإلكترونات = 4  
٣- عدد الإلكترونات غير المزدوجة = لا يوجد  
٤- من ملاحظة الترتيب الإلكتروني فإن العنصر يقع في الدورة الثالثة والزمرة الثانية .  
٥- الذرة هي لعنصر المغنيسيوم لذلك فإن رمز لويس هو :  $\cdot \text{Mg} \cdot$

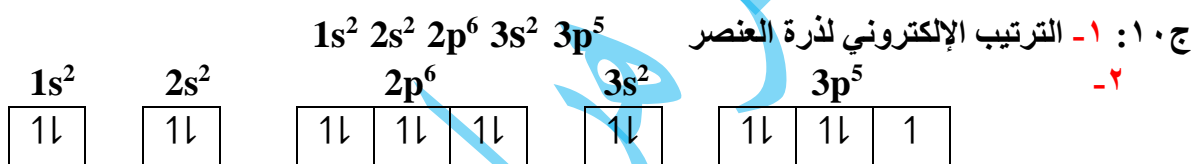
س٨: العنصران  $^{15}\text{P}$  ,  $^{12}\text{Mg}$   
١) اكتب الترتيب الإلكتروني لهما  
٤) ما الشيء المشترك بينهما ؟  
٣) رمز لويس لهما . ( ٢٠١٧ دور اول )

ج٨: ١- الترتيب الإلكتروني لذرة المغنيسيوم  $1s^2 2s^2 2p^6 3s^2$   
الترتيب الإلكتروني لذرة الفسفور  $1s^2 2s^2 2p^6 3s^2 3p^3$   
٢- من ملاحظة الترتيب الإلكتروني فإن المغنيسيوم يقع في الدورة الثالثة والزمرة الثانية .  
ومن ملاحظة الترتيب الإلكتروني فإن الفسفور يقع في الدورة الثالثة والزمرة الخامسة .  
٣- رمز لويس لذرة المغنيسيوم هو :  $\cdot \text{Mg} \cdot$  ورمز لويس لذرة الفسفور هو :  $\cdot \text{P} \cdot$   
٤- الشيء المشترك بينهما هو ان كلا العنصرين يقعان في دورة واحدة هي الدورة الثالثة .

س٩: العنصران  $^{17}\text{Cl}$  ,  $^{11}\text{Na}$   
١) اكتب الترتيب الإلكتروني لهما  
٤) أيهما أكبر نصف قطر ذري .  
٢) الدورة والزمرة لهما  
٥) ما الشيء المشترك بينهما ؟ ( ٢٠١٧ دور ثاني )  
٣) رمز لويس لهما .

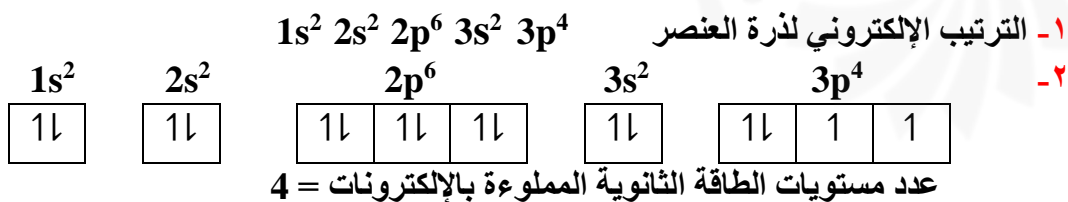
- ج ٩: ١- الترتيب الإلكتروني لذرة الصوديوم  $1s^2 2s^2 2p^6 3s^1$   
 الترتيب الإلكتروني لذرة الكلور  $1s^2 2s^2 2p^6 3s^2 3p^5$   
 ٢- من ملاحظة الترتيب الإلكتروني فإن الصوديوم يقع في الدورة الثالثة والزمرة الأولى .  
 ومن ملاحظة الترتيب الإلكتروني فإن الكلور يقع في الدورة الثالثة والزمرة السابعة .  
 ٣- رمز لويس لذرة الصوديوم هو :  $Na \cdot$  ورمز لويس لذرة الكلور هو :  $:\ddot{Cl} \cdot$   
 ٤- بما أن العنصرين يقعان في دورة واحدة هي الدورة الثالثة فإن نصف القطر الذري يقل كلما زاد  
 العدد الذري لعناصر الدورة الواحدة لذا فإن الصوديوم أكبر نصف قطر ذري من الكلور .  
 ٥- الشيء المشترك بينهما هو ان كلا العنصرين يقعان في دورة واحدة هي الدورة الثالثة .

- س ١٠: عنصر عدده الذري ( 17 ) :  
 (١) اكتب الترتيب الإلكتروني له .  
 (٢) عدد الإلكترونات غير المزدوجة .  
 (٣) رمز لويس له .  
 (٤) عدد مستويات الطاقة الثانوية المملوءة بالإلكترونات . ( ٢٠١٨ دور ثاني )



- عدد الإلكترونات غير المزدوجة = 1  
 ٣- الذرة هي لعنصر الكلور لذلك فإن رمز لويس هو :  $:\ddot{Cl} \cdot$   
 ٤- عدد مستويات الطاقة الثانوية المملوءة بالإلكترونات = 4

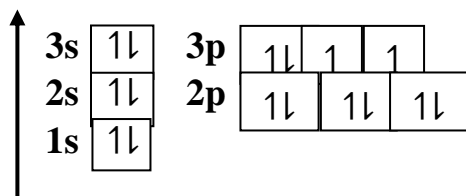
- س ١١: عنصر عدده الذري ( 16 ) :  
 (١) اكتب الترتيب الإلكتروني له .  
 (٢) ما عدد مستويات الطاقة الثانوية المملوءة بالإلكترونات ؟  
 (٣) ما عدد الإلكترونات غير المزدوجة فيه ؟  
 (٤) رمز لويس للذرة .  
 (٥) ترتيب مستويات الطاقة الرئيسية حسب تدرجها من الأقل الى الأعلى طاقة . ( ٢٠١٩ دور اول )



٣- عدد الإلكترونات غير المزدوجة = 2

٤- الذرة هي لعنصر الكبريت لذلك فإن رمز لويس هو :  $\cdot\ddot{S}\cdot$

٥- ترتيب مستويات الطاقة الرئيسية حسب تدرجها من الأقل الى الأعلى طاقة .



س ١٢ : ما الشيء المشترك بين مواقع العناصر التالية في الجدول الدوري؟

(٢٠١٨ دور اول)

$^{15}\text{P}$  ,  $^{14}\text{Si}$

ج ١٢ : الترتيب الإلكتروني لذرة الفسفور  $^{15}\text{P}$  :  $1s^2 2s^2 2p^6 3s^2 3p^3$

الفسفور يقع في الدورة الثالثة والزمرة الخامسة .

الترتيب الإلكتروني لذرة السليكون  $^{14}\text{Si}$  :  $1s^2 2s^2 2p^6 3s^2 3p^2$

السليكون يقع في الدورة الثالثة والزمرة الرابعة .

الشيء المشترك بينهما هو ان كلا العنصرين يقعان في دورة واحدة هي الدورة الثالثة .

س ١٣ : ما الدورة والزمرة التي يقع فيها كل عنصر من العنصرين الآتيين :

(٢٠١٤ دور ثاني) (٢٠١٦ دور اول)

$^6\text{C}$  ,  $^{13}\text{Al}$

ج ١٣ : الترتيب الإلكتروني لذرة الكربون  $^6\text{C}$  :  $1s^2 2s^2 2p^2$

الكربون يقع في الدورة الثانية والزمرة الرابعة .

الترتيب الإلكتروني لذرة الألمنيوم  $^{13}\text{Al}$  :  $1s^2 2s^2 2p^6 3s^2 3p^1$

الألمنيوم يقع في الدورة الثالثة والزمرة الثالثة

س ١٤ : ما الدورة والزمرة ورمز لويس للعناصر :  $^{19}\text{K}$  ,  $^8\text{O}$  (٢٠١٥ دور اول) (٢٠١٦ دور اول)

ج ١٤ :

➤ الترتيب الإلكتروني لذرة الأوكسجين  $^8\text{O}$  :  $1s^2 2s^2 2p^4$

الأوكسجين يقع في الدورة الثانية والزمرة السادسة .

رمز لويس للأوكسجين :



➤ الترتيب الإلكتروني لذرة البوتاسيوم  $^{19}\text{K}$  :  $1s^2 2s^2 2p^6 3s^2 3p^6 4s^1$

البوتاسيوم يقع في الدورة الرابعة والزمرة الأولى .

رمز لويس للبوتاسيوم :  $K\cdot$

س ١٥ : ما الدورة والزمرة التي يقع فيها كل من العناصر الآتية ؟ ثم اكتب رمز لويس لكل منها :

( ٢٠١٦ دور ثالث )

$19K$  ,  $10Ne$  ,  $17Cl$  ,  $8O$

ج ١٥ :

➤ الترتيب الإلكتروني لذرة الأوكسجين  $8O$  :  $1s^2 2s^2 2p^4$

الأوكسجين يقع في الدورة الثانية والزمرة السادسة .

رمز لويس للأوكسجين :



➤ الترتيب الإلكتروني لذرة الكلور  $17Cl$  :  $1s^2 2s^2 2p^6 3s^2 3p^5$

الكلور يقع في الدورة الثالثة والزمرة السابعة .

رمز لويس للكلور :



➤ الترتيب الإلكتروني لذرة النيون  $10Ne$  :  $1s^2 2s^2 2p^6$

النيون يقع في الدورة الثانية والزمرة الثامنة .

رمز لويس للنيون :



➤ الترتيب الإلكتروني لذرة البوتاسيوم  $19K$  :  $1s^2 2s^2 2p^6 3s^2 3p^6 4s^1$

البوتاسيوم يقع في الدورة الرابعة والزمرة الأولى .

رمز لويس للبوتاسيوم :  $K\cdot$

س ١٦ : اذكر عدد الإلكترونات في كل مستوى طاقة رئيسي حول نوى العناصر .

( ٢٠١٨ دور ثاني )

$10Ne$  ,  $5B$

ج ١٦ :

➤ الترتيب الإلكتروني لذرة البورون  $5B$  :  $1s^2 2s^2 2p^1$

عدد الإلكترونات في مستوى الطاقة الرئيسي الأول في ذرة البورون = 2

عدد الإلكترونات في مستوى الطاقة الرئيسي الثاني في ذرة البورون = 3

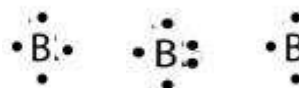
➤ الترتيب الإلكتروني لذرة النيون  $10Ne$  :  $1s^2 2s^2 2p^6$

عدد الإلكترونات في مستوى الطاقة الرئيسي الأول في ذرة النيون = 2

عدد الإلكترونات في مستوى الطاقة الرئيسي الثاني في ذرة النيون = 8

س١٧: اختر الأنسب من بين القوسين : ١- ان رمز لويس لذرة البورون sB هو :

( ٢٠١٤ دور ثاني )



ج١٧:

الترتيب الإلكتروني لذرة البورون sB :  $1s^2 2s^2 2p^1$  :  
لذلك فإن الاختيار الصحيح هو :



س١٨: ذرة عنصر الكربون مرتبة بها الإلكترونات كما يأتي :  $1s^2 2s^2 2p^2$  فإن رمز لويس لها :  
( ٢٠١٦ دور ثاني ) ( ٢٠١٧ دور ثاني )



ج١٨: الاختيار الصحيح هو :



س١٩: بين كيفية ترتيب الإلكترونات في اوربيتالات المستويات الثانوية التالية التي تحتوي على عدد من  
الإلكترونات :  $d^3 , p^5 , f^6 , s^0 , p^2$  ( ٢٠١٨ دور ثالث )

ج١٩:

$d^3$	1	1	1			
$p^5$	1↓	1↓	1			
$f^6$	1	1	1	1	1	1
$s^0$						
$p^2$	1	1				

س٢٠: رتب العناصر الآتية حسب زيادة انصاف اقطارها الذرية:

( ٢٠١٣ دور اول )

$S_{16} , Mg_{12} , Cl_{17} , Al_{13}$

ج٢٠: نكتب الترتيب الإلكتروني للعناصر كي نعرف ان كانت في دورة واحدة ام في زمرة واحدة

➤ الترتيب الإلكتروني لذرة الألمنيوم  $13\text{Al}$  :  $1s^2 2s^2 2p^6 3s^2 3p^1$   
الألمنيوم يقع في الدورة الثالثة والزمرة الثالثة .

➤ الترتيب الإلكتروني لذرة الكبريت  $16\text{S}$  :  $1s^2 2s^2 2p^6 3s^2 3p^4$   
الكبريت يقع في الدورة الثالثة والزمرة السادسة .

➤ الترتيب الإلكتروني لذرة المغنيسيوم  $12\text{Mg}$  :  $1s^2 2s^2 2p^6 3s^2$   
المغنيسيوم يقع في الدورة الثالثة والزمرة الثانية .

➤ الترتيب الإلكتروني لذرة الكلور  $17\text{Cl}$  :  $1s^2 2s^2 2p^6 3s^2 3p^5$   
الكلور يقع في الدورة الثالثة والزمرة السابعة .

بما أن جميع العناصر تقع في دورة واحدة هي الدورة الثالثة فإن نصف القطر الذري يقل كلما زاد العدد الذري لعناصر الدورة الواحدة فيكون ترتيبها  $17\text{Cl} < 16\text{S} < 13\text{Al} < 12\text{Mg}$

س ٢١: رتب العناصر الآتية حسب زيادة انصاف اقطارها الذرية:

( ٢٠١٣ دور ثالث )

$20\text{Ca}$  ,  $12\text{Mg}$  ,  $4\text{Be}$

ج ٢١: نكتب الترتيب الإلكتروني للعناصر كي نعرف ان كانت في دورة واحدة ام في زمرة واحدة

➤ الترتيب الإلكتروني لذرة البريليوم  $4\text{Be}$  :  $1s^2 2s^2$   
البريليوم يقع في الدورة الثانية والزمرة الثانية .

➤ الترتيب الإلكتروني لذرة المغنيسيوم  $12\text{Mg}$  :  $1s^2 2s^2 2p^6 3s^2$   
المغنيسيوم يقع في الدورة الثالثة والزمرة الثانية .

➤ الترتيب الإلكتروني لذرة الكالسيوم  $20\text{Ca}$  :  $1s^2 2s^2 2p^6 3s^2 3p^6 4s^2$   
الكالسيوم يقع في الدورة الرابعة والزمرة الثانية .

بما أن جميع العناصر تقع في زمرة واحدة هي الزمرة الثانية فإن نصف القطر الذري يزيد كلما زاد العدد الذري لعناصر الزمرة الواحدة فيكون ترتيبها  $4\text{Be} < 12\text{Mg} < 20\text{Ca}$

س ٢٢: رتب العناصر الآتية وفق نقصان حجمها الذري :

$18\text{Ar}$  ,  $10\text{Ne}$  ,  $2\text{He}$  ( ٢٥٢٠١٣ ) ( ١٥٢٠١٤ ) ( ٢٥٢٠١٦ ) ( ٢٥٢٠١٧ )

ج ٢٢:

➤ الترتيب الإلكتروني لذرة الأركون  $18\text{Ar}$  :  $1s^2 2s^2 2p^6 3s^2 3p^6$

الكبريت يقع في الدورة الثالثة والزمرة الثامنة أو تسمى احياناً الزمرة ( 0 ) .

➤ الترتيب الإلكتروني لذرة النيون  $10\text{Ne}$  :  $1s^2 2s^2 2p^6$

النيون يقع في الدورة الثانية والزمرة الثامنة أو تسمى احياناً الزمرة ( 0 ) .

➤ الترتيب الإلكتروني لذرة الهيليوم  $2\text{He}$  :  $1s^2$

الهيليوم يقع في الدورة الأولى والزمرة الثامنة أو تسمى احياناً الزمرة ( 0 ) .

بما أن جميع العناصر تقع في زمرة واحدة هي الزمرة الثامنة فإن نصف القطر الذري يزداد كلما زاد العدد الذري لعناصر الزمرة الواحدة فيكون ترتيبها  $18\text{Ar} > 10\text{Ne} > 2\text{He}$

س٢٣: رتب العناصر التالية حسب زيادة انصاف اقطارها الذرية :

(٢٠١٩ دور ثاني)

$3\text{Li}$  ,  $6\text{C}$  ,  $8\text{O}$  ,  $9\text{F}$

ج٢٣:

➤ الترتيب الإلكتروني لذرة الليثيوم  $3\text{Li}$  :  $1s^2 2s^1$

الليثيوم يقع في الدورة الثانية والزمرة الأولى .

➤ الترتيب الإلكتروني لذرة الكربون  $6\text{C}$  :  $1s^2 2s^2 2p^2$

الكربون يقع في الدورة الثانية والزمرة الرابعة .

➤ الترتيب الإلكتروني لذرة الأوكسجين  $8\text{O}$  :  $1s^2 2s^2 2p^4$

الأوكسجين يقع في الدورة الثانية والزمرة السادسة .

➤ الترتيب الإلكتروني لذرة الفلور  $9\text{F}$  :  $1s^2 2s^2 2p^5$

الفلور يقع في الدورة الثانية والزمرة السابعة .

بما أن جميع العناصر تقع في دورة واحدة هي الدورة الثانية فإن نصف القطر الذري يقل كلما زاد العدد الذري لعناصر الدورة الواحدة فيكون ترتيبها  $9\text{F} < 8\text{O} < 6\text{C} < 3\text{Li}$

**الأسئلة الشرحية ( الكلامية )**

س ١: اجب عن اثنين مما يأتي : ٢- تكلم عن نموذج دالتون للذرة . ( ٢٠١٩ دور ثاني )

ج ١: في بداية القرن التاسع عشر تصور العالم دالتون الذرة على هيئة كرة دقيقة صلبة غير قابلة للإنقسام ، وأن لكل عنصر نوع من الذرات الخاصة به ، وأن هذه الذرات ترتبط بطرائق بسيطة لتكوين الذرات المركبة .

س ٢: ما هو نموذج ثومسون للذرة ؟ ( ٢٠١٦ دور اول )

س ٣: اجب عن اثنين مما يأتي : ١- تكلم عن نموذج ثومسون للذرة . ( ٢٠١٨ دور ثالث )

ج ٢/٣: قدم العالم ثومسون تصوراً للذرة ( بعد اكتشافه ان الذرة تتكون من جسيمات اصغر تحمل شحنات سالبة اطلق عليه اسم الإلكترونات ) ، بأنها كرة موجبة الشحنة تلتصق عليها الإلكترونات السالبة الشحنة التي تعادل الشحنة الموجبة للكرة لذا فإنها متعادلة الشحنة .

س ٤: أذكر تصور نموذج رذرفورد للبناء الذري ثم بين لماذا فشل هذا التصور ؟ ( ٢٠١٧ دور ثاني )

ج ٤: قدم العالم رذرفورد تصوره بأن :

- ١ . البروتونات متركزة في حجم صغير في وسط الذرة أطلق عليه اسم النواة .
  - ٢ . النواة تحتوي على معظم كتلة الذرة .
  - ٣ . الإلكترونات تدور حول النواة لذا فإن أغلب حجم الذرة فراغ .
  - ٤ . عدد الإلكترونات السالبة التي تدور حول النواة تعادل الشحنات الموجبة للبروتونات .
  - ٥ . الإلكترونات تدور بسرعة كبيرة وفي مدارات مختلفة البعد عن النواة كما تدور الكواكب حول الشمس لذا سمي هذا النموذج بالنموذج الكوكبي .
- سبب فشل هذا التصور أننا نفترض أن للإلكترون حالتين لا ثالث لهما وهما :
- ١ . أن الإلكترونات السالبة ساكنة فإنها سوف تنجذب إلى النواة المخالفة لها بالشحنة .
  - ٢ . أن الألكترونات السالبة في حالة حركة ، وبما أن الشحنات الكهربائية المتحركة تحت تأثير قوة جذب تطلق طاقة إذن سوف ينتج نتيجة لذلك فقدان في طاقة الإلكترون المتحرك فتبطأ حركته مما يجعله يلف لوليباً وبالتالي يكون غير قادر على مقاومة جذب النواة ويسقط في النواة .
- في كلتا الحالتين نجد أن الذرة سوف تنهار ، وبما أن الذرات لا تنهار لذلك فشل هذا التصور .

س ٥: ما اهم فروض النظرية الذرية الحديثة والتي هي نموذج معدل لنموذج بور حول تفسيره للذرة ؟ ( ٢٠١٢ دور ثاني ) ( ٢٠١٨ دور اول )



س٦: اجب عن اثنين مما يأتي : ١- عدد فروض النظرية الذرية الحديثة .

( ٢٠١٦ دور ثاني ) ( ٢٠١٧ دور ثاني )

ج٥/٦: تتلخص اهم فروض النظرية الذرية الحديثة بما يلي :

- ١- تتكون الذرة من نواة تحيط بها الكترونات ذات مستويات مختلفة من الطاقة .
- ٢- تدور الإلكترونات حول النواة على مسافات بعيدة عنها ( نسبة لحجم الذرة ) في مستويات الطاقة ويعبر عن هذه المستويات بـ ( اعداد الكم الرئيسية ) .

س٧: املأ الفراغات الآتية لاثنين مما يأتي :

- ٢- افترضت النظرية الذرية الحديثة ان الذرة تتكون من نواة تحيط بها ..... ذوات مستويات مختلفة من الطاقة

( ٢٠١٢ دور اول )

ج٧: الكترونات

س٨: اكمل الفراغات الآتية بما يناسبها :

- ١- مستوى الطاقة الرئيسي الثاني يحتوي على اقصى عدد من الإلكترونات مقداره .....

( ٢٠١٨ دور ثالث )

ج٨: ٨ الكترونات

- س٩: ضع كلمة ( صح ) امام العبارات الصحيحة وكلمة ( خطأ ) امام العبارات غير الصحيحة ثم صحح الخطأ ان وجد ( لاثنين فقط ): ٢- احتواء المستوى ( d ) على خمسة اوربيتالات . ( ٢٠١٣ دور ثاني )

ج٩: صح

( ٢٠١٨ دور اول )

س١٠: املأ الفراغات الآتية بما يناسبها ( لاثنين فقط ):

- ٢- مستوى الطاقة الثانوي  $F$  يحتوي على عدد من الاوربيتالات مقدارها .....

س١١: اختر من بين الأقواس ما يناسب التعابير الآتية :

- (١) مستوى الطاقة الثانوي  $F$  يحتوي على عدد من الاوربيتالات ( 3 , 5 , 7 ) ( ٢٠١٦ دور ثالث )

ج١٠/١١: 7 اوربيتالات

س١٢: علل ثلاث فقط مما يأتي :

- ١- عدم حصول التنافر الالكتروني لإلكتروني الاوربيتال الواحد . ( ٢٠١٧ دور اول ) ( ٢٠١٨ دور ثاني )

ج١٢: لأنه عند ازدواج الكترولين في اوربيتال فإن احدهما سوف يبرم عكس الآخر مما يلغي تنافرهما .

س١٣ : عرف اثنين فقط: ٣- مبدأ اوفباو (٢٠١٣ دور ثالث)(٢٠١٦ دور ثاني)(٢٠١٧ دور اول )  
ج١٣:

مبدأ اوفباو : مستويات الطاقة الثانوية تملأ بالإلكترونات حسب تسلسل طاقتها من الأوطأ الى الأعلى .

س١٤ : عرف اثنين مما يأتي : ١- قاعدة هوند (٢٠١٥ دور ثاني)(٢٠١٦ دور ثالث)(٢٠١٩ دور ثاني)  
ج١٤ : قاعدة هوند : لا يحدث ازدواج بين الكترونين في مستوى الطاقة الثانوي إلا بعد ان تشغل اوربيتالاته فرادا اولاً .

س١٥ : عرف اثنين مما يأتي : ٢- رمز لويس (٢٠١٢ دور اول )  
ج١٥ : هو طريقة صورية تمثل رمز العنصر الكيميائي محاطاً بنقاط تمثل كل نقطة الكترونأ واحداً وتمثل كل نقطتين زوجاً الكترونياً ويتم توزيعها بحيث لا يزيد عددها عن نقطتين في كل جهة من الجهات الأربع للرمز ويعتمد عدد النقاط على عدد الإلكترونات الموجودة في الغلاف الخارجي لذرة العنصر .

س١٦ : عرف ثلاثا مما يأتي : ١- نصف القطر الذري (٢٠١٨ دور ثالث )  
ج١٦ : نصف القطر الذري : نصف المسافة بين نواتي ذرتين متماثلتين متحدتين كيميائياً .

س١٧ : ضع كلمة ( صح ) امام العبارات الصحيحة وكلمة ( خطأ ) امام العبارات غير الصحيحة ثم صحح الخطأ ان وجد (لإثنين فقط) :  
٢- يزداد نصف قطر العناصر ضمن الدورة الواحدة كلما زاد عددها الذري . (٢٠١٩ دور اول )  
ج١٧ : خطأ ، كلما قل العدد الذري

س١٨ : عرف اثنين مما يأتي : ٣- طاقة التأين . (٢٠١٤ دور ثاني )  
ج١٨ : طاقة التأين : مقدار الطاقة اللازمة لنزع الكترون واحد من مستوى الطاقة الخارجي لذرة عنصر معين متعادلة الشحنة في حالتها الغازية .

س١٩ : املأ الفراغات الاتية ( لإثنين فقط) : (٢٠١٥ دور ثاني)(٢٠١٦ دور ثالث) (٢٠١٩ دور اول)  
١- الطاقة اللازمة لنزع الالكترتون من ذرة معينة تسمى .....  
ج١٩ : طاقة التأين

س٢٠ : عرف اثنين مما يأتي : ٣- الالفة الالكترونية (٢٠١٤ دور اول)(٢٠١٥ دور اول)(٢٠١٦ دور اول)  
ج٢٠ : الالفة الإلكترونية : قابلية الذرة المتعادلة كهربائياً في الحالة الغازية على اكتساب الكترون واحد وتحرير مقدار من الطاقة .

س ٢١ : املأ الفراغات الاتية بما يناسبها ( الإجابة عن ثلاثة ) :  
١- قابلية الذرة المتعادلة كهربائيا في الحالة الغازية على اكتساب الكترون واحد وتحرير مقدار من الطاقة تعرف بـ .....  
( ٢٠١٧ دور اول )

ج ٢١ : الألفة الإلكترونية

س ٢٢ : املأ الفراغات الاتية بما يناسبها لاثنين فقط :  
١- تزداد اللفة الإلكترونية في الدورات .....  
( ٢٠١٣ دور ثاني )  
ج ٢٢ : كلما زاد العدد الذري

س ٢٣ : عرف ثلاثة مما يأتي : ١- الكهرسلبية  
ج ٢٣ : الكهرسلبية : هي قدرة الذرة على جذب الكترولونات التآصر نحوها في أي مركب كيميائي .  
( ٢٠١٨ دور ثاني )

س ٢٤ : املأ الفراغات الاتية بما يناسبها ( لاثنين فقط ) :  
١- ..... هي قدرة الذرة على جذب الكترولونات التآصر نحوها في أي مركب .  
( ٢٠١٤ دور اول )  
ج ٢٤ : الكهرسلبية



07730763646 // 07834663646

( ٢٠١٩ - ٢٠١٢ ) الأمانة العامة للوزارة

المدرس في ثانوية الفيض للبنين


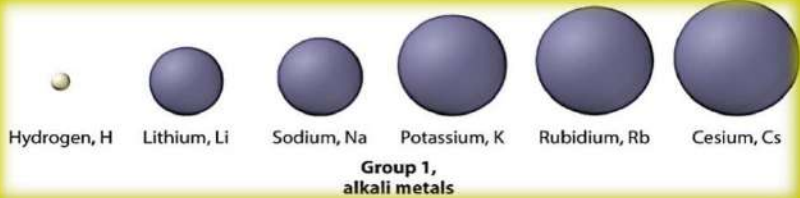
اعداد وترتيب : **أبو الزهراء محمد خليفة الرومي**

# الفصل الثاني: الزمرتان الأولى والثانية

## The Alkali metals

1	H
1.00797	3
Li	1s <sup>2</sup> , 2s <sup>1</sup>
6.941	
11	Na
22.98977	19
K	[Ar], 4s <sup>1</sup>
39.098	37
Rb	[Kr], 5s <sup>1</sup>
85.47	55
Cs	[Xe], 6s <sup>1</sup>
132.905	87
Fr	[Ra], 7s <sup>1</sup>
(223)	

1s<sup>1</sup> ← When Hydrogen loses its one electron, it becomes a bare proton, H<sup>+</sup>



## The Alkaline Earth Elements

4	Be
9.0122	12
Mg	1s <sup>2</sup> , 2s <sup>2</sup> , 2p <sup>6</sup> , 3s <sup>2</sup>
24.305	20
Ca	[Ar], 4s <sup>2</sup>
40.08	38
Sr	[Kr], 5s <sup>2</sup>
87.62	56
Ba	[Xe], 6s <sup>2</sup>
137.53	88
Ra	[Rn], 7s <sup>2</sup>
226.0254	

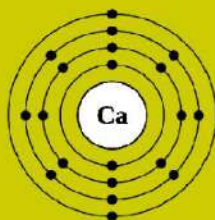
1s<sup>2</sup>, 2s<sup>2</sup>

1s<sup>2</sup>, 2s<sup>2</sup>, 2p<sup>6</sup>, 3s<sup>2</sup>



20: Calcium    2,8,8,2

2019 - 2020



minerals  
**CALCIUM**

Food sources of calcium include dairy products, green leafy vegetables and salmon and sardines

## الفصل الثاني : الزمرتان الأولى والثانية

### أسئلة المعادلات الكيميائية

#### نصائح مهمة لك عزيزي الطالب :

- اعلم عزيزي الطالب ان المعادلات الكيميائية لا تحفظ وانما تفهم طريقة كتابتها بحيث انك لو طلب منك ان تشرح أي تفاعل كيميائي فإنك تستطيع كتابة معادلات هذا التفاعل من خلال أسماء المواد المتفاعلة ( سواء كانت عناصر او مركبات ) المذكورة في شرح التفاعل وتحويلها من كلام مشروح الى صيغ كيميائية موزونة ، وذلك كله لا يتم إلا بمعرفة **طريقة كتابة المعادلات الكيميائية** والتي تتلخص فيما يأتي :
- ❖ من الضروري جداً حفظ اعداد التأكسد لأهم الأيونات ( سواء كانت ايونات عناصر مثل  $\text{Na}^{+1}$  ,  $\text{Ca}^{+2}$  ,  $\text{K}^{+1}$  او ايونات لمجموعات ذرية مثل  $\text{SO}_4^{-2}$  ,  $\text{OH}^{-1}$  ,  $\text{NO}^{-1}$  ) وستجد في الصفحة التالية جدولاً بأهم الأيونات الشائعة الاستخدام في المعادلات الكيميائية .
  - ❖ المعادلات الكيميائية تتكون من مركبات تتفاعل مع بعضها او عناصر مع بعضها او من كليهما معاً
  - ❖ مع العناصر لا نستخدم اعداد التأكسد وانما يكتب العنصر المذكور في التفاعل برمزه الكيميائي فقط لكن هناك عناصر لا يصح كتابتها بذرة واحدة فقط وانما تكتب ثنائية الذرة مثل :
    - (  $\text{P}_4$  )
    - (  $\text{H}_2$  ,  $\text{O}_2$  ,  $\text{N}_2$  ,  $\text{Cl}_2$  ,  $\text{F}_2$  ,  $\text{I}_2$  ,  $\text{Br}_2$  )
  - ❖ مع المركبات نستخدم اعداد التأكسد لكتابة الصيغة الكيميائية الصحيحة للمركب وكما يلي :
    - ١- يكتب الأيون الموجب على اليسار والأيون السالب على اليمين فمثلاً مركب ( كلوريد الصوديوم )  $\text{NaCl}$
    - ٢- بعد كتابة الأيونات بالترتيب أعلاه نضع فوق كل ايون عدد التأكسد الخاص به وهنا لدينا حالتان
      - إذا كان عدد التأكسد الموجب = عدد التأكسد السالب فالصيغة متوازنة فما علينا إلا ان نمسح اعداد التأكسد ونبقي الصيغة كما هي بدون أي ارقام  $\text{Na}^{+1}\text{Cl}^{-1} = \text{NaCl}$
      - إذا كان عدد التأكسد الموجب  $\neq$  عدد التأكسد السالب فالصيغة غير متوازنة لذلك نحتاج ان نوازنها باستخدام **طريقة التقاطع** ( مبادلة أماكن الأرقام بدون الإشارات ) كما يأتي :
 

**مثال :** اكتب الصيغ الكيميائية الصحيحة للمركبات الآتية :

أوكسيد الصوديوم ، كبريتيد البوتاسيوم ، كلوريد المغنسيوم ، فلوريد الألمنيوم ،  
كاربونات الصوديوم ، فوسفات الكالسيوم ، هيدروكسيد الكالسيوم :

**الحل :**

أوكسيد الصوديوم  $\text{NaO} \rightarrow \text{Na}^{+1}\text{O}^{-2} \rightarrow \text{Na}_2\text{O}_1 \rightarrow \text{Na}_2\text{O}$

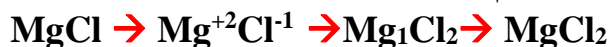
**لاحظ أن ( 1 ) يهمل**

كبريتيد البوتاسيوم



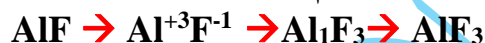
لاحظ أن ( 1 ) يهمل

كلوريد المغنسيوم



لاحظ أن ( 1 ) يهمل

فلوريد الألمنيوم



لاحظ أن ( 1 ) يهمل

كاربونات الصوديوم

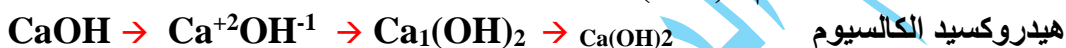


لاحظ ( 1 ) يهمل وان المجموعة الذرية اذا وضعنا رقم بعدها فيجب وضعها داخل قوس

ثم وضع الرقم



فوسفات الكالسيوم



هيدروكسيد الكالسيوم

٣- بعد الإنتهاء من كتابة الصيغ الكيميائية الصحيحة للعناصر والمركبات المشتركة في التفاعل نقوم بالخطوة الأخيرة في المعادلة الكيميائية وهي موازنة المعادلة وفقاً لقانون حفظ الكتلة الذي ينص على أن ( كتلة المواد الناتجة = كتلة المواد المتفاعلة ) وهذا يعني ان نقارن عدد الذرات الداخلة في التفاعل لكل عنصر مع عدد الذرات الناتجة من التفاعل لنفس العنصر حتى يتساوى العدد في طرفي المعادلة .

٤- موازنة المعادلة تتم بطريقة الخطوط و بإضافة الرقم المطلوب يسار رمز المادة ولا يصح ان نضعه في منتصف الرمز او بعده ، وكما في الأمثلة التالية :

مثال : اكمل ووازن المعادلات الآتية : غاز الكلور + صوديوم

➤  $Na + Cl \rightarrow NaCl$  نحول أسماء المواد المتفاعلة الى رموزها **الجواب :**

➤  $Na + Cl_2 \rightarrow Na^{+1}Cl^{-1}$  نكتب العناصر ثنائية الذرة ونضع اعداد التأكسد فوق المركبات فقط

➤  $Na + Cl_2 \rightarrow NaCl$  نلاحظ ان الموجب = السالب لذلك المركب موزون فلا نضيف له أي رقم



➤ لاحظنا ان الكلور لم يتساوى في طرفي المعادلة لذلك قمنا بإضافة 2 يسار المركب لكن الصوديوم كذلك اصبح ذرتين لذلك اضفنا الرقم 2 يسار ذرة الصوديوم

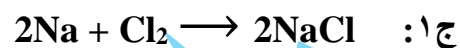
## اعداد التأكسد التي يجب على الطالب حفظها لكتابة الصيغة الكيميائية لأي مركب

4+	3+	2+	1+
Pb <sup>+4</sup> (IV) رصاص Mn <sup>+4</sup> (IV) منغنيز Sn <sup>+4</sup> (IV) قصدير	Al <sup>+3</sup> المنيوم Fe <sup>+3</sup> (III) حديدك	Zn <sup>+2</sup> خارصين Ba <sup>+2</sup> باريوم Ca <sup>+2</sup> كالسيوم Mg <sup>+2</sup> مغنيسيوم Fe <sup>+2</sup> (II) حديدوز Pb <sup>+2</sup> (II) رصاص Cu <sup>+2</sup> (II) نحاس Hg <sup>+2</sup> (II) زئبق Sn <sup>+2</sup> (II) قصدير	H <sup>+1</sup> هيدروجين Na <sup>+1</sup> صوديوم K <sup>+1</sup> بوتاسيوم Li <sup>+1</sup> ليثيوم NH <sup>+1</sup> امونيوم Ag <sup>+1</sup> فضة Cu <sup>+1</sup> نحاس
	3-	2-	1-
	N <sup>-3</sup> نتروجين PO <sub>4</sub> <sup>-3</sup> فوسفات	O <sup>-2</sup> اوكسيد S <sup>-2</sup> كبريتيد SO <sub>4</sub> <sup>-2</sup> كبريتات SO <sub>3</sub> <sup>-2</sup> كبريتيت SiO <sub>3</sub> <sup>-2</sup> سليكات CO <sub>3</sub> <sup>-2</sup> كاريونات	Cl <sup>-1</sup> كلوريد F <sup>-1</sup> فلوريد I <sup>-1</sup> يوديد Br <sup>-1</sup> بروميد OH <sup>-1</sup> هيدروكسيد NO <sub>2</sub> <sup>-1</sup> نتريت NO <sub>3</sub> <sup>-1</sup> نترات ClO <sub>3</sub> <sup>-1</sup> كلورات CH <sub>3</sub> COO <sup>-1</sup> خلات كاربونات هيدروجينية (بيكاربونات) HCO <sub>3</sub> <sup>-1</sup> كبريتات هيدروجينية HSO <sub>4</sub> <sup>-1</sup>

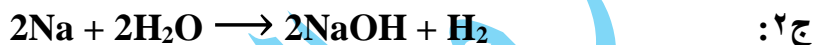
القواعد المشهورة		الحوامض المشهورة	
NaOH	هيدروكسيد الصوديوم	HCl	حامض الهيدروكلوريك
KOH	هيدروكسيد البوتاسيوم	HNO <sub>3</sub>	حامض النتريك
NH <sub>4</sub> OH	هيدروكسيد الأمونيوم	H <sub>2</sub> SO <sub>4</sub>	حامض الكبريتيك
Ca(OH) <sub>2</sub>	هيدروكسيد الكالسيوم	H <sub>3</sub> PO <sub>4</sub>	حامض الفسفوريك
Zn(OH) <sub>2</sub>	هيدروكسيد الخارصين	CH <sub>3</sub> COOH	حامض الخليك

### اسئلة المعادلات الكيميائية

س ١ : اكمل وعبر عن اثنين من التفاعلات الآتية بمعادلات كيميائية متوازنة :  
غاز الكلور + صوديوم  $\longrightarrow$  ( ٢٠١٦ دور اول )



س ٢ : اكمل ووازن معادلات التفاعلات الآتية :  
( ٢٠١٦ دور ثالث ) ( ٢٠١٩ دور ثاني )  $\text{Na} + \text{H}_2\text{O} \longrightarrow$



س ٣ : عبر عن اثنين من التفاعلات الآتية بمعادلات كيميائية متوازنة :  
كلوريد الألمنيوم + الصوديوم  $\longrightarrow$  ( ٢٠١٩ دور اول )

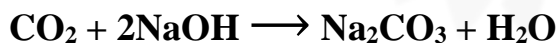


س ٤ : عبر عن اثنين من التفاعلات الآتية بمعادلات كيميائية متوازنة :  
هيدروكسيد الصوديوم + ثنائي أوكسيد الكربون  $\longrightarrow$  ( ٢٠١٢ دور اول )  
( ٢٠١٣ دور اول ) ( ٢٠١٤ دور ثاني ) ( ٢٠١٥ دور ثاني ) ( ٢٠١٨ دور اول ) ( ٢٠١٧ دور ثاني )



س ٥ : علل لإثنين مما يأتي : 1- عند ترك حبيبات هيدروكسيد الصوديوم  $\text{NaOH}$  في الجو الرطب تتماياً  
اولاً ثم تتكون عليها قشرة صلبة . ( ٢٠١٤ دور اول ) ( ٢٠١٦ دور اول )

ج ٥ : تتماياً حبيبات هيدروكسيد الصوديوم لأنها تمتص الرطوبة من الجو وتتفاعل الطبقة المتمينة منه مع  
غاز ثنائي أوكسيد الكربون في الجو تتكون طبقة من كربونات الصوديوم  $\text{Na}_2\text{CO}_3$  لا تذوب في محلول  
 $\text{NaOH}$  المركز في المنطقة المتمينة لذلك تشكل قشرة جافة على سطح حبيبات هيدروكسيد الصوديوم  
وكما في المعادلة التالية :





س٦: اكمل وعبر عن اثنين من التفاعلات الآتية بمعادلات كيميائية متوازنة :  
أوكسيد الكالسيوم + ماء  $\longrightarrow$  (٢٠١٦ دور ثاني) (٢٠١٧ دور اول)

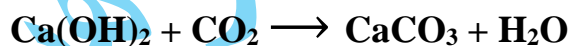


س٧: اكمل ووازن معادلات التفاعلات الآتية :  $\text{Ca(OH)}_2 + \text{CO}_2 \longrightarrow$  (٢٠١٨ دور ثاني)



س٨: علل إثنين مما يأتي : 2- تعكر ماء الكلس عند امرار غاز  $\text{CO}_2$  عليه . (٢٠١٩ دور اول)

ج٨: بسبب تكون كربونات الكالسيوم كما في المعادلة الآتية :



## الأسئلة الشرحية ( الكلامية )

س ١: عدد الصفات العامة لعناصر الزمرتين الأولى ( IA ) والثانية ( IIA ). (٢٠١٣ دور ثاني) (٢٠١٤ دور اول)

- ج ١: ١- عناصر هاتين الزمرتين ذات كهرسلبية واطنة و طاقة تأين واطنة .  
٢- لجميع عناصر الزمرتين غلاف خارجي يحتوي على الكترون واحد بالنسبة لعناصر الزمرة الأولى وعلى الكترنين بالنسبة لعناصر الزمرة الثانية .  
٣- لا توجد عناصر الزمرتين حرة في الطبيعة لشدة فعاليتها .  
٤- عناصر الزمرة الثانية اقل فلزية من عناصر الزمرة الأولى .  
٥- طاقة تأين عناصر الزمرة الثانية اعلى من طاقة تأين عناصر الزمرة الأولى بسبب نقصان الحجم الذري .

س ٢: اجب عن اثنين فقط مما يأتي :

- ٣- ما الاختلافات في الصفات العامة بين الزمرتين الأولى والثانية ؟  
ج ٢: تختلف عناصر الزمرتين عن بعضهما بما يلي :  
١- عناصر الزمرة الثانية اقل فلزية من عناصر الزمرة الأولى .  
٢- طاقة تأين عناصر الزمرة الثانية اعلى من طاقة تأين عناصر الزمرة الأولى بسبب نقصان الحجم الذري .

س ٣: ضع كلمة ( صح ) امام العبارات الصحيحة وكلمة ( خطأ ) امام العبارات غير الصحيحة ثم صحح الخطأ

- ان وجد (لإثنين فقط) :  
٢- تمتاز عناصر الزمرتين الأولى ( IA ) والثانية ( IIA ) بأنها ذات كهرسلبية عالية .  
ج ٣: خطأ ، ذات كهرسلبية واطنة .

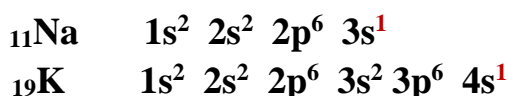
س ٤: اختر من بين الأقواس ما يناسب التعابير الآتية :

- ( ٤ ) تمتاز عناصر الزمرة الأولى والثانية بأن لها كهرسلبية ( واطنة ، عالية ، معتدلة ) .  
ج ٤: واطنة

س ٥: اجب عن فرعين مما يأتي:

- ج ( وضع علمياً لماذا وضع عنصر الصوديوم  $11\text{Na}$  والبوتاسيوم  $19\text{K}$  ضمن زمرة واحدة رغم اختلافهما في العدد الذري .

ج ٥: نكتب الترتيب الإلكتروني لذرتي العنصرين



من ملاحظة الترتيب الإلكتروني لذرتي العنصرين نرى أن كليهما قد انتهى بالكاترون واحد في الغلاف الأخير ، لذلك تم وضعهما في زمرة واحدة رغم اختلافهما في العدد الذري .

س٦: اختر من بين الأقواس ما يناسب التعابير الآتية :

١- : اذا فقدت ذرة الليثيوم الكاترون التكافؤ تتحول الى ايون :

( احادي الشحنة الموجبة ، ثنائي الشحنة الموجبة ، ثنائي الشحنة السالبة ) ( ٢٠١٤ دور ثاني )

ج٦: احادي الشحنة الموجبة .

س٧: ضع كلمة ( صح ) امام العبارات الصحيحة وكلمة ( خطأ ) امام العبارات غير الصحيحة ثم

صحح الخطأ ان وجد (لإثنين فقط) :

( ٢٠١٢ دور اول )

٢- عنصر المغنيسيوم عدده الذري ( 12 ) لذا يكون تكافؤه في مركباته ثلاثي التكافؤ .

ج٧: خطأ ، ثنائي التكافؤ .

س٨: املأ الفراغات الآتية بما يناسبها ( لإثنين فقط )

١- تكافؤ عنصر المغنيسيوم في مركباته .....

( ٢٠١٨ دور ثالث )

ج٨: ثاني

س٩: اختر من بين الأقواس ما يناسب التعابير الآتية :

١- تكافؤ عنصر  $12Mg$  في مركباته هو ( 2 ، 3 ، 4 )

( ٢٠١٥ دور اول )

ج٩: ( 2 )

س١٠: علل لإثنين مما يأتي : ١- سميت عناصر الزمرة الأولى بالفلزات القلوية . ( ٢٠١٩ دور ثاني )

ج١٠: لأن محاليلها عالية القاعدية .

س١١: املأ الفراغات الآتية بما يناسبها ( لإثنين فقط )

١- سميت عناصر الزمرة الثانية بـ ..... ( ٢٠١٦ دور ثاني ) ( ٢٠١٧ دور ثاني )

ج١١: فلزات الأتربة القلوية

س١٢: علل لإثنين مما يأتي :

١- يحفظ الصوديوم في النفط الأبيض . ( ٢٠١٣ دور اول ) ( ٢٠١٦ دور ثالث ) ( ٢٠١٧ دور اول )

ج١٢: لكونه يشتعل عند تعرضه للهواء .

س١٣: ضع كلمة ( صح ) امام العبارات الصحيحة وكلمة ( خطأ ) امام العبارات غير الصحيحة ثم صحح الخطأ ان وجد (لإثنين فقط) : ١- يحفظ الصوديوم في النفط

ج١٣: صح

س١٤: اجب عن فرعين فقط: ج- عدد اهم الخواص الفيزيائية التي يمتاز بها عنصر الصوديوم .  
(٢٠١٣ دور اول) (٢٠١٥ دور ثاني) (٢٠١٩ دور ثاني)

ج١٤: الصوديوم فلز لين وله بريق فضي إذا قطع حديثاً ، كثافته اقل من كثافة الماء ، وينصهر بدرجة ( 97.81 °C ) ويغلي منصهر الصوديوم بدرجة ( 882.9 °C ) .

س١٥: علل لإثنين مما يأتي :

١- اختفاء لمعان قطعة الصوديوم المقطوعة حديثاً بعد فترة .

(٢٠١٦ دور ثاني)

س١٦: علل لإثنين مما يأتي :

٢) زوال بريق قطعة الصوديوم المقطوع حديثاً عند تعرضها للهواء الرطب . (٢٠١٨ دور ثاني)  
ج١٥/١٦: لأنها تتحد مباشرة مع اوكسجين الهواء فيزول بريقها بعد فترة قصيرة وتكتسي بطبقة بيضاء من اوكسيد الصوديوم .

س١٧: ضع كلمة ( صح ) امام العبارات الصحيحة وكلمة ( خطأ ) امام العبارات غير الصحيحة ثم صحح الخطأ ان وجد (لإثنين فقط) :

(٢٠١٤ دور اول)

٢- يستعمل الصوديوم كعامل مؤكسد قوي في بعض التفاعلات العضوية لشدة وسرعة تأكسده .

ج١٧: خطأ ، كعامل مختزل قوي .

س١٨: علل لإثنين مما يأتي :

١- يستعمل الصوديوم كعامل مختزل قوي في بعض التفاعلات العضوية .  
ج١٨: لشدة وسرعة تأكسده .

(٢٠١٥ دور اول)

س١٩: كيف نستدل او نكشف عن وجود كل مما يأتي :  
١- ايون الصوديوم في مركباته .

(٢٠١٣ دور ثالث) (٢٠١٨ دور ثالث)

ج١٩: نستعمل كشف اللهب ( الكشف الجاف ) حيث يلون الصوديوم اللهب باللون الأصفر .

س٢٠: املأ الفراغات الآتية بما يناسبها ولاثنين مما يأتي :

١- فلز .....توجد مركباته بكثرة في مياه البحر .

(٢٠١٢ دور ثاني)

ج٢٠: الصوديوم

س ٢١ : اختر من بين الأقواس ما يناسب التعابير الآتية :

١- : ان اهم مركب مرتبط بحياة الإنسان وواسع الإنتشار في الطبيعة هو :

( ٢٠١٧ دور اول )

( كلوريد الصوديوم ، كلوريد الكالسيوم ، كلوريد البوتاسيوم )

ج ٢١ : كلوريد الصوديوم .

س ٢٢ : اجب عن اثنين فقط مما يأتي :

( ٢٠١٨ دور ثالث )

٢- اشرح استخراج ملح الطعام NaCl الموجود تحت سطح الأرض ؟

ج ٢٢ : يستخرج بحفر آبار يضخ إليها الماء ، ثم يسحب المحلول الناتج بواسطة مضخات ماصة الى سطح الأرض ويبخر الماء فتتخلف بلورات الملح ثم ينقى .

س ٢٣ : اجب عن اثنين فقط مما يأتي :

( ٢٠١٩ دور اول )

٢- اشرح استخراج ملح الطعام NaCl من مياه البحر ؟

ج ٢٣ : يستخرج بضخ مياه البحر الى احواض واسعة ضحلة ثم يبخر الماء بحرارة الشمس .

س ٢٤ : علل اثنين مما يأتي : ٣- . يستعمل ملح كلوريد الصوديوم في عملية حفظ المواد الغذائية .

( ٢٠١٢ دور اول ) ( ٢٠١٣ دور ثاني ) ( ٢٠١٤ دور ثاني )

ج ٢٤ : لأن محلوله المركز يقتل البكتريا التي تسبب التعفن .

س ٢٥ : عرف ثلاثاً مما يأتي : ٢- التميؤ .

( ٢٠١٦ دور ثالث ) ( ٢٠١٨ دور ثالث )

ج ٢٥ : التميؤ : هي ظاهرة امتصاص الرطوبة من الجو .

س ٢٦ : ما الفرق بين كلوريد الصوديوم النقي NaCl وبين NaCl غير النقي ؟

( ٢٠١٥ دور ثاني ) ( ٢٠١٨ دور اول )

ج ٢٦ :

كلوريد الصوديوم النقي	كلوريد الصوديوم غير النقي
➤ مادة لا تمتص الرطوبة من الجو غير متمينة	➤ مادة تمتص الرطوبة من الجو متمينة .
➤ لا تحتوي على شوائب .	➤ تحتوي على شوائب من كلوريد الكالسيوم أو كلوريد المغنيسيوم .

( ٢٠١٢ دور ثاني )

س ٢٧ : اذكر اهم الاستعمالات لكل مما يأتي : ١- هيدروكسيد الصوديوم .

ج ٢٧ : يستعمل هيدروكسيد الصوديوم في مجالات صناعية عديدة منها :

- ١- صناعة الصابون والمنظفات ( مساحيق وسوائل ) .
- ٢- صناعة الأنسجة والورق .
- ٣- يدخل كمادة أولية في تحضير العديد من المركبات المستعملة في الصناعة .

س٢٨ : املأ الفراغات الآتية بما يناسبها ( لإثنين فقط )

- ١- يدعى محلول هيدروكسيد الكالسيوم الصافي بـ .....
- ج٢٨ : ماء الكلس الصافي

- س٢٩ : عرف اثنين مما يأتي : 1- جبس باريس
- س٣٠ : جبس باريس هو احد املاح الكالسيوم ، بين كيف يمكن الحصول عليه ؟ وما اهم استعمالاته ؟

( ٢٠١٥ دور اول )

ج ٢٩ / ج ٣٠ : جبس باريس : هو كبريتات الكالسيوم صيغتها الكيميائية  $\text{CaSO}_4 \cdot \text{H}_2\text{O}$  حيث ترتبط كبريتات الكالسيوم مع جزيئة واحدة من ماء التبلور ، ويتكون جبس باريس عندما يفقد الجبس الإعتيادي  $\text{CaSO}_4 \cdot 2\text{H}_2\text{O}$  ماء التبلور بالتسخين جزئياً كما في المعادلة التالية :



الجبس الإعتيادي                      جبس باريس

وتستعمل عجينة باريس ( جبس باريس ) في التجبير وفي صنع التماثيل وكذلك في البناء .

س٣١ : اجب عما يأتي :

- ٢- اذكر الفرق بين الجبس الإعتيادي و جبس باريس ؟ ( ٢٠١٧ دور ثاني ) ( ٢٠١٨ دور ثالث )

ج٣١ :

الجبس الإعتيادي	جبس باريس
<ul style="list-style-type: none"> <li>➤ صيغته الكيميائية تحتوي على جزيئتين من الماء <math>\text{CaSO}_4 \cdot 2\text{H}_2\text{O}</math>.</li> <li>➤ يتكون عندما تلتقط عجينة باريس الماء فتتجمد .</li> </ul>	<ul style="list-style-type: none"> <li>➤ صيغته الكيميائية تحتوي على جزيئة واحدة من الماء <math>\text{CaSO}_4 \cdot \text{H}_2\text{O}</math></li> <li>➤ يتكون عندما يسخن الجبس الإعتيادي جزئياً فيفقد ماء التبلور .</li> </ul>

# الفصل الثالث: الزمرة الثالثة Group IIIA



Boron, B

Aluminum, Al

Gallium, Ga

Indium, In

Thallium, Tl

Group 13

## Group 3 - The Icosagens

EXCEPT FOR BORON, THE GROUP 3 ELEMENTS ARE ALL METALS, KNOWN AS 'POOR METALS' DUE TO THEIR LOW MELTING POINTS & HARDNESS

**5**  
B  
Boron

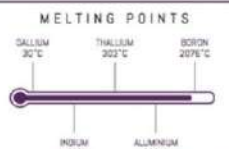
**13**  
Al  
Aluminium

**31**  
Ga  
Gallium

**49**  
In  
Indium

**81**  
Tl  
Thallium

**113**  
Uut  
Ununtrium

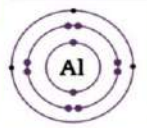


BORON IS A METALLOID AND THE ONLY NON-METAL IN GROUP 3



ALUMINIUM IS THE THIRD MOST ABUNDANT ELEMENT IN THE EARTH'S CRUST AND THE MOST ABUNDANT METAL

**Al<sup>13</sup>**  
**Aluminium**  
26.9815385



ALL OF THE GROUP 3 ELEMENTS HAVE **THREE VALENCE ELECTRONS**

GROUP 3 ELEMENTS REACT WITH OXYGEN TO FORM METAL OXIDES  
 $M_2O_3$

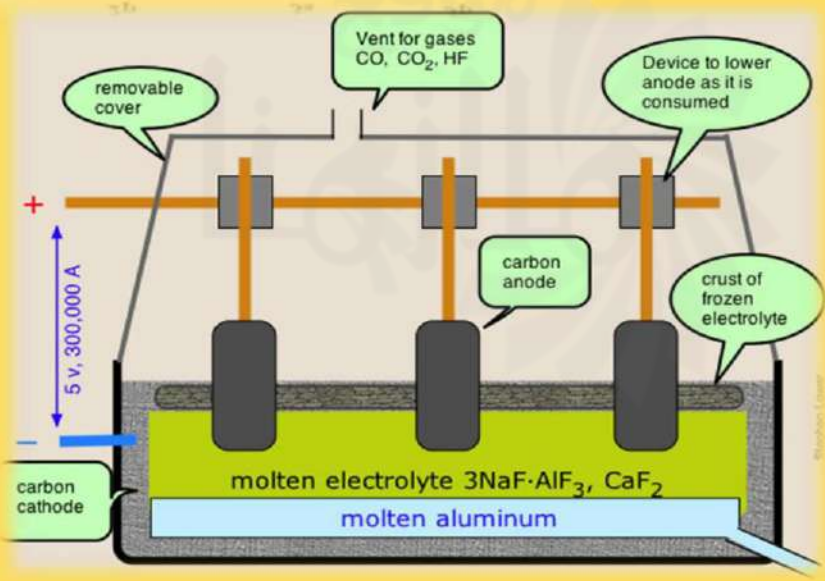
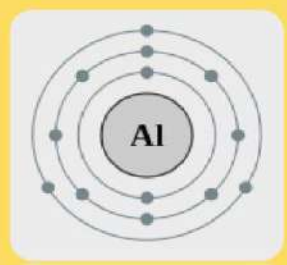
**1 GRAM**  
THE AVERAGE LETHAL DOSE FOR THE TOXIC ELEMENT THALLIUM

GALLIUM IS SOLID AT ROOM TEMPERATURE BUT IS LIQUID AT A LARGER RANGE OF TEMPERATURES THAN ANY OTHER ELEMENT

USES OF THE ICOSAGENS

BORON GLASSWARE DETERGENT	ALUMINIUM DRINK CANS AIRCRAFT BODIES	GALLIUM ELECTRONIC COMPONENTS	INDIUM TOUCH SCREENS	THALLIUM RAF POISON
---------------------------------	--	----------------------------------	-------------------------	------------------------

### Aluminum



# الفصل الثالث : الزمرة الثالثة Group IIIA

## اسئلة المعادلات الكيميائية

س ١: اكمل ووازن ثلاثة من التفاعلات الآتية :

( ٢٠١٦ دور ثالث ) ( ٢٠١٨ دور ثالث )



ج ١:



س ٢: عبر عن اثنين من التفاعلات الآتية بمعادلات كيميائية متوازنة :

( ٢٠١٧ دور اول )



ج ٢:




س ٣: عبر عن اثنين من التفاعلات الآتية بمعادلات كيميائية متوازنة :

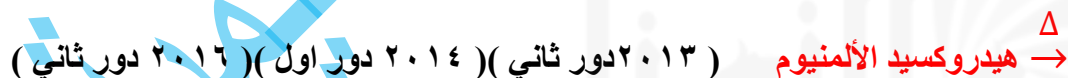
( ٢٠١٧ دور ثاني )



ج ٣:



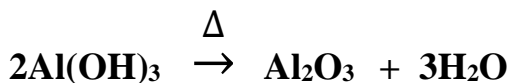
س ٤: عبر عن اثنين من التفاعلات الآتية بمعادلات كيميائية متوازنة :



( ٢٠١٣ دور ثاني ) ( ٢٠١٤ دور اول ) ( ٢٠١٦ دور ثاني )

س ٥: اكمل ووازن معادلات التفاعلات الآتية :

( ٢٠١٩ دور ثاني )



ج ٤ / ٥ :



## الأسئلة الشرحية ( الكلامية )

س ١: أجب عن اثنين مما يأتي : أذكر خامات الألمنيوم مع كتابة الصيغة الكيميائية . ( ٢٠١٨ دور ثاني )  
ج ١: خامات الألمنيوم :

١. سليكات الألمنيوم المعقدة  $Al_2(SiO_3)_3$  هي خام الألمنيوم الأكثر إنتشاراً في الصخور والطين لكنها لا تصلح لاستخلاص الألمنيوم منها حالياً ، بسبب الكلفة العالية إقتصادياً .
٢. البوكسايت  $Al_2O_3 \cdot H_2O$  وهو أكسيد الألمنيوم المائي ، ويعتبر الخام الرئيس للألمنيوم ، فهو أهم خام يستعمل لاستخلاص الفلز .
٣. الألومينا  $Al_2O_3$  هي أكسيد الألمنيوم التي تنشأ من تنقية البوكسايت .
٤. الكريولايت  $(Na_3AlF_6)$  فلوريد مزدوج من الألمنيوم والصوديوم وهو من المصادر المهمة المستعملة لاستخلاص الفلز .

س ٢: عرف اثنين مما يأتي : ٢- البوكسايت . ( ٢٠١٣ دور ثاني )

ج ٢: البوكسايت : هو أكسيد الألمنيوم المائي  $Al_2O_3 \cdot H_2O$  وهو الخام الرئيس للألمنيوم والمستعمل في استخلاص الألمنيوم .

س ٣: كيف يستخلص الألمنيوم من خاماته بطريقة هول ؟ وضح ذلك . ( ٢٠١٨ دور اول )

ج ٣: طريقة هول لاستخلاص الألمنيوم

- ينقى خام البوكسايت ( أكسيد الألمنيوم المائي )  $Al_2O_3 \cdot H_2O$  للحصول على أكسيد الألمنيوم النقي ( الألومينا )  $Al_2O_3$  .
- يضاف منصهر الكريولايت ( فلوريد مزدوج من الألمنيوم والصوديوم )  $Na_3AlF_6$  الى الألومينا لتخفيض درجة انصهاره .
- يوضع المنصهر الناتج من المركبين ( الكريولايت والألومينا ) في خلية تحليل كهربائية ( بدرجة حرارة  $1000\text{ C}$  وباستعمال اقطاب كربونية ) .
- يمرر تيار كهربائي فيتجمع الألمنيوم على شكل منصهر في اسفل الخلية ويسحب بين فترة وأخرى .

س ٤: املأ الفراغات الآتية بما يناسبها ( لإثنين فقط ) ( ٢٠١٣ دور ثالث )

١- تعد طريقة ..... أحسن الطرائق لاستخلاص الألمنيوم في الوقت الحاضر .

ج ٤: هول

س٥ : علل لإثنين مما يأتي :

١- إضافة منصهر الكريولاييت الى الألومينا في عملية استخلاص الألمنيوم . ( ٢٠١٢ دور اول )

ج٥ : لتخفيض درجة انصهار الألومينا

س٦ : ضع كلمة ( صح ) امام العبارات الصحيحة وكلمة ( خطأ ) امام العبارات غير الصحيحة ثم صحح الخطأ ان وجد ( لإثنين فقط ) :  
( ٢٠١٥ دور ثاني )

١- إذابة الألومينا في منصهر الكريولاييت أثناء استخلاص الألمنيوم .

ج٦ : صح

س٧ : أجب عن فرعين مما يأتي : ( ١ ) الألمنيوم فلز يقي نفسه من التآكل ، وضح ذلك . ( ٢٠١٣ دور ثالث )

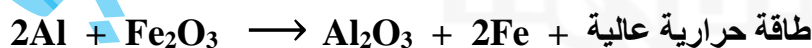
ج٧ : عند تعرض الألمنيوم الى الهواء يتأكسد سطحه الخارجي فقط ، فيكتسي بطبقة رقيقة جداً من أوكسيده الذي يكون شديد الالتصاق بسطح الفلز ، وهذا ما يقي الفلز من استمرار التآكل .

س٨ : املأ الفراغات الآتية بما يناسبها لأربعة مما يأتي :  
٥- تأثير اوكسجين الهواء الجوي في الألمنيوم لا يؤدي الى تآكله كما في حالة الحديد وذلك بسبب .....

ج٨ : تكون طبقة رقيقة جداً من أوكسيد الألمنيوم تمنع وصول الهواء ويتوقف التأكسد .

س٩ : عرف لإثنين مما يأتي : ١- تفاعل الترميت . ( ٢٠١٣ دور اول ) ( ٢٠١٥ دور ثاني ) ( ٢٠١٨ دور ثالث )

ج٩ : تفاعل الترميت : هو تفاعل الألمنيوم مع أوكسيد الحديد الثلاثي ( III ) تفاعلاً شديداً مصحوب بحرارة عالية مع تطاير شرر ينتج عنه منصهر الحديد نتيجة قيام الألمنيوم باختزال أوكسيد الحديد ويستفاد من التفاعل في لحيم الأجهزة الحديدية الكبيرة وقضبان سكك الحديد كما في المعادلة التالية :



س١٠ : اختر من بين الأقواس ( لثلاث فقط ) :

( ١ ) يكون عنصر الألمنيوم في تفاعل الترميت عاملاً ( مساعداً ، مؤكسداً ، مختزلاً ) .

ج١٠ : مختزلاً .

س ١١ : املأ الفراغات الآتية بما يناسبها لإثنين مما يأتي :

( ٢٠١٣ دور ثاني )

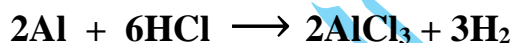
٢- يستفاد من تفاعل الثرميت في .....

ج ١١ : لحيم الأجهزة الحديدية الكبيرة وقضبان سلك الحديد

س ١٢ : اجب عن فرعين فقط : أ - ما المقصود بالسلوك الأمفوتيري للألمنيوم ، وضح ذلك مع كتابة المعادلة الكيميائية المتوازنة ؟

( ٢٠١٣ دور اول )

ج ١٢ : السلوك الأمفوتيري للألمنيوم : هو تفاعل الألمنيوم مع الحوامض والقواعد مكوناً أملاح الألمنيوم ومحوراً غاز الهيدروجين في الحالتين ، حيث يتفاعل الألمنيوم مع حامض الهيدروكلوريك المخفف محوراً غاز الهيدروجين ومكوناً كلوريد الألمنيوم كما في المعادلة التالية :



ويتفاعل الألمنيوم مع هيدروكسيد الصوديوم او البوتاسيوم في الماء مكوناً الهيدروجين وملح الألمنيوم .

س ١٣ : املأ الفراغات الآتية بما يناسبها لإثنين مما يأتي :

١- عنصر الألمنيوم يتفاعل مع الحوامض والقواعد محوراً غاز الهيدروجين في الحالتين ويدعى هذا

السلوك بـ .....

( ٢٠١٥ دور اول ) ( ٢٠١٩ دور ثاني )

ج ١٣ : الأمفوتيري

س ١٤ : ضع كلمة ( صح ) امام العبارات الصحيحة وكلمة ( خطأ ) امام العبارات غير الصحيحة ثم

( ٢٠١٢ دور ثاني )

صحح الخطأ ان وجد ( لإثنين فقط ) :

١ - الألمنيوم يتفاعل مع الحوامض والقواعد ويحرر الهيدروجين ويدعى هذا السلوك بالسلوك الأمفوتيري .

٣- يكون عنصر الألمنيوم في تفاعل الثرميت عاملاً مختزلاً .

ج ١٤ : ١- صح .

٣- صح .

س ١٥ : علل لإثنين مما يأتي : ١- لا يستمر تفاعل الألمنيوم مع كل من حامض النتريك المخفف والمركز .

( ٢٠١٥ دور ثاني ) ( ٢٠١٦ دور اول ) ( ٢٠١٦ دور ثالث ) ( ٢٠١٨ دور اول )

ج ١٥ : بسبب تكون طبقة من أوكسيد الألمنيوم  $Al_2O_3$  تعزل الحامض عن الفلز ، فيتوقف التفاعل .

س١٦ : علل لإثنين مما يأتي :

١- استعمال سبائك الألمنيوم في صناعة القناني الخاصة لحفظ سوائل النتروجين والآركون والأوكسجين بدرجة حرارية منخفضة .  
( ٢٠١٤ دور اول )

س١٧ : علل ثلاثة مما يأتي :

٣- تصنع من سبائك الألمنيوم قناني خاصة لحفظ السوائل بدرجة حرارية منخفضة .  
( ٢٠١٨ دور ثاني )

س١٨ : علل لإثنين مما يأتي :

١- تحفظ سوائل النتروجين والآركون والأوكسجين في قناني من الألمنيوم . ( ٢٠١٥ دور اول )

ج١٦ / ج١٧ / ج١٨ : لأن قوة الألمنيوم تزداد كلما انخفضت درجة الحرارة عن الصفر السيليزي .

س١٩ : عرف اثنين مما يأتي : ١- الديور ألومين ( ٢٠١٧ دور اول ) ( ٢٠١٩ دور اول )

ج١٩ : الديور ألومين : من اهم سبائك الألمنيوم ، تحتوي على نسبة عالية من الألمنيوم ونسبة قليلة من النحاس والمغنيسيوم وقد تحتوي على المنغيز ايضاً ، و تمتاز بخفتها وصلابتها ، و تستعمل في بناء بعض أجزاء الطائرات .

س٢٠ : اختر من بين القوسين ( لاثنين فقط ) :

١- سبيكة الديور ألومين تتكون من نسبة ( قليلة ، عالية ، 100% ) من عنصر الألمنيوم .  
ج٢٠ : عالية .

س٢١ : اذكر مكونات ومميزات واستعمالات سبيكة الديور ألومين . ( ٢٠١٨ دور ثالث )

ج٢١ : تتكون سبيكة الديور ألومين من نسبة عالية من الألمنيوم ونسبة قليلة من النحاس والمغنيسيوم وقد تحتوي على المنغيز ايضاً ، و تمتاز بخفتها وصلابتها ، و تستعمل في بناء بعض أجزاء الطائرات .

س٢٢ : عرف اثنين مما يأتي : ١- برونز الألمنيوم ( ٢٠١٣ دور ثالث ) ( ٢٠١٦ دور ثالث ) ( ٢٠١٩ دور ثاني )

ج٢٢ : برونز الألمنيوم: من اهم سبائك الألمنيوم ، تتكون من نسبة قليلة من الألمنيوم ونسبة عالية من النحاس واحياناً فلزات أخرى و تمتاز بأنها مقاومة للتآكل ، وكذلك يتغير لونها بتغير نسب مكوناتها حيث يتدرج لونها من لون النحاس الى لون الذهب والى لون الفضة ، لذلك يفاد من هذه الخاصية بصناعة أدوات الزينة .

( ٢٠١٨ دور ثاني )

س٢٣ : اذكر مكونات ومميزات سبيكة برونز الألمنيوم .

ج٢٣ : تتكون سبيكة برونز الألمنيوم من نسبة قليلة من الألمنيوم ونسبة عالية من النحاس و أحياناً فلزات أخرى وقد تمتاز بأنها مقاومة للتآكل ، وكذلك يتغير لونها بتغير نسب مكوناتها ، حيث يتدرج لونها من لون النحاس الى لون الذهب والى لون الفضة ، لذلك يفاد من هذه الخاصية بصناعة أدوات الزينة .

( ٢٠١٤ دور ثاني ) ( ٢٠١٦ دور ثاني ) ( ٢٠١٧ دور ثاني )

س٢٤ : اجب عما يأتي :  
٢- قارن بين سبائك الألمنيوم من حيث نسب مكوناتها واستعمالاتها .

ج٢٤ :

سبيكة البرونز المنيوم	سبيكة الديور ألومين
<ul style="list-style-type: none"> <li>➤ تحتوي على نسبة قليلة من الألمنيوم ونسبة عالية من النحاس و أحياناً فلزات أخرى .</li> <li>➤ مقاومة للتآكل ويتغير لونها بتغير نسب مكوناتها .</li> <li>➤ تستعمل في صناعة أدوات الزينة .</li> </ul>	<ul style="list-style-type: none"> <li>➤ تحتوي على نسبة عالية من الألمنيوم ونسبة قليلة من النحاس والمغنيسيوم وقد تحتوي على المنغنيز أيضاً .</li> <li>➤ تمتاز بخفتها وصلابتها .</li> <li>➤ تستعمل في بناء بعض أجزاء الطائرات .</li> </ul>

( ٢٠١٧ دور ثاني )

س٢٥ : املأ الفراغات التالية بما يناسبها :

٣- يحضر ..... من التسخين الشديد لهيدروكسيد الألمنيوم .

ج٢٥ : أوكسيد الألمنيوم .

( ٢٠١٤ دور اول ) ( ٢٠١٩ دور اول )

س٢٦ : عرف اثنين مما يأتي : ١- شب البوتاسيوم .

ج٢٦ : شب البوتاسيوم : ملح يحتوي على كبريتات الألمنيوم وكبريتات البوتاسيوم وجزيئات ماء التبلور بنسبة كتلية ثابتة والصيغة العامة له (  $KAl(SO_4)_2 \cdot 12H_2O$  ) ويستعمل في تعقيم الجروح وغيرها .

س٢٧ : املأ الفراغات الآتية بما يناسبها ( لإثنين فقط ) : ١- ملح مكون من عنصري البوتاسيوم والألمنيوم يدعى .....

( ٢٠١٢ دور ثاني ) ( ٢٠١٣ دور اول ) ( ٢٠١٦ دور ثالث )  
( ٢٠١٧ دور اول ) ( ٢٠١٨ دور اول ) ( ٢٠١٨ دور ثاني )

ج٢٧ : الشب ويسمى ايضاً شب البوتاس

س٢٨ : عدد إستعمالات إثنين مما يأتي : (٣ الشب .

( ٢٠١٧ دور ثاني )

ج٢٨ : يستخدم الشب الإعتيادي في مجالات متعددة منها :

- ١ . تعقيم بعض الجروح الخفيفة ، حيث يساعد على تخثر الدم بسهولة ، بسبب ذوبانه في الماء وترسب  $Al(OH)_3$  على الجروح حيث يوقف سيلان الدم فيتخثر .
- ٢ . تثبيت الأصباغ على الأقمشة .
- ٣ . تصفية مياه الشرب .

س٢٩ : أعطيت لك قنبنة وقيل لك انها تحتوي على محلول كلوريد الألمنيوم (  $AlCl_3$  ) كيف يمكنك ان تتأكد من وجود ايون الألمنيوم فيها ؟

( ٢٠١٢ دور ثاني )



س٣٠ : كيف تكشف او تتأكد من وجود ايون الألمنيوم في محاليل مركباته ؟ مع كتابة المعادلة الكيميائية المتوازنة . ( ٢٠١٤ دور ثاني ) ( ٢٠١٦ دور ثاني ) ( ٢٠١٧ دور اول ) ( ٢٠١٩ دور اول )

ج٢٩/٣٠ :

يكشف عن ايون الألمنيوم في مركباته بواسطة محلول قاعدي مثل هيدروكسيد الصوديوم أو هيدروكسيد البوتاسيوم حيث تتفاعل هذه المواد مع ايون الألمنيوم  $Al^{3+}$  لتكون راسباً ابيضاً جيلاتينياً هو هيدروكسيد الألمنيوم  $Al(OH)_3$  كما في المعادلة الآتية :



## الفصل الرابع : المحاليل والتعبير عن التركيز



### Saturated Solution

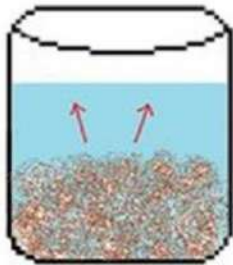


Figure 1.1

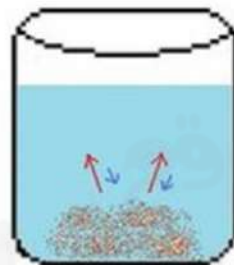


Figure 1.2

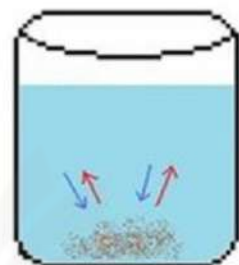
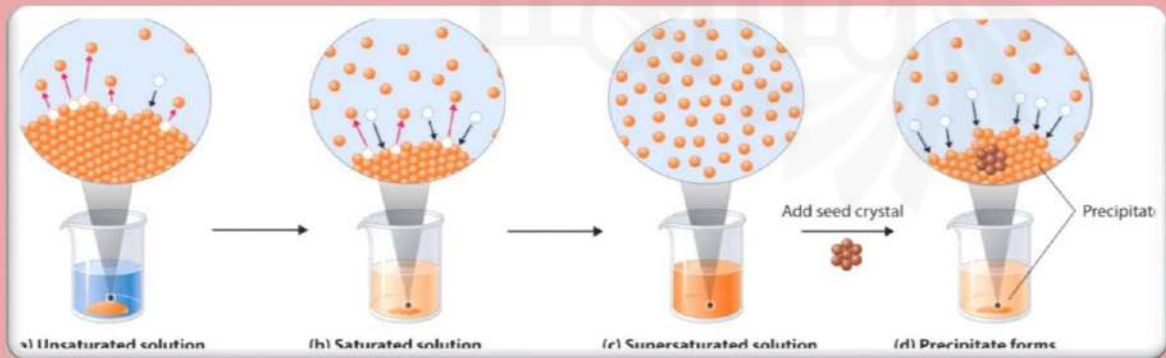


Figure 1.3



## الفصل الرابع : المحاليل والتعبير عن التركيز

### المسائل الرياضية

#### نصائح مهمة لك عزيزي الطالب :

اعلم عزيزي الطالب ان المسائل الرياضية المتعلقة بهذا الفصل كلها تحل بثلاثة قوانين أساسية هي :

١- قانون حساب تركيز المحلول بالنسبة المئوية الكتلية :

$$\text{النسبة المئوية الكتلية لأي مكون من مكونات المحلول} = \frac{\text{كتلة المكون}}{\text{كتلة المحلول}} \times 100\%$$

فالمكون يقصد به اما كتلة المذاب ويرمز لها بـ (  $m_1$  ) أو كتلة المذيب ويرمز لها بـ (  $m_2$  )  
أما كتلة المحلول فيرمز لها بـ (  $m_T$  ) وتحسب بالقانون الآتي :  $m_T = m_1 + m_2$   
فإذا اردنا حساب النسبة الكتلية للمذاب يكون القانون :

$$\text{النسبة الكتلية للمذاب ( نضع اسمه )} = \frac{\text{كتلة المذاب}}{\text{كتلة المحلول}} \times 100\% = 100\% \times \frac{m_1}{m_T}$$

وإذا اردنا حساب النسبة الكتلية للمذيب يكون القانون :

$$\text{النسبة الكتلية للمذيب ( نضع اسمه )} = \frac{\text{كتلة المذيب}}{\text{كتلة المحلول}} \times 100\% = 100\% \times \frac{m_2}{m_T}$$

٢- قانون حساب تركيز المحلول بالنسبة المئوية الحجمية :

$$\text{النسبة المئوية الحجمية لأي مكون من مكونات المحلول} = \frac{\text{حجم المكون}}{\text{حجم المحلول}} \times 100\%$$

فالمكون يقصد به اما حجم المذاب ويرمز لها بـ (  $V_1$  ) أو حجم المذيب ويرمز لها بـ (  $V_2$  )  
أما حجم المحلول فيرمز لها بـ (  $V_T$  ) وتحسب بالقانون الآتي :  $V_T = V_1 + V_2$   
فإذا اردنا حساب النسبة الحجمية للمذاب يكون القانون :

$$\text{النسبة الحجمية للمذاب ( نضع اسمه )} = \frac{\text{حجم المذاب}}{\text{حجم المحلول}} \times 100\% = 100\% \times \frac{V_1}{V_T}$$

وإذا اردنا حساب النسبة الكتلية للمذيب يكون القانون :

$$\text{النسبة الحجمية للمذيب ( نضع اسمه )} = \frac{\text{حجم المذيب}}{\text{حجم المحلول}} \times 100\% = 100\% \times \frac{V_2}{V_T}$$

٣- قانون حساب تركيز المحلول بالكثافة ( الكتلة / الحجم ) :

$$\text{الكثافة ( غرام / لتر )} = \frac{\text{كتلة المذاب (بالغرام)}}{\text{حجم المحلول (باللتر)}} = \frac{m (g)}{V (L)}$$



س ١: احسب النسبة الكتلية لكل من المذاب والمذيب لمحلول مكون من 25g من هيدروكسيد الصوديوم مذابة في 100g من الماء . (٢٠١٢ دور اول)

ج ١:

$$\begin{aligned} \text{كتلة المذاب } m_1 &= 25g, \quad \text{كتلة المذيب } m_2 = 100g \\ \text{كتلة المحلول } m_T &= m_1 + m_2 = 25g + 100g = 125g \\ \text{النسبة الكتلية للمذاب (هيدروكسيد الصوديوم)} &= \%100 \times \frac{m_1}{m_T} = \%100 \times \frac{25g}{125g} = \%20 \\ \text{النسبة الكتلية للمذيب (الماء)} &= \%100 \times \frac{m_2}{m_T} = \%100 \times \frac{100g}{125g} = \%80 \end{aligned}$$

س ٢: احسب التركيز بالنسبة المئوية الكتلية لمكونات محلول يحتوي 48.2g من السكر في 498g من الماء (H<sub>2</sub>O) . (٢٠١٢ دور ثاني)

ج ٢:

$$\begin{aligned} \text{كتلة المذاب } m_1 &= 48.2g, \quad \text{كتلة المذيب } m_2 = 498g \\ \text{كتلة المحلول } m_T &= m_1 + m_2 = 48.2g + 498g = 546.2g \\ \text{النسبة الكتلية للمذاب (السكر)} &= \%100 \times \frac{m_1}{m_T} = \%100 \times \frac{48.2g}{546.2g} = \%8.82 \\ \text{النسبة الكتلية للمذيب (الماء)} &= \%100 \times \frac{m_2}{m_T} = \%100 \times \frac{498g}{546.2g} = \%91.18 \end{aligned}$$

س ٣: ما النسبة الكتلية للمذاب والمذيب لمحلول مكون من 35g من حامض الخليك مذاب في 145g من الماء (٢٠١٣ دور اول)

ج ٣:

$$\begin{aligned} \text{كتلة المذاب } m_1 &= 35g, \quad \text{كتلة المذيب } m_2 = 145g \\ \text{كتلة المحلول } m_T &= m_1 + m_2 = 35g + 145g = 180g \\ \text{النسبة الكتلية للمذاب (حامض الخليك)} &= \%100 \times \frac{m_1}{m_T} = \%100 \times \frac{35g}{180g} = \%19.44 \\ \text{النسبة الكتلية للمذيب (الماء)} &= \%100 \times \frac{m_2}{m_T} = \%100 \times \frac{145g}{180g} = \%80.55 \end{aligned}$$

س٤ : جد كمية كلوريد البوتاسيوم في محلول كتلته 19g يحتوي على 2.5% نسبة مئوية من كلوريد البوتاسيوم . ( ٢٠١٣ دور ثاني )

ج٤ :

كتلة المذاب ؟  $m_1$  ، كتلة المحلول  $m_T = 19g$  ، النسبة الكتلية للمذاب (كلوريد البوتاسيوم) = 2.5%

$$\frac{m_1}{m_T} \times 100\% = 2.5\% \Leftrightarrow \frac{m_1}{19g} \times 100\% = 2.5\% \Leftrightarrow m_1 = \frac{47.5g}{100} \Leftrightarrow 100m_1 = 19g \times 2.5$$

كتلة المذاب  $m_1 = 0.475g$  كمية كلوريد البوتاسيوم .

س٥ : جد كمية كلوريد البوتاسيوم KCl بالغرام والموجود 42g من محلول يحتوي على 8% نسبة مئوية كتلية من KCl . ( ٢٠١٦ دور ثاني )

ج٥ :

كتلة المذاب ؟  $m_1$  ، كتلة المحلول  $m_T = 42g$  ، النسبة الكتلية للمذاب (كلوريد البوتاسيوم) = 8%

$$\frac{m_1}{m_T} \times 100\% = 8\% \Leftrightarrow \frac{m_1}{42g} \times 100\% = 8\% \Leftrightarrow m_1 = \frac{336g}{100} \Leftrightarrow 100m_1 = 42g \times 8$$

كتلة المذاب  $m_1 = 3.36g$  كمية كلوريد البوتاسيوم .

س٦ : اذا كانت كتلة محلول تساوي 80g والنسبة الكتلية للمذاب تساوي 20% ، احسب كتلة المذاب . ( ٢٠١٤ دور ثاني )

ج٦ :

كتلة المذاب ؟  $m_1$  ، كتلة المحلول  $m_T = 80g$  ، النسبة الكتلية للمذاب = 20%

$$\frac{m_1}{m_T} \times 100\% = 20\% \Leftrightarrow \frac{m_1}{80g} \times 100\% = 20\% \Leftrightarrow m_1 = \frac{1600g}{100} \Leftrightarrow 100m_1 = 80g \times 20$$

كتلة المذاب  $m_1 = 16g$  .

س٧ : نموذج من الخل يحتوي على نسبة كتلية مقدارها 12% من حامض الخليك ، ما كمية الخل التي نحتاجها لكي نحصل على 36g من حامض الخليك ؟ ( ٢٠١٤ دور ثاني )

ج٧ :

كتلة المذاب (حامض الخليك)  $m_1 = 36g$  ، كتلة المحلول (الخل)  $m_T = ?$  ، النسبة الكتلية للمذاب = 12%

$$\Leftrightarrow \%100 \times \frac{36g}{m_T} = 12\% \Leftrightarrow \%100 \times \frac{m_1}{m_T} = \text{النسبة الكتلية للمذاب}$$

$$100 \times 36g = m_T \times 12 \Leftrightarrow m_T = \frac{3600g}{12} \Leftrightarrow m_T = 300g$$

كمية الخل التي نحتاجها .

س٨: نموذج من محلول الخل يحتوي على نسبة كتلية مقدارها 5% من حامض الخليك ، ما كمية الخل التي نحتاجها لكي نحصل على 30g من حامض الخليك ؟

ج٨: كتلة المذاب (حامض الخليك)  $m_1 = 30g$  ، كتلة المحلول (الخل)  $m_T = ?$  ، النسبة الكتلية للمذاب = 5%

$$\Leftrightarrow \%100 \times \frac{30g}{m_T} = 5\% \Leftrightarrow \%100 \times \frac{m_1}{m_T} = \text{النسبة الكتلية للمذاب}$$

$$100 \times 30g = m_T \times 5 \Leftrightarrow m_T = \frac{3000g}{5} \Leftrightarrow m_T = 600g$$

كمية الخل التي نحتاجها .

س٩: نموذج من محلول الخل يحتوي على نسبة كتلية مقدارها 4% من حامض الخليك ، ما كمية الخل التي نحتاجها لكي نحصل على 20g من حامض الخليك ؟

ج٩: كتلة المذاب (حامض الخليك)  $m_1 = 20g$  ، كتلة المحلول (الخل)  $m_T = ?$  ، النسبة الكتلية للمذاب = 4%

$$\Leftrightarrow \%100 \times \frac{20g}{m_T} = 4\% \Leftrightarrow \%100 \times \frac{m_1}{m_T} = \text{النسبة الكتلية للمذاب}$$

$$100 \times 20g = m_T \times 4 \Leftrightarrow m_T = \frac{2000g}{4} \Leftrightarrow m_T = 500g$$

كمية الخل التي نحتاجها .

س١٠: يحتوي ماء المحيط على نسبة مئوية كتلية 3.5% من ملح NaCl ، ما كمية الملح التي يمكن الحصول عليها من 274g من ماء المحيط ؟

ج١٠: كتلة المذاب (ملح NaCl)  $m_1 = ?$  ، كتلة المحلول (ماء البحر)  $m_T = 274g$  ، النسبة الكتلية للمذاب (ملح NaCl) = 3.5%

$$\Leftrightarrow \%100 \times \frac{m_1}{274g} = 3.5\% \Leftrightarrow \%100 \times \frac{m_1}{m_T} = \text{النسبة الكتلية للمذاب}$$

$$100 \times m_1 = 274g \times 3.5 \Leftrightarrow m_1 = \frac{959g}{100} \Leftrightarrow m_1 = 9.59g$$

كمية الملح التي نحصل عليها

س ١١ : ما النسبة المئوية الحجمية لحمض HCl والماء عند إضافة 20mL من HCl في 80mL من الماء المقطر ؟  
( ٢٠١٥ دور ثاني )

ج ١١ :

حجم المذاب ( حامض HCl )  $V_1 = 20\text{mL}$  ، حجم المذيب ( الماء المقطر )  $V_2 = 80\text{mL}$

حجم المحلول  $V_T = V_1 + V_2 = 20\text{mL} + 80\text{mL} = 100\text{mL}$

$$\%20 = \%100 \times \frac{20\text{mL}}{100\text{mL}} = \%100 \times \frac{V_1}{V_T} = \text{النسبة الحجمية للمذاب ( حامض HCl )}$$

$$\%80 = \%100 \times \frac{80\text{mL}}{100\text{mL}} = \%100 \times \frac{V_2}{V_T} = \text{النسبة الحجمية للمذيب ( الماء المقطر )}$$

س ١٢ : احسب النسبة المئوية الحجمية لكل من حامض الخليك والماء في محلول عند خلط 18mL من حامض الخليك و 32mL من الماء ؟  
( ٢٠١٦ دور اول )

ج ١٢ :

حجم المذاب ( حامض الخليك )  $V_1 = 18\text{mL}$  ، حجم المذيب ( الماء )  $V_2 = 32\text{mL}$

حجم المحلول  $V_T = V_1 + V_2 = 18\text{mL} + 32\text{mL} = 50\text{mL}$

$$\%36 = \%100 \times \frac{18\text{mL}}{50\text{mL}} = \%100 \times \frac{V_1}{V_T} = \text{النسبة الحجمية للمذاب ( حامض الخليك )}$$

$$\%64 = \%100 \times \frac{32\text{mL}}{50\text{mL}} = \%100 \times \frac{V_2}{V_T} = \text{النسبة الحجمية للمذيب ( الماء )}$$

س ١٣ : احسب النسبة المئوية الحجمية لكل من حامض الخليك والماء في محلول تكون عند خلط 20mL من حامض الخليك و 30mL من الماء ؟  
( ٢٠١٨ دور ثاني )

ج ١٣ :

حجم المذاب ( حامض الخليك )  $V_1 = 20\text{mL}$  ، حجم المذيب ( الماء )  $V_2 = 30\text{mL}$

حجم المحلول  $V_T = V_1 + V_2 = 20\text{mL} + 30\text{mL} = 50\text{mL}$

$$\%40 = \%100 \times \frac{20\text{mL}}{50\text{mL}} = \%100 \times \frac{V_1}{V_T} = \text{النسبة الحجمية للمذاب ( حامض الخليك )}$$

$$\%60 = \%100 \times \frac{30\text{mL}}{50\text{mL}} = \%100 \times \frac{V_2}{V_T} = \text{النسبة الحجمية للمذاب ( الماء )}$$

س ١٤ : احسب النسبة الكتلية لكحول الميثيل لمحلول يحتوي على ( 30g ) من كحول الميثيل و ( 225mL ) من الماء ، افترض ان كثافة الماء تساوي ( 1g/mL ) . ( ٢٠١٨ دور اول )

ج ١٤ :

من كثافة الماء نستخرج كتلة الماء التي تمثل كتلة المذيب  $m_2$

$$\frac{m (g)}{225 mL} = 1g/mL \Leftrightarrow \frac{m (g)}{V (mL)} = \frac{\text{كتلة الماء}}{\text{حجم الماء}} = \text{كثافة الماء}$$

$$m_2 = 225g \Leftrightarrow m = 1 \frac{g}{mL} \times 225mL \Leftrightarrow m = 225g$$

كتلة المذاب ( كحول الميثيل )  $m_1 = 30g$  ، كتلة المذيب ( الماء )  $m_2 = 225g$

كتلة المحلول  $m_T = m_1 + m_2 = 30g + 225g = 255g$

$$\%11.76 = \%100 \times \frac{30g}{255g} = \%100 \times \frac{m_1}{m_T} = \text{النسبة الكتلية للمذاب ( كحول الميثيل )}$$

س ١٥ : احسب كتلة KCl بالغمات الموجودة في ( 0.337L ) من محلول نسبة KCl الكتلية فيه تساوي 5.8% ( افترض ان كثافة المحلول تساوي 1.05g/mL ) . ( ٢٠١٩ دور اول )

ج ١٥ :

نحول حجم المحلول من L الى mL لأن الكثافة معطاة في السؤال بوحدة g/mL

$$337 mL = 0.337 \times 1000mL = 0.337L = \text{حجم المحلول}$$

من كثافة المحلول نستخرج كتلة المحلول التي تمثل  $m_T$

$$\frac{m (g)}{337mL} = 1.05g/mL \Leftrightarrow \frac{m (g)}{V (mL)} = \frac{\text{كتلة المحلول}}{\text{حجم المحلول}} = \text{كثافة المحلول}$$

$$m_T = 353.85g \Leftrightarrow m = 1.05 \frac{g}{mL} \times 337mL \Leftrightarrow m = 353.85g$$

كتلة المذاب ( KCl )  $m_1 = ?$  كتلة المحلول  $m_T = 353.85g$

النسبة الكتلية للمذاب ( KCl )  $5.8\%$

$$\Leftrightarrow \%100 \times \frac{m_1}{353.85g} = 5.8\% \Leftrightarrow \%100 \times \frac{m_1}{m_T} = \text{النسبة الكتلية للمذاب ( KCl )}$$

$$m_1 = 20.5233g \Leftrightarrow m_1 = \frac{2,052.33g}{100} \Leftrightarrow 100 \times m_1 = 353.85g \times 5.8$$

**الأسئلة الشرحية ( الكلامية )**

س١: عرف ثلاثاً مما يأتي : ١- المحلول ( ٢٠١٨ دور ثالث )

ج١: المحلول : خليط متجانس مكون من مادتين او اكثر لا يحدث بينهما تفاعل كيميائي ، تسمى المادة الموجودة بوفرة في المحلول ( مذيب ) ، وتسمى المادة الموجودة بقلة في المحلول بـ ( المذاب ) .

س٢: اختر الأنسب ما بين القوسين ( لإثنين فقط ) : ( ٢٠١٣ دور ثالث )

١- محلول صلب في صلب مثل : ( علبة عصير ، محلول ملحي ، قطعة نقدية )

ج٢: قطعة نقدية .

س٣: عرف اثنين مما يأتي : ١- المحلول الإلكتروني . ( ٢٠١٤ دور ثاني ) ( ٢٠١٨ دور اول )

ج٣: المحلول الإلكتروني : هو المحلول الذي تتأين فيه جزيئات المذاب .

س٤: اكمل ثلاثة من الفراغات الآتية بما يناسبها :

١- عندما تتأين جزيئات المذاب في المحلول يسمى عند ذلك بالمحلول ..... ( ٢٠١٨ دور ثاني )

ج٤: الإلكتروني

س٥: ضع كلمة ( صح ) امام العبارات الصحيحة وكلمة ( خطأ ) امام العبارات غير الصحيحة ثم

صحح الخطأ ان وجد ( لإثنين فقط ) : ( ٢٠١٤ دور اول )

١- عندما تتأين جزيئات المذاب في المحلول يسمى عند ذلك بالمحلول الإلكتروني .

ج٥: صح .

س٦: عرف اثنين مما يأتي : ١- المحلول الإلكتروني القوي . ( ٢٠١٢ دور ثاني )

ج٦: المحلول الإلكتروني القوي : هو المحلول الذي تتأين جزيئات المذاب فيه بشكل تام مثل تأين حامض الهيدروكلوريك في الماء .

س٧: علل لإثنين مما يأتي : ١- يعد حامض الهيدروكلوريك الكتروليتاً قوياً . ( ٢٠١٣ دور ثاني )



س٨: املأ الفراغات الآتية بما يناسبها ( لاثنين فقط ) :

١- المذاب الإلكتروليتي الضعيف هو .....

( ٢٠١٩ دور ثاني )

ج٨: المذاب الذي تتأين جزيئاته بدرجة غير تامة في المحلول .

س٩: ما الفرق بين مذاب الكتروليتي ضعيف و مذاب الكتروليتي قوي مع مثال لكل واحد منهما ؟

( ٢٠١٣ دور ثالث ) ( ٢٠١٥ دور اول )

ج٩:

مذاب الكتروليتي ضعيف	مذاب الكتروليتي قوي
<p>➤ مذاب تتأين جزيئاته بدرجة غير تامة واحياناً بدرجة بسيطة جداً في المحلول .</p> <p>➤ مثل تأين حامض الهيدروفلوريك</p> <p><math>HF \rightleftharpoons H^+ + F^-</math></p>	<p>➤ مذاب تتأين جزيئاته بشكل تام في المحلول</p> <p>➤ مثل تأين حامض الهيدروكلوريك في الماء .</p> <p><math>HCl \rightarrow H^+ + Cl^-</math></p>

س١٠: عرف اثنين مما يأتي : ١- قابلية الذوبان ( ٢٠١٢ دور اول ) ( ٢٠١٣ دور اول ) ( ٢٠١٤ دور اول )

( ٢٠١٥ دور اول ) ( ٢٠١٦ دور اول ) ( ٢٠١٨ دور ثاني ) ( ٢٠١٩ دور ثاني )

ج١٠: قابلية الذوبان : اكبر كمية من المادة المذابة يمكن ان تذوب في حجم ثابت من مذيب معين للحصول على محلول مشبع عند درجة حرارة معلومة .

س١١: أجب عن اثنين مما يأتي :

٣) عرف قابلية الذوبان ، وما العوامل المؤثرة عليها عددها فقط . ( ٢٠١٧ دور ثاني )

ج١١: قابلية الذوبان : اكبر كمية من المادة المذابة يمكن ان تذوب في حجم ثابت من مذيب معين للحصول على محلول مشبع عند درجة حرارة معلومة .

العوامل المؤثرة على قابلية الذوبان :

١. طبيعة المذاب والمذيب .
٢. درجة الحرارة .
٣. الضغط .

س١٢ : **وضح تأثير درجة الحرارة على قابلية الذوبان .** ( ٢٠١٥ دور ثاني )

ج١٢ : ان ارتفاع درجة الحرارة يزيد من طاقة حركة جزيئات المذيب مما يزيد من سرعة وقوة تصادم جزيئات المذيب مع جزيئات المذاب فيساعد على سرعة الذوبان .

س١٣ : **علل اثنين مما يأتي :**

١- **يذوب السكر في السائل الساخن اسرع منه في السائل البارد .** ( ٢٠١٩ دور اول )  
ج١٣ : لأن طاقة حركة جزيئات السائل تزداد عند درجات الحرارة المرتفعة مما يزيد من احتمالات قوة تصادم جزيئات السائل بسطح بلورات السكر فيساعد على سرعة ذوبانه .

س١٤ : **ما تأثير الضغط في قابلية ذوبان المواد الغازية ؟** ( ٢٠١٦ دور ثاني )  
ج١٤ : تزداد قابلية ذوبان المواد الغازية كلما ازداد الضغط الجزئي فوق سطح المحلول ، وكذلك العكس حيث تقل قابلية الذوبان كلما قل الضغط كما يحدث عند فتح غطاء قنينة المشروب الغازي حيث انه بسبب قلة الضغط يتصاعد الغاز على شكل فقاعات .

س١٥ : **علل اثنين مما يأتي :**

١- **تتصاعد فقاعات غاز CO<sub>2</sub> في المشروب الغازي بعد فتح الغطاء .** ( ٢٠١٨ دور ثالث )  
ج١٥ : لأنه عند فتح الغطاء يقل الضغط فتقل قابلية ذوبان CO<sub>2</sub> فيتصاعد الغاز على شكل فقاعات .

س١٦ : **ضع كلمة ( صح ) امام العبارات الصحيحة وكلمة ( خطأ ) امام العبارات غير الصحيحة ثم صحح الخطأ ان وجد (لأثنين فقط) :** ( ٢٠١٢ دور ثاني )  
١- **يمكن تحويل المحلول المركز الى محلول مخفف وذلك بإضافة مذاب اكثر الى المحلول .**  
ج١٦ : خطأ ، بإضافة مذيب اكثر الى المحلول .

س١٧ : **اختر من بين الأقواس ما يناسب التعابير الآتية :**  
١- **يمكن تحويل المحلول المركز الى مخفف وذلك ( بزيادة تركيز المذاب ، بتسخين المحلول ، بإضافة مذيب اكثر الى المحلول )** ( ٢٠١٦ دور ثالث ) ( ٢٠١٧ دور اول )  
ج١٧ : **بإضافة مذيب اكثر الى المحلول .**

س١٨ : **املا الفراغات الآتية بما يناسبها لأربعة مما يأتي :**  
١- **يمكن تحويل المحلول المركز الى مخفف بإضافة .....** ( ٢٠١٩ دور اول )  
ج١٨ : **مذيب اكثر الى المحلول**



# تم الجزء الأول والحمد لله أولاً وآخراً ويليه الجزء الثاني ويحتوي على بقية فصول الكتاب من الخامس الى التاسع

يصدر قريباً ان شاء الله  
من سلسلة ملازم الزهراء التعليمية





thank  
you

# الجزء الثاني

ويحتوي على

- الفصل الخامس : الزمرة الرابعة
- الفصل السادس : مدخل في الكيمياء العضوية
- الفصل السابع : الزمرة الخامسة
- الفصل الثامن : الزمرة السادسة
- الفصل التاسع : الزمرة السابعة

07730763646 // 07834663646

الأجوبة النموذجية للأسئلة الوزارية (٢٠١٢ - ٢٠١٩)

المدرس في ثانوية الفياض للبنين

اعداد وترتيب : **أبو الزهراء محمد خليفة الرطبي**

## الفصل الخامس : الزمرة الرابعة Group IV A



### Group 4 - The Crystallogens

THE GROUP 4 ELEMENTS ARE A MIX OF METALS, METALLOIDS & NOB-METALS, AND SHOW CONSIDERABLE DIVERSITY IN THEIR PROPERTIES.

**MELTING POINTS**

TIN	GERMANIUM	CARBON
232°C	937°C	3730°C
LEAD	SILICON	
327°C	1410°C	

**SILICON IS THE SECOND MOST ABUNDANT ELEMENT IN THE EARTH'S CRUST AT 25.7%**

**10** TIN IS THE ELEMENT WITH THE LARGEST NUMBER OF STABLE ISOTOPES

**CARBON MAKES UP 18.5% OF THE HUMAN BODY**

IT ALSO FORMS ORGANIC COMPOUNDS THE STUDY OF WHICH IS KNOWN AS ORGANIC CHEMISTRY

**ALL OF THE GROUP 4 ELEMENTS HAVE FOUR VALENCE ELECTRONS**

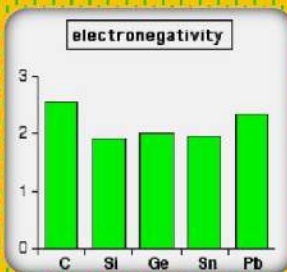
**EXPOSURE TO LEAD CAN CAUSE LEAD POISONING**

**FLEROVIUM IS ONE OF THE MAN-MADE ELEMENTS DISCOVERED IN 1999**

**8** THE NUMBER OF ALLOTROPES OF CARBON INCLUDING DIAMOND, GRAPHITE & BUCKMINSTER FULLERENE

**USES OF THE CRYSTALLOGENS**

<b>CARBON</b> DIAMONDS CARBON DATING	<b>SILICON</b> GLASS ELECTRONICS	<b>GERMANIUM</b> MICROCORES CAMERA LENSES	<b>TIN</b> TIN CANS	<b>LEAD</b> RADIATION SHIELDING LEADED PETROL
--	--	---	------------------------	---



Sample of Pure Silicon



Silicon Chip

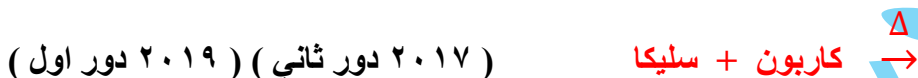


### اسئلة المعادلات الكيميائية

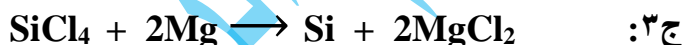
س ١ : عبر عن اثنين من التفاعلات الآتية بمعادلات كيميائية متوازنة :



س ٢ : اكمل وعبر عن اثنين من التفاعلات الآتية بمعادلات كيميائية متوازنة :



س ٣ : عبر عن اثنين من التفاعلات الآتية بمعادلات كيميائية متوازنة :



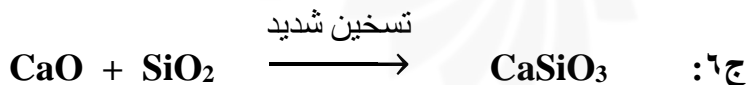
س ٤ : اكمل ووازن معادلات التفاعلات الآتية مع ذكر أسماء المواد المتفاعلة والنتيجة ( لاثنين فقط ) :



س ٥ : عبر عن اثنين من التفاعلات الآتية بمعادلات كيميائية متوازنة :



س ٦ : اكمل ثلاث من المعادلات الآتية مع الموازنة :



س٧ : عبر عن اثنين من التفاعلات الآتية بمعادلات كيميائية متوازنة :

( ٢٠١٣ دور اول )

كاربون + ثنائي اوكسيد السليكون  $\longrightarrow$

س٨ : اكمل وعبر عن اثنين من التفاعلات الآتية بمعادلات كيميائية متوازنة :

( ٢٠١٦ دور ثاني )

كاربون + سليكا  $\longrightarrow$



مركز الأزهراء للتعليمية



**( الأسئلة الشرحية ( الكلامية )**

س ١: املأ الفراغات الآتية لإثنين فقط :

( ٢٠١٢ دور اول )

١- للسليكون صورتان هما ..... و .....

ج١: متبلورة و غير متبلورة

( ٢٠١٨ دور ثاني )

س ٢: كيف يحضر السليكون صناعياً؟ وما استعملاته؟

س ٣: أجب عن إثنين مما يأتي :

( ٢٠١٧ دور ثاني )

١) تحضير السليكون صناعياً مع كتابة المعادلة الكيميائية المتوازنة .  
 ج٢/٣: يحضر السليكون صناعياً باختزال السليكا ( SiO<sub>2</sub> ) بدرجات حرارة عالية وباستخدام الكربون أو المغنيسيوم كعامل مختزل كما في المعادلة الآتية :



ويحتوي السليكون الناتج بهذه الطريقة على بعض الشوائب ، بحيث تتراوح نسبة السليكون فيه من ( 90 – 95 % ) ويسمى بـ ( السليكون الصناعي ) ويستخدم في صناعة سبائك البرونز والحديد ( Steel ) وخاصة الحديد المطاوع وفي تحضير السليكونات .

س ٣: ما السليكون عالي النقاوة ، وكيف يحضر؟

( ٢٠١٣ دور ثاني ) ( ٢٠١٤ دور اول ) ( ٢٠١٥ دور ثاني ) ( ٢٠١٨ دور اول )

ج ٣: السليكون عالي النقاوة : هو السليكون الخالي من الشوائب المحضر صناعياً بطريقة ( منطقة التكرير )

والذي يستخدم في صناعة اشباه الموصلات والرقائق الدقيقة والخلايا الشمسية ، وتتلخص هذه الطريقة بعمل السليكون على شكل قالب اسطواني ثم يسخن من احدى نهاياته بوساطة مصدر حراري حلقي متحرك ، وهذا يؤدي الى تكوين طبقة خفيفة من السليكون المنصهر ، وعند سحب المصدر الحراري الى الخلف تدريجياً يؤدي الى تحرك المنصهر الى الخلف فتتفصل الشوائب عن منصهر السليكون وتبقى في الطرف البعيد عن المصدر الحراري مما يؤدي في النهاية الى تركيز الشوائب في النهاية الأخرى من القالب الاسطواني حيث يمكن قطعها والتخلص منها ، بينما تكون النهاية الأمامية نقية جداً .

س ٤: اجب عما يأتي : ١- اشرح طريقة منطقة التكرير لتحضير السليكون عالي النقاوة. ( ٢٠١٩ دور ثاني )

ج ٤: تتلخص هذه الطريقة بعمل السليكون على شكل قالب اسطواني ثم يسخن من احدى نهاياته بوساطة مصدر حراري حلقي متحرك ، وهذا يؤدي الى تكوين طبقة خفيفة من السليكون المنصهر ، وعند

سحب المصدر الحراري الى الخلف تدريجياً يؤدي الى تحرك المنصهر الى الخلف فتتفصل الشوائب عن منصهر السليكون وتبقى في الطرف البعيد عن المصدر الحراري مما يؤدي في النهاية الى تركيز الشوائب في النهاية الأخرى من القالب الإسطواني حيث يمكن قطعها والتخلص منها ، بينما تكون النهاية الأمامية نقية جداً .

- س ٥: اجب عن اثنين مما يأتي: ١- ما اهم الخواص الفيزيائية للسليكون؟ (٢٠١٥ دور اول) (٢٠١٨ دور ثالث)  
س ٦: عدد الخواص الفيزيائية للسليكون . (٢٠١٦ دور اول) (٢٠١٧ دور اول)  
ج ٥/٦: ١- يعد السليكون من اشباه الفلزات . ٢- عنصر صلب جداً .  
٣- له درجة انصهار عالية ( 1410 °C ) . ٤- لمظهره بريق معدني .  
٥- شبه موصل للتيار الكهربائي .

- س ٧: ضع كلمة ( صح ) امام العبارات الصحيحة وكلمة ( خطأ ) امام العبارات غير الصحيحة ثم صحح الخطأ ان وجد (لإثنين فقط) :  
١- يعد السليكون من اشباه الفلزات .  
ج ٧: صح .

- س ٨: علل لإثنين مما يأتي :  
١- استعمال السليكون في صناعة الحاسبات الإلكترونية .  
س ٩: علل لإثنين مما يأتي :  
١- يستعمل السليكون في صناعة الأجهزة والدوائر الكهربائية والحاسبات الإلكترونية . (٢٠١٦ دور ثالث)  
ج ٨/٩: لأنه شبه موصل للتيار الكهربائي .

- س ٩: ضع كلمة ( صح ) امام العبارات الصحيحة وكلمة ( خطأ ) امام العبارات غير الصحيحة ثم صحح الخطأ ان وجد (لإثنين فقط) :  
١- يتفاعل السليكون عند تسخينه الى ( 950 °C ) مع الأوكسجين أو الهواء الجوي ليعطي هيدريد السليكون .  
ج ٩: خطأ ، ليعطي ثنائي أوكسيد السليكون .

- س ١٠: اكمل الفراغات الآتية بما يناسبها :  
٣- يتفاعل السليكون عند تسخينه الى ( 950 °C ) مع الأوكسجين أو الهواء الجوي ليعطي .....  
ج ١٠: ثنائي أوكسيد السليكون .



( ٢٠١٢ دور اول )

( ٢٠١٢ دور ثاني )

( ٢٠١٤ دور ثاني )

س١١ : عدد اهم استخدامات السليكون في الصناعة .

س١٢ : اذكر اهم الاستعمالات لكل مما يأتي : ٢- السليكون

س١٣ : اجب عما يأتي : ١- عدد اهم استعمالات السليكون .

ج١١/ج١٢/ج١٣ :

للسليكون استخدامات واسعة منها :

١ . في الصناعة الإلكترونية لصناعة الدوائر المتكاملة وفي الخلايا الشمسية .

٢ . في السبائك التي تستخدم في صناعات مختلفة .

٣ . في صناعة الزجاج والسمنت والسيراميك .

٤ . في صناعة المواد السليكونية العضوية ذات الأهمية التجارية الكبيرة ومنها الزيوت والبلاستيكات .

س١٤ : املأ الفراغات الآتية لاثنين فقط :

( ٢٠١٥ دور ثاني )

٣- ..... هي مركبات تتكون من السليكون والهيدروجين .

ج١٤ : الهيدريدات

س١٥ : السليكا احدى مركبات السليكون ، عدد أنواعها مع مثال لكل نوع ، ثم اذكر اهم الخواص التي تمتاز

( ٢٠١٣ دور اول )

بها السليكا ؟

ج١٥ : أنواع السليكا :

١- سليكا نقية : مثل حجر الصوان والكوارتز .

٢- سليكا غير نقية : مثل الرمل والطين .

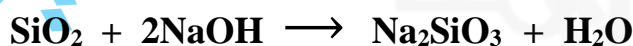
خواص السليكا :

١ . غير فعالة ، لا تتفاعل عند تعرضها للكور أو البروم أو الهيدروجين ومعظم الحوامض .

٢ . تتفاعل مع حامض الهيدروفلوريك والقواعد :



سداسي فلوريد السايلان



٣ . لها القابلية على التفاعل مع الأكاسيد أو الكربونات الفلزية بالتسخين الشديد حيث تتكون

مركبات تعرف بالسليكات .

٤. إضافة الحوامض الى محاليل سليكات الفلزات القلوية يعطي السليكا المائية ، التي يمكن تجفيفها الى مسحوق غير بلوري يسمى جل السليكا ( Silica Gel ) حيث يستعمل بصورة رئيسية كعامل مجفف وذلك لمساحته السطحية الكبيرة وقابليته العالية لامتصاص الماء .

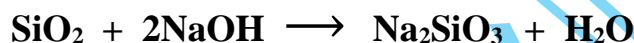
س١٦ : اذكر اهم الخواص التي تمتاز بها السليكا . ( ٢٠١٣ دور ثالث )

ج١٦ : خواص السليكا :

١. غير فعالة ، لا تتفاعل عند تعرضها للكور أو البروم أو الهيدروجين ومعظم الحوامض .
٢. تتفاعل مع حامض الهيدروفلوريك والقواعد :



سداسي فلوريد السايلان



٣. لها القابلية على التفاعل مع الأوكاسيد أو الكربونات الفلزية بالتسخين الشديد حيث تتكون مركبات تعرف بالسليكات .
٤. إضافة الحوامض الى محاليل سليكات الفلزات القلوية يعطي السليكا المائية ، التي يمكن تجفيفها الى مسحوق غير بلوري يسمى جل السليكا ( Silica Gel ) حيث يستعمل بصورة رئيسية كعامل مجفف وذلك لمساحته السطحية الكبيرة وقابليته العالية لامتصاص الماء .

س١٧ : املأ الفراغات الآتية لاثنين فقط : ( ٢٠١٧ دور ثاني )

٢- يوجد ثنائي أوكسيد السليكون ( السليكا ) في الطبيعة على نوعين ، نوع نقي مثل .....

ج١٧ : الكوارتز وحجر الصوان

س١٧ : املأ الفراغات التالية بما يناسبها :

٢- توجد السليكا في الطبيعة بصورة نقية مثل .....

ج١٧ : الكوارتز وحجر الصوان

س١٨ : علل لإثنين مما يأتي :

١- استخدام الكوارتز في قطع الزجاج وتخديش الحديد الصلب . ( ٢٠١٢ دور ثاني )

ج١٨ : لأنها مواد شديدة الصلادة .

س١٩ : علل لإثنين مما يأتي :

٣- استعمال جل السليكا كعامل مجفف .

ج١٩ : وذلك لمساحته السطحية الكبيرة وقابليته العالية لامتناس الماء .

( ٢٠١٩ دور ثاني )

س٢٠ : املأ الفراغات الآتية بما يناسبها ( لإثنين فقط ) :

٣- يمكن تحضير ..... من التسخين الشديد للسليكا مع كربونات فلزية أو أكسيد فلزي .

ج٢٠ : السليكات .

( ٢٠١٢ دور ثاني )

س٢١ : عرف اثنين مما يأتي : ٣- ماء الزجاج .

ج٢١ : ماء الزجاج : هو المحلول المائي المركز لسليكات الصوديوم القابلة للذوبان في الماء والتي هي اكثر أنواع السليكات شيوعاً واستعمالاً .

( ٢٠١٧ دور ثاني ) ( ٢٠١٩ دور اول )

س٢٢ : اجب عما يأتي : ١- عدد استعمالات ماء الزجاج .

ج٢٢ : ويستخدم ماء الزجاج في مجالات صناعية مختلفة مثل :

٢- استعماله كمادة لاصقة رخيصة .

١- حماية بعض الأقمشة والورق من الحرائق .

٣- استعماله في البناء بخلطه مع السمنت لتقويته .

( ٢٠١٦ دور ثاني )

س٢٣ : اختر الأنسب ما بين القوسين ( لإثنين فقط ) :

٢- ان اكثر أنواع السليكات شيوعاً واستعمالاً والقابلة للذوبان في الماء هي :

( سليكات الكالسيوم ، سليكات البوتاسيوم ، سليكات الصوديوم )

ج٢٣ : سليكات الصوديوم .

س٢٤ : علل لإثنين مما يأتي :

١- استخدام كاربيد السليكون كمادة جالية كما في ورق الجام وحجر الكوسرة . ( ٢٠١٨ دور ثاني )

ج٢٤ : لأن كاربيد السليكون صلد للغاية ، بسبب بنيته الشبكية .

( ٢٠١٢ دور ثاني )

س٢٥ : اختر الأنسب مما بين القوسين الذي يكمل العبارات الآتية وإثنين فقط :

١- احد مركبات السليكون الذي يستعمل في صناعة حجر الكوسرة هو .....

( السليكا المائية ، هيدريد السليكون ، كاربيد السليكون )

ج٢٥ : كاربيد السليكون .

س٢٦ : عرف اثنين مما يأتي : ٣- السليكونات .  
ج٢٦ : السليكونات: هي مركبات عضوية للسليكون غير سامة ومستقرة على مدى واسع من درجات الحرارة

س٢٧ : اكمل الفراغات الآتية :  
١- مركبات عضوية للسليكون غير سامة ومستقرة على مدى واسع من درجات الحرارة تدعى .....  
ج٢٧ : السليكونات

س٢٨ : ما السليكونات ؟ وما أهم أنواعها ؟  
ج٢٨ : السليكونات: هي مركبات عضوية للسليكون غير سامة ومستقرة على مدى واسع من درجات الحرارة ومن أهم أنواعها :

١. زيوت السليكون : التي تتصف بأنها تضيفي على السطوح طبيعة مانعة للإلتصاق أو مضادة للرطوبة ، مثل سطوح الأنسجة والبنيات .
٢. مطاط السليكون : يتصف بأنه أكثر استقراراً حرارياً من المطاط الهيدروكربوني ويبقى مرناً في مدى واسع من درجات الحرارة ، ويستعمل في صناعة القوالب وفي الحمامات والمطابخ كمواد إحكام .
٣. الراتنجات السليكونية : التي تستخدم في صناعة مواد عازلة كهربائياً وفي جعل مواد البناء مضادة للماء أيضاً .



07730763646 // 07834663646

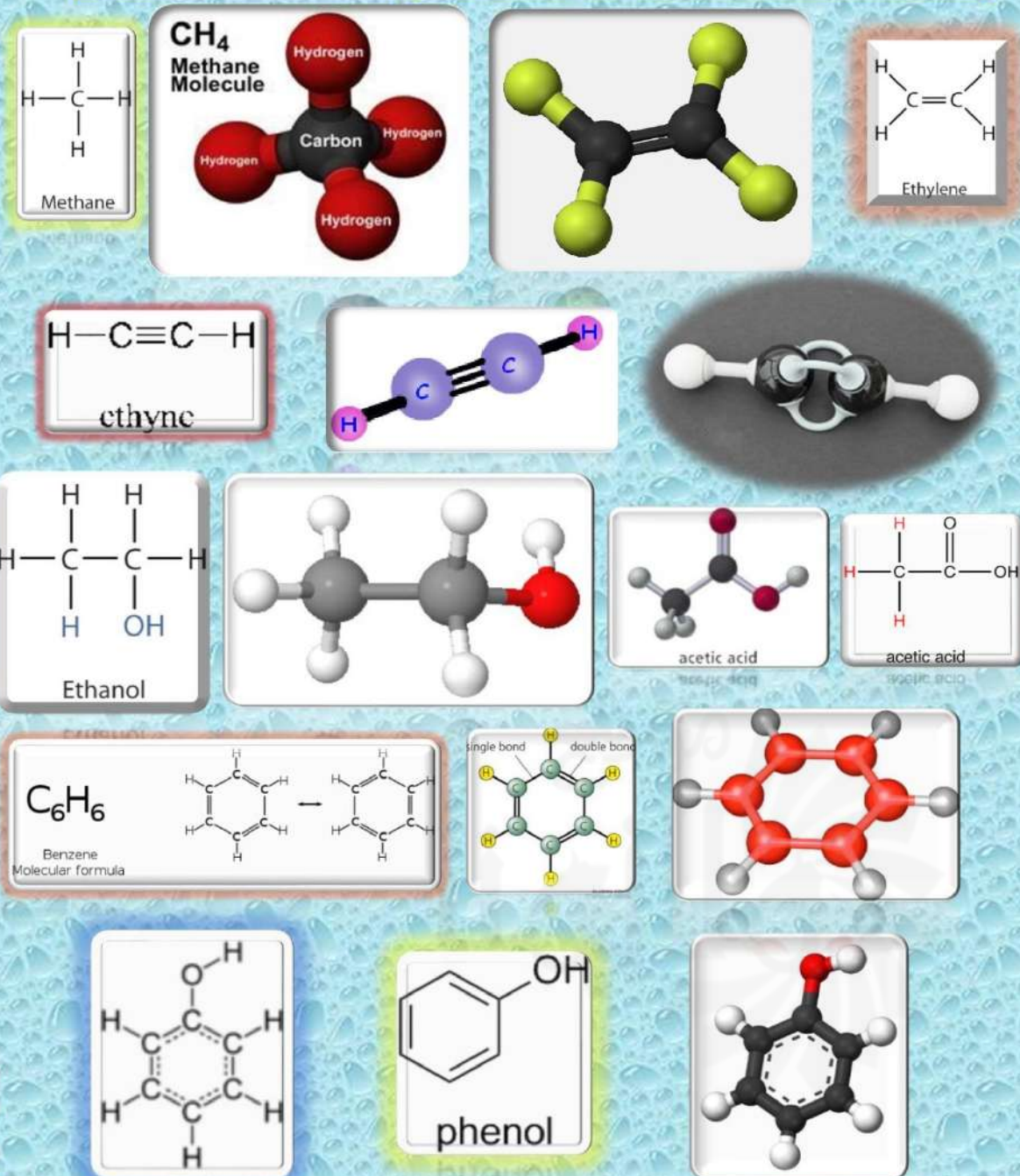


الأجوبة النموذجية للأسئلة الوزارية ( ٢٠١٢ - ٢٠١٩ )

المدرس في ثانوية الفياض للبنين

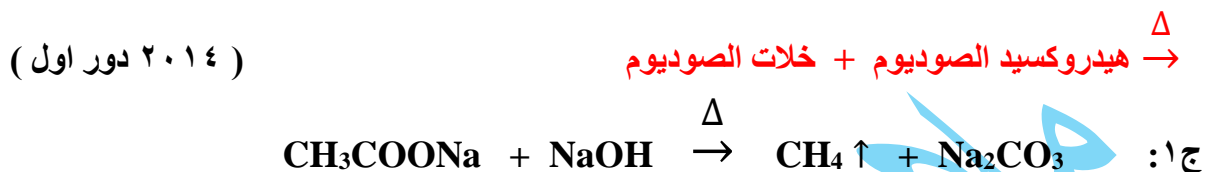
اعداد وترتيب : **أبي الزهراء محمد خليفة الرملي**

## الفصل السادس : مدخل في الكيمياء العضوية

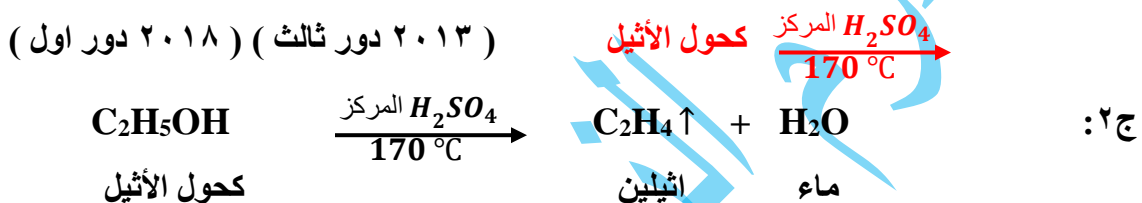


### اسئلة المعادلات الكيميائية

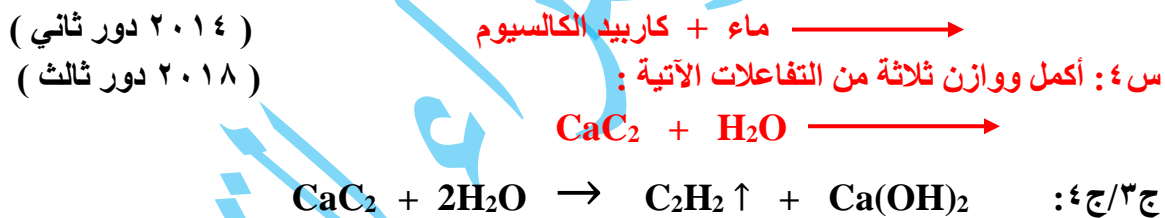
س ١: اكمل وعبر عن اثنين من التفاعلات الآتية بمعادلات كيميائية متوازنة :



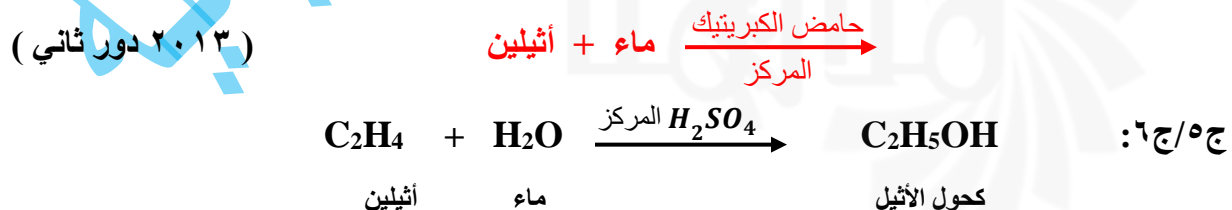
س ٢: عبر عن اثنين من التفاعلات الآتية بمعادلات كيميائية متوازنة :



س ٣: عبر عن اثنين من التفاعلات الآتية بمعادلات كيميائية متوازنة :



س ٥: اكمل ووازن معادلات التفاعلات الآتية مع ذكر أسماء المواد المتفاعلة والنتيجة ( لاثنين فقط ):



## الأسئلة الشرحية ( الكلامية )

س ١: ما أهمية المركبات العضوية في حياتنا اليومية ؟ ( ٢٠١٣ دور ثاني ) ( ٢٠١٥ دور اول )

- ج ١: تعتبر المركبات العضوية مهمة جداً في حياتنا اليومية من خلال أنها تتمثل في :
١. كل أصناف المواد الغذائية الرئيسية للإنسان والحيوان ، وهي البروتينات والكاربوهيدرات والزيوت والشحوم النباتية والحيوانية .
  ٢. كثير من المنتجات الطبيعية والصناعية كالفن والحرير الطبيعي والصناعي والورق والبلاستيكات .
  ٣. أصناف الوقود مثل النفط والغاز الطبيعي والخشب .
  ٤. العقاقير الطبية وكذلك الفيتامينات والهرمونات والأنزيمات .

س ٢: اجب عما يأتي :

( ١ ) تدخل المركبات العضوية في صناعة الكثير من المواد المهمة في حياتنا ، اذكر اثنين منها .

ج ٢:

١. أصناف الوقود مثل النفط والغاز الطبيعي والخشب .
٢. العقاقير الطبية وكذلك الفيتامينات والهرمونات والأنزيمات .

س ٣: اجب عن فرعين مما يأتي :

( ب ) ما أهم الصفات التي تمتاز بها المركبات العضوية ؟ ( ٢٠١٣ دور اول ) ( ٢٠١٨ دور ثاني )

ج ٣: تمتاز المركبات العضوية بصورة عامة بما يأتي :

١. كل المركبات العضوية تحتوي على الكربون في تركيبها ، وهي قابلة للإحتراق أو التحلل بالتسخين ولا سيما إذا تم تسخينها لدرجة حرارة عالية .
٢. غالباً ما ترتبط الذرات في المركبات العضوية بأواصر تساهمية تجعلها تتفاعل بشكل بطيء .
٣. الكثير من المركبات العضوية لا تذوب في الماء ، ولكنها تذوب في بعض السوائل العضوية كالكحول والإيثر والأسيتون ورباعي كلوريد الكربون .

س ٤: املأ الفراغات الآتية بما يناسبها ولاثنين مما يأتي : ( ٢٠١٦ دور ثاني )

٣- عند اشعال شمعة أو قطعة من الورق أو أية مادة عضوية يتحرر غاز .....

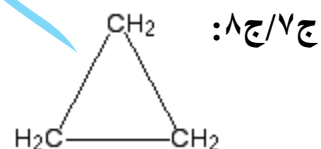
ج ٤: ثنائي أكسيد الكربون  $CO_2$

س٥: املأ الفراغات الآتية بما يناسبها ولاثنين مما يأتي : ( ٢٠١٢ دور ثاني ) ( ٢٠١٤ دور اول )  
٣- في الأستيلين ترتبط ذرتا الكربون ببعضها بأصرة تساهمية .....

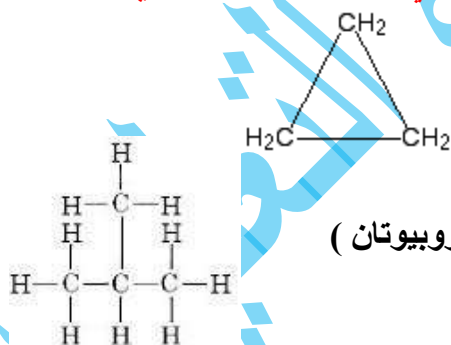
ج٥: ثلاثية

س٦: اختر من بين الأقواس ( ثلاث فقط ) :  
( ٢٠١٧ دور ثاني )  
٢) في الأستيلين (  $C_2H_2$  ) ترتبط ذرتا الكربون ببعضهما بأصرة تساهمية ( مفردة ، مزدوجة ، ثلاثية )  
ج٦: ( ثلاثية )

س٧: املأ الفراغات الآتية لاثنين فقط :  
١- الصيغة الكيميائية للبروبان الحلقي هي .....  
( ٢٠١٢ دور اول )  
س٨: املأ الفراغات الآتية لاثنين فقط :  
١- الصيغة التركيبية للبروبان الحلقي هي .....  
( ٢٠١٣ دور ثالث )



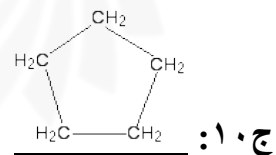
س٩: اجب عما يأتي :  
( ٢٠١٩ دور اول )  
١) أعط مثلاً لكل مما يأتي : مركب عضوي حلقي ثلاثي الشكل ، مركب عضوي سلسلة متفرعة .



• مركب عضوي حلقي ثلاثي الشكل ( بروبان حلقي )

• مركب عضوي سلسلة متفرعة ( أيزوبيوتان )

س١٠: املأ الفراغات الآتية لاثنين فقط : ١- الصيغة الكيميائية للبنتان الحلقي هي ..... ( ٢٠١٣ دور اول )

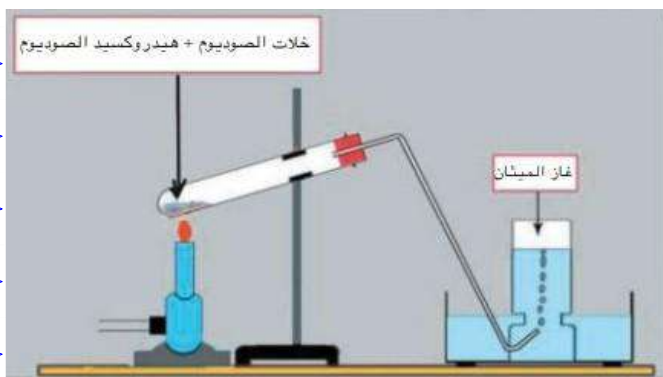




س ١١: عرف اثنين مما يأتي : ٢- الهيدروكاربونات (٢٠١٣ دور اول)(٢٠١٤ دور ثاني)(٢٠١٦ دور ثاني)

ج ١١: الهيدروكاربونات : مركبات عضوية تتكون من الهيدروجين والكاربون فقط وتكون بهيئة سلسلة غير منتهية ، وتكون مشبعة ( مثل الميثان ) أو غير مشبعة ( مثل الاثيلين ) .

س ١٢: وضح مع رسم الجهاز طريقة تحضير غاز الميثان في المختبر معزراً جواً بالمعادلة الكيميائية المتوازنة . (٢٠١٣ دور ثاني) (٢٠١٦ دور ثالث) (٢٠١٧ دور ثاني) (٢٠١٩ دور ثاني)



ج ١٢: يحضر غاز الميثان باستخدام الجهاز المبين حيث تسخن خلّات الصوديوم تسخيناً شديداً مع هيدروكسيد الصوديوم وأوكسيد أو هيدروكسيد الكالسيوم ( لأن الخليط أقل تأثيراً على الزجاج وأعلى درجة انصهار من هيدروكسيد الصوديوم ) في انبوبة اختبار مناسبة ويجمع الغاز الناتج بإزاحة الماء الى الأسفل كما في المعادلة الآتية:



س ١٣: بين صفة غاز الميثان  $\text{CH}_4$  التي تعكسها كل من الملاحظات الآتية :

١. إن الغاز يتجمع عند تحضيره بإزاحة الماء إلى الأسفل .
٢. إن الغاز لا يتفاعل مع البروم .

(٢٠١٤ دور ثاني)

ج ١٣:

١. إن الغاز يتجمع عند تحضيره بإزاحة الماء إلى الأسفل . الجواب : قليل الذوبان جداً في الماء .
٢. إن الغاز لا يتفاعل مع البروم . الجواب : مركب هيدروكربوني مشبع وأواصر تساهمية مفردة .

س ١٤: ضع كلمة ( صح ) امام العبارات الصحيحة وكلمة ( خطأ ) امام العبارات غير الصحيحة ثم صحح الخطأ ان وجد (لثنين فقط) :

(٢٠١٥ دور ثاني)

٣- يتم التمييز بين غازي الميثان والأثيلين بواسطة الفينول .


ج ١٤: خطأ ، بواسطة ماء البروم الأحمر .

س ١٥: كيف تميز بين الميثان والأثيلين؟ مع ذكر المعادلات اللفظية (٢٠١٢ دور ثاني)(٢٠١٨ دور اول/ثاني)

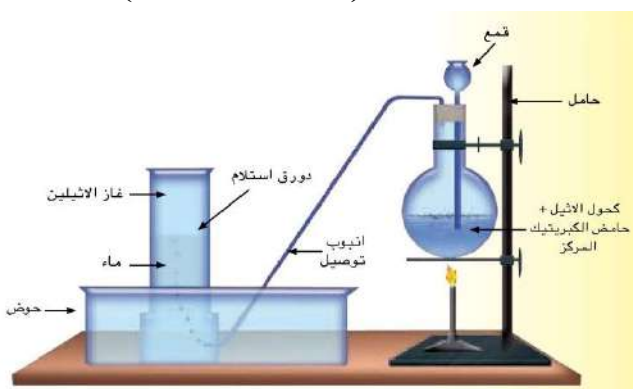
س ١٦: أجب عن اثنين مما يأتي :

٢) ميز بين غاز الميثان وغاز الأثيلين باستعمال ماء البروم . ( ٢٠١٦ دور ثاني )

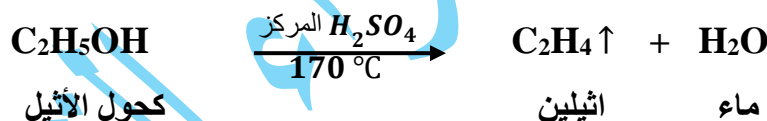
ج ١٥/١٦ : يتم التمييز بين الغازين ( الميثان والأثيلين ) عن طريق إمرار كل منهما على ماء البروم الأحمر ، حيث أن الميثان لا يتفاعل مع ماء البروم الأحمر ولا يختفي اللون الأحمر ، بينما يتفاعل الأثيلين مع ماء البروم الأحمر ويختفي اللون الأحمر وحسب المعادلات اللفظية الآتية :



س ١٧ : وضح مع رسم الجهاز طريقة تحضير غاز الأثيلين في المختبر معزراً جوابك بالمعادلة الكيميائية المتوازنة . ( ٢٠١٨ دور ثالث )



ج ١٧ : يحضر غاز الأثيلين من تسخين كحول الأثيل  $C_2H_5OH$  مع كمية كافية من حامض الكبريتيك المركز الى حوالي  $(170^\circ C)$  كما مبين في الجهاز ، حيث يقوم حامض الكبريتيك بانتزاع جزيء الماء من تركيب الكحول كما في المعادلة الآتية :



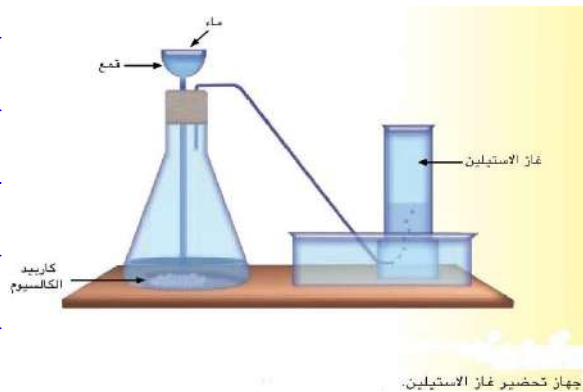
س ١٨ : أجب عن واحد فقط ( ٢٠١٤ دور اول )

- ١- قارن بين غازي الميثان والأثيلين من حيث : أ- اللون والرائحة . ب- قابلية الذوبان في الماء . ج- تفاعلها مع ماء البروم الأحمر . د - اشتعالها في الهواء بشكل اعتيادي .

ج ١٨ :

الميثان	الأثيلين
عديم اللون والرائحة	عديم اللون
قليل الذوبان جداً في الماء	لا يذوب في الماء
لا يتفاعل مع ماء البروم الأحمر	يتفاعل مع ماء البروم الأحمر ويزيل لونه
قابل للاشتعال وبلهب غير داخن مكوناً غاز ثنائي أوكسيد الكربون $CO_2$ وبخار الماء $H_2O$ ومحرراً طاقة	يشتعل بلهب داخن مكوناً ثنائي أوكسيد الكربون وماء

س١٩: وضح كيف يمكن تحضير غاز الأستيلين في المختبر معزراً اجابتك بالمعادلة الكيميائية المتوازنة  
وارسم جهاز التحضير مؤشراً على الأجزاء. (٢٠١٢ دور اول) (٢٠١٥ دور ثاني) (٢٠١٦ دور اول)  
ج١٩: يحضر غاز الاستيلين في المختبر من تفاعل كربيد الكالسيوم  $CaC_2$  مع الماء كما في المعادلة الآتية:



يحضر غاز الأستيلين في المختبر كما في الجهاز المبين حيث يوضع كربيد الكالسيوم في ورق التحضير ويضاف اليه الماء من خلال الأنبوب المقمع ببطء وبصورة تدريجية فنلاحظ حدوث تفاعل وخروج غاز الأستيلين الذي يجمع من القنينة بإزاحة الماء الى الأسفل .

س٢٠: عرف اثنين مما يأتي : ٢- الشعلة الأوكسي استيلينية . (٢٠١٥ دور اول) (٢٠١٨ دور اول)  
ج٢٠: الشعلة الأوكسي استيلينية : هي الشعلة التي تتولد من مزيج غاز الأستيلين مع غاز الأوكسجين حيث يشتعل بلهب ازرق باهت مع تولد حرارة عالية تستخدم في قطع المعادن أو لحمها .

س٢١: أكمل ثلاثة من الفراغات التالية بما يناسبها :  
(٢٠١٨ دور ثاني)  
٢) يستعمل مزيج غازي الأستيلين والأوكسجين لتوليد الشعلة المسماة بـ.....  
ج٢١: الشعلة الأوكسي استيلينية .

س٢٢: أجب عن واحد فقط  
١- قارن بين غازي الميثان والأستيلين من حيث : أ- اللون والرائحة . ب- قابلية الذوبان في الماء .  
ج - تفاعلها مع ماء البروم الأحمر . د - اشتعالها في الهواء بشكل اعتيادي .

ج٢٢:

الأستيلين	الميثان
عديم اللون ذو رائحة كريهة تشبه رائحة الثوم .	عديم اللون والرائحة
لا يذوب في الماء	قليل الذوبان جداً في الماء
يتفاعل مع ماء البروم الأحمر ويزيل لونه	لا يتفاعل مع ماء البروم الأحمر
يشتعل في الهواء بلهب داخن فيما يشتعل مع الأوكسجين بلهب ازرق باهت مع تولد حرارة عالية .	قابل للاشتعال وبلهب غير داخن مكوناً غاز ثنائي أوكسيد الكربون $CO_2$ وبخار الماء $H_2O$ ومحرراً طاقة

س٢٣: اجب عما يأتي : ١- عدد استعمالات كحول الأثيل . ( ٢٠١٦ دور اول ) ( ٢٠١٦ دور ثالث )

ج٢٣: استعمالات كحول الأثيل

١. يستعمل كمادة أولية في الكثير من الصناعات ولا سيما مواد التجميل والعطور وأنواع الوارنيز والحبر والمطاط الصناعي .
٢. يستعمل في كثير من المركبات الدوائية والمشروبات الروحية .
٣. استعماله كوقود وذلك بخلطه مع مشتقات نفطية أخرى .
٤. يخلط مع قليل من اليود ليكون محلول يستخدم لتعقيم الجروح وهو سام .
٥. يباع كحول الأثيل بثمان رخيص للأغراض الصناعية ويعطل عن الشرب ويعرف عندئذٍ بالكحول المعطل ( السبيرتو ) ويتم ذلك بإضافة بعض المواد السامة اليه مثل كحول المثيل وبعض الأصباغ لغرض تمييزه عن الكحول النقي .

س٢٤: عرف اثنين مما يأتي : ٢- الكحول المعطل . ( ٢٠١٣ دور ثالث )

ج٢٤: هو كحول الأثيل المضاف اليه بعض المواد السامة اليه مثل كحول المثيل لتعطيله عن الشرب وبعض الأصباغ لغرض تمييزه عن الكحول النقي ويعرف عندئذٍ بالكحول المعطل ( السبيرتو ) ويباع بثمان رخيص للأغراض الصناعية .

س٢٥: علل اثنين مما يأتي: إضافة كحول المثيل الى كحول الأثيل بالإضافة الى بعض الأصباغ (٢٥ ٢٠١٢)

ج٢٥: يضاف كحول المثيل ( السام ) الى كحول الأثيل لكي يعطل كحول الأثيل عن الشرب ويباع بثمان رخيص للأغراض الصناعية ويعرف عندئذٍ بالكحول المعطل ( السبيرتو ) بينما تضاف اليه بعض الأصباغ لغرض تمييزه عن الكحول النقي .

س٢٦: علل اثنين مما يأتي : ١) تحويل الكحول الاثيلي الى الكحول المعطل(السبيرتو). ( ٢٠١٩ دور ثاني )

ج٢٦: لتعطيله عن الشرب ولغرض بيعه بثمان رخيص للأغراض الصناعية .

س٢٧: أجب عن اثنين مما يأتي :

١- ما تأثير كحول الأثيل على الإنسان بعد تناوله كمشروب روحي ؟ ( ٢٠١٥ دور ثاني )

ج٢٧: أن شرب الكحول يعمل على عدم ترابط عمل الجهاز العضلي مع الجهاز العصبي حيث يحصل تغييرات واضحة في الشعور والمزاج والإدراك الحسي . وأثر هذه التغيرات الناتجة عن تأثير الجسم بالكحول يؤدي الى إبطاء عمل خلايا الجهاز العصبي والإدمان على شربه مضر جداً بصحة الإنسان لذلك يتردد المدمنون على الكحول على عيادات الأطباء والمستشفيات لكثرة الأمراض التي يجلبها ، علاوة على الأضرار الاجتماعية والسلوك الخاطيء الذي يقترفه مدمنو الكحول ، وتفرض بعض الحكومات ضرائب عالية للتقليل من استعماله كمشروب والتخفيف من أضراره الاجتماعية والصحية والإقتصادية

( ٢٠١٩ دور اول )

س٢٨: أجب عما يأتي : (١) ما خواص حامض الخليك ؟

ج٢٦: خواص حامض الخليك :

١. سائل في درجات الحرارة الاعتيادية إلا أنه يتجمد في ( 18 °C ) الى ما يشبه الثلج .
٢. ذو رائحة نفاذة .
٣. يتفاعل مع هيدروكسيد الصوديوم مكوناً ملح خلات الصوديوم الذائبة في الماء .
٤. يمتزج بالماء بأية نسبة كانت .

( ٢٠١٩ دور اول )

س٢٩: عرف ثلاثاً فقط : ٣- الفينول

ج٢٦: الفينول : مركب عضوي حلقي مغلق ، وهو عبارة عن مادة صلبة عديمة اللون ذات رائحة خاصة ومتلفة للجلد ، يذوب في الماء ، وهو مادة فعالة كيميائياً يمكن الحصول منها على مشتقات مهمة كالمعقمات والمطهرات وغيرها .

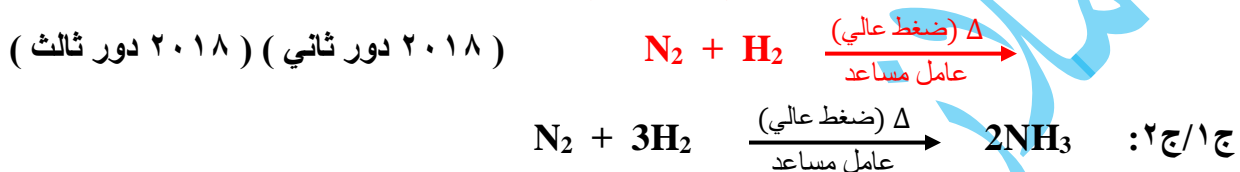


## اسئلة المعادلات الكيميائية

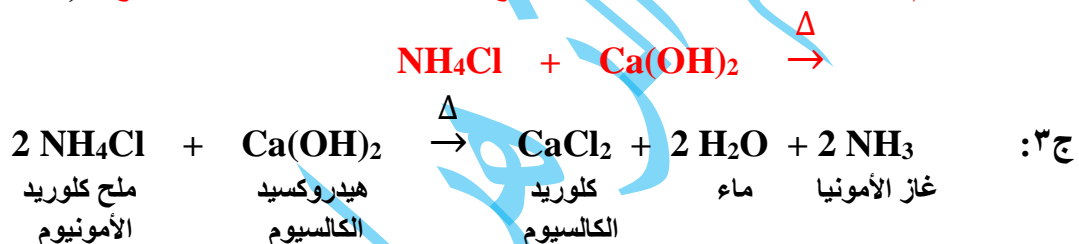
س ١: عبر عن اثنين من التفاعلات الآتية بمعادلات كيميائية متوازنة :



س ٢: أكمل ووازن معادلات التفاعل الآتية ( لثلاث فقط ) :



س ٣: أكمل ثم وازن اثنين من المعادلات الآتية مع ذكر أسماء المتفاعلات والنواتج : ( ٢٠١٢ دور ثاني )



س ٤: عبر عن اثنين من التفاعلات الآتية بمعادلات كيميائية متوازنة: ( ٢٠١٣ دور اول ) ( ٢٠١٥ دور ثاني )



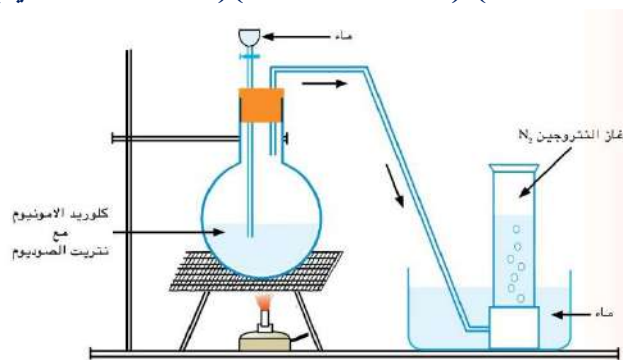
س ٥: عبر عن اثنين من التفاعلات الآتية بمعادلات كيميائية متوازنة : ( ٢٠١٢ دور اول ) ( ٢٠١٤ دور ثاني )



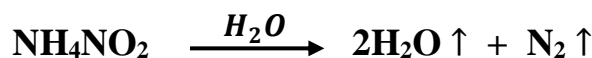
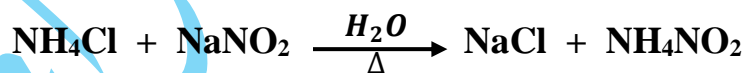
## الأسئلة الشرحية ( الكلامية )

س ١: اختر من بين الأقواس ( ثلاث فقط ) :  
 ج ١: 78%  
 ج ٢: 21% , 78% , 50% من حجم الغلاف الجوي .  
 ج ٣: 78%

س ٢: كيف يمكن تحضير غاز النتروجين في المختبر؟ معزراً إجابتك بالمعادلة الكيميائية المتوازنة وارسم جهاز التحضير مؤشراً على الأجزاء . ( ٢٠١٣ دور ثالث ) ( ٢٠١٥ دور اول ) ( ٢٠١٦ دور ثاني ) ( ٢٠١٩ دور اول )



ج ٢: يحضر غاز النتروجين في المختبر بتسخين مزيج من ملح كلوريد الأمونيوم (NH<sub>4</sub>Cl) وملح نترات الصوديوم (NaNO<sub>2</sub>) بوجود كمية قليلة من الماء ( لمنع حدوث انفجار ) كما في الجهاز المبين ، ويمكن التعبير عن التفاعل بالمعادلتين الآتيتين :



س ٣: اختر الأنسب ما بين القوسين ( لإثنين فقط )  
 ج ٢: يمكن تحضير غاز النتروجين مختبرياً بتسخين مزيج من ( أكسيد النحاس ، كلوريد الكالسيوم ، كلوريد الامونيوم ) وملح نترات الصوديوم بوجود كمية قليلة من الماء . ( ٢٠١٤ دور ثاني )  
 ج ٣: كلوريد الأمونيوم .

س ٤: اختر الأنسب ما بين القوسين ( لإثنين فقط )  
 ج ٢: النتروجين غاز ( قليل الذوبان ، كثير الذوبان ، لا يذوب ) في الماء . ( ٢٠١٦ دور اول )  
 ج ٤: قليل الذوبان .

س ٥: أجب عن فرعين مما يأتي : ( ج ) أذكر اهم استعمالات غاز النتروجين . ( ٢٠١٣ دور اول )  
 ج ٥: لغاز النتروجين استعمالات واسعة منها :



١. يستعمل لإنتاج الأمونيا صناعياً ( طريقة هابر ) ، ويعتبر ذلك من أهم الإستعمالات لما لهذه المادة من أهمية في مجال إنتاج الأسمدة وفي إنتاج حامض النتريك ( طريقة أوستولد ) .
٢. يستعمل في عمليات تبريد المنتجات الغذائية وذلك بعملية التجميد بالغمر في الغاز المسال .
٣. يستعمل النتروجين المسال في الصناعات النفطية وذلك لإحداث زيادة في ضغط الآبار المنتجة للنفط لجعل النفط يتدفق منها .
٤. يستعمل كجو خامل في خزانات المواد القابلة للإنفجار .

س٦: عرف اثنين مما يأتي : (٢ التجميد بالغمر . (٢٠١٢ دور ثاني )  
ج٦: التجميد بالغمر : هي عملية تبريد المنتجات الغذائية بغمرها في غاز النتروجين المسال .

س٧: علل ثلاث فقط مما يأتي :  
٤) يستعمل النتروجين المسال في الصناعات النفطية . (٢٠١٧ دور اول ) (٢٠١٩ دور ثاني )  
ج٧: وذلك لإحداث زيادة في ضغط الآبار المنتجة للنفط لجعل النفط يتدفق منها .

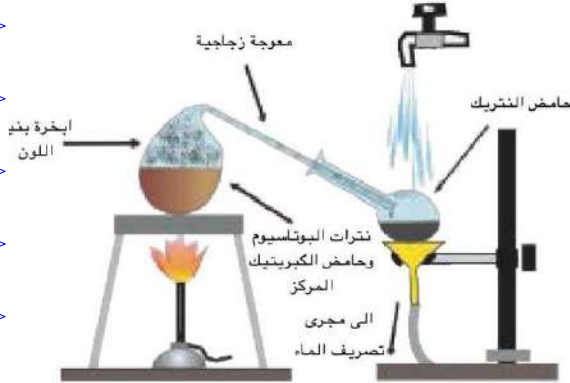
س٨: اختر الأنسب مما بين القوسين الذي يكمل العبارات الآتية ولإثنين فقط : (٢٠١٢ دور ثاني)  
٣- غاز ..... يستعمل كغاز خامل في خزانات المواد القابلة للإنفجار. ( الأوكسجين، النتروجين، الأمونيا)  
س٩: املأ الفراغات الآتية بما يناسبها لأربعة مما يأتي :  
٤) غاز ..... يستعمل كجو خامل في خزانات المواد القابلة للإنفجار. (٢٠١٩ دور اول)  
ج٨/٩: النتروجين .

س١٠: كيف يمكن الكشف عن غاز الأمونيا ؟ مع كتابة المعادلة الكيميائية المتوازنة ؟ (٢٠١٣ دور ثاني )  
س١١: كيف يمكنك الكشف عن غاز الأمونيا ؟ (٢٠١٥ دور اول ) (٢٠١٦ دور ثالث ) (٢٠١٨ دور اول )

ج١٠/١١: يمكن الكشف عن الأمونيا والتأكد من وجودها عند اتحادها مع غاز كلوريد الهيدروجين حيث ينتج أبخرة بيضاء كثيفة نتيجة لتكون غاز كلوريد الأمونيوم :  $NH_3 + HCl \uparrow \rightarrow NH_4Cl$   
غاز كلوريد الهيدروجين      غاز كلوريد الأمونيوم

س١٢: ضع كلمة ( صح ) امام العبارات الصحيحة وكلمة ( خطأ ) امام العبارات غير الصحيحة ثم صحح الخطأ ان وجد (لإثنين فقط): ٣- يعد حامض النتريك من أهم الحوامض غير الأوكسجينية للنتروجين .  
ج١٢: خطأ ، من اهم الحوامض الأوكسجينية . (٢٠١٣ دور ثاني )

س ١٣: وضح مع رسم الجهاز طريقة تحضير حامض النتريك في المختبر معزراً جوابك بالمعادلة الكيميائية المتوازنة. ( ٢٠١٤ دور ثاني ) ( ٢٠١٨ دور ثاني )



ج ١٣: يحضر حامض النتريك مختبرياً بتسخين مزيج مكون من ملح نترات البوتاسيوم مع حامض الكبريتيك المركز في معوجة زجاجية ويكثف بخار حامض النتريك الناتج من التفاعل في وعاء استقبال مبرد بالماء كما في الجهاز المبين ، ويمكن التعبير عن معادلة التفاعل بما يأتي :



( ٢٠١٧ دور ثاني )

س ١٤: علل ثلاث مما يأتي :

٤) عند ترك حامض النتريك النقي عديم اللون لفترة من الزمن يتحول لونه إلى اللون الأصفر.

ج ١٤: وذلك نتيجة لاحتوائه على أكاسيد النتروجين الذائبة ( خصوصاً  $\text{NO}_2$  ) .

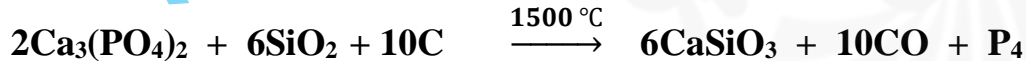
( ٢٠١٨ دور ثاني )

س ١٥: أجب عن واحد فقط : ( ٢ ) تكلم عن وجود الفسفور .

ج ١٥: يعتبر عنصر الفسفور من المكونات الأساسية في الكائنات الحية حيث يوجد في الخلايا العصبية والعظام وسائتوبلازم الخلايا ، أما في الطبيعة فلا يمكن أن يوجد بشكل حر ولكنه يوجد بشكل واسع في معادن مختلفة حيث تعتبر الخامات الفوسفاتية ( الأباتيت : شكل غير نقي لفوسفات الكالسيوم ) مصدراً مهماً لهذا العنصر ، وتوجد ترسبات كبيرة من هذا المعدن في مناطق مختلفة من العالم ومنها العراق .

س ١٦: أجب عن واحد فقط : ١- وضح كيف يمكن إنتاج الفسفور صناعياً من خاماته؟ ( ٢٠١٥ دور اول )

ج ١٦: ينتج الفسفور صناعياً بتسخين خام فوسفات الكالسيوم  $\text{Ca}_3(\text{PO}_4)_2$  الممزوج مع الرمل  $\text{SiO}_2$  والكربون C في فرن كهربائي لدرجات حرارية عالية وبمعزل عن الهواء كما في المعادلة الآتية :



إن الفسفور الناتج بهذه الطريقة هو من النوع الأبيض ( ويدعى أحياناً بالأصفر ) حيث يصب بعد إنتاجه في قوالب على هيئة قضبان اسطوانية وتتم عملية صب القوالب وحفظ الفسفور جميعها تحت الماء بسبب درجة حرارة انقاده الواطئة وسرعة اتحاده مع الأوكسجين وسرعة اشتعاله في الهواء .

س١٧ : علل اثنين مما يأتي :

- (١) يصب الفسفور الأبيض بعد إنتاجه في قوالب وتتم العملية تحت الماء .  
ج١٧ : بسبب درجة حرارة اتقاده الواطئة وسرعة اتحاده مع الأوكسجين وسرعة اشتعاله في الهواء .

س١٨ : علل اثنين مما يأتي :

- (٣) اشتعال الفسفور الأبيض تلقائياً في درجات الحرارة الإعتيادية .  
ج١٨ : لأن له درجة اتقاد واطئة .

س١٩ : إملأ الفراغات الآتية ( لاثنين فقط )

(٢٠١٥ دور ثاني )

- ٢- الفسفور الأبيض مادة فعالة جداً لذلك تحفظ تحت .....  
ج١٩ : الماء .

س٢٠ : علل اثنين مما يأتي :

- (١) الفسفور الأبيض أكثر فعالية من الفسفور الأحمر . (٢٠١٤ دور ثاني ) (٢٠١٦ دور ثاني )  
س٢١ : علل ثلاث مما يأتي :  
(١) الفسفور الأبيض أكثر فعالية من الفسفور الأحمر في درجات الحرارة الإعتيادية . (٢٠١٧ دور ثاني )  
ج٢٠/٢١ : وذلك لاختلاف كيفية ترابط الذرات المكونة لكل صورة من هاتين الصورتين من صور هذا العنصر .

س٢٢ : ما أهم الخواص الفيزيائية التي يمتاز بها الفسفور الأبيض ؟

(٢٠١٢ دور اول )

ج٢٢ : من أهم خواص الفسفور الأبيض :

١. يتوهج في الظلام ليبدو بلون اخضر باهت عند تعرضه لهواء رطب وتدعى هذه العملية بالتألق الكيميائي ويصحب هذه العملية انبعاث رائحة تشبه رائحة الثوم .
٢. يشتعل بشكل تلقائي في الهواء وعند درجة حرارة الغرفة الإعتيادية نتيجة لتأكسده بكمية كافية من الأوكسجين مكوناً خماسي أوكسيد الفسفور (  $P_2O_5$  ) وحسب المعادلة الآتية :  
$$P_4 + 5 O_2 \rightarrow 2 P_2O_5$$
- وتحت ظروف أخرى ( بكميات محددة من الأوكسجين ) يتأكسد الفسفور الأبيض ليكون ثلاثي أوكسيد الفسفور (  $P_2O_3$  ) كما في المعادلة الآتية :  
$$P_4 + 3 O_2 \rightarrow 2 P_2O_3$$
٣. يعتبر الفسفور الأبيض مادة سامة بالنسبة لخلايا الكائنات الحية ويؤدي دخول الفسفور إلى داخل الجهاز الهضمي وذوبانه في العصارات الهضمية الى حالة تسمم على خلاف الفسفور الأحمر الذي لا يذوب في هذه العصارات .

س ٢٣: عرف اثنين مما يأتي : ٣- التآلق الكيميائي . ( ٢٠١٥ دور ثاني ) ( ٢٠١٨ دور ثاني )  
ج ٢٣: هي ظاهرة توهج الفسفور الأبيض في الظلام ليبدو بلون أخضر باهت عند تعرضه لهواء رطب ويصحب هذه العملية انبعاث رائحة تشبه رائحة الثوم .

س ٢٤: علل اثنين مما يأتي : ( ٢٠١٣ دور ثاني ) ( ٢٠١٨ دور اول )  
٢) يعد الفسفور الأبيض مادة سامة بالنسبة لخلايا الكائنات الحية .  
س ٢٤: علل اثنين مما يأتي : ٢) الفسفور الأبيض مادة سامة جداً .  
ج ٢٣/٢٤: لأنه عند دخوله الى الجهاز الهضمي وذوبانه في العصارات الهضمية يؤدي الى حالة تسمم .

س ٢٥: قارن بين الفسفور الأبيض والفسفور الأحمر . ( ٢٠١٦ دور ثالث )  
ج ٢٥:

الفسفور الأبيض	الفسفور الأحمر
١- شبه شفاف ابيض اللون مائل الى الصفرة	١- مظهره الخارجي احمر اللون مائل الى البنفسجي
٢- أقل كثافة من الفسفور الأحمر	٢- أعلى كثافة من الفسفور الأبيض
٣- له درجة انصهار واطنة	٣- يتسامى بالتسخين
٤- له درجة إتقاد واطنة لذلك يشتعل بسهولة	٤- درجة إتقاده عالية
٥- سام	٥- غير سام
٦- يذوب في بعض المذيبات مثل ثنائي كبريتيد الكاربون ، ولا يذوب في الماء .	٦- لا يذوب في المذيبات العضوية ، ولا يذوب في الماء .
٧- ينتج بشكل قضبان تحفظ تحت الماء لفعاليتها العالية .	٧- ينتج بشكل مسحوق ، لا يتأثر بالهواء في الظروف الاعتيادية .

س ٢٦: أجب عن واحد فقط :  
١- اذكر خمسة فروق بين الفسفور الأبيض والفسفور الأحمر ( ٢٠١٤ دور اول ) ( ٢٠١٦ دور اول )  
س ٢٧: قارن بين الفسفور الأبيض والفسفور الأحمر (خمس نقاط فقط). ( ٢٠١٧ دور اول ) ( ٢٠١٩ دور ثاني )  
ج ٢٧/٢٦:

الفسفور الأبيض	الفسفور الأحمر
١- شبه شفاف ابيض اللون مائل الى الصفرة	١- مظهره الخارجي احمر اللون مائل الى البنفسجي
٢- أقل كثافة من الفسفور الأحمر	٢- أعلى كثافة من الفسفور الأبيض
٣- له درجة انصهار واطنة	٣- يتسامى بالتسخين
٤- له درجة إتقاد واطنة لذلك يشتعل بسهولة	٤- درجة إتقاده عالية
٥- سام	٥- غير سام

( ٢٠١٨ دور ثاني )

س٢٨ : عدد خمساً من خواص الفسفور الأبيض .

- ج٢٨ : ١- شبه شفاف ابيض اللون مائل الى الصفرة . ٢- أقل كثافة من الفسفور الأحمر .  
٣- له درجة انصهار واطنة . ٤- له درجة إتقاد واطنة لذلك يشتعل بسهولة . ٥- سام .

س٢٩ : ضع كلمة ( صح ) امام العبارات الصحيحة وكلمة ( خطأ ) امام العبارات غير الصحيحة ثم صحح الخطأ ان وجد (لاثنين فقط) : ٣- الفسفور الأحمر إحدى صورتي الفسفور ، تكفي حرارة يدك لاتقادها لذلك يلزم عدم مسكها باليد عند استعمالها لأداء التجارب . ( ٢٠١٩ دور اول )

ج٢٩ : خطأ ، الفسفور الأبيض .

( ٢٠١٧ دور ثاني )

س٣٠ : عدد استعمالات اثنين مما يأتي : ٢- فوسفات الصوديوم .

- ج٣٠ : استعمالات فوسفات الصوديوم :  
١ . تستعمل بشكل واسع كإحدى مساحيق التنظيف ، حيث تتحلل تحللاً مائياً ( تتفاعل مع جزيء الماء ) لتكون هيدروكسيد الصوديوم التي تساعد في إزالة الدهون العالقة في الأجسام .  
٢ . تستعمل في تحلية الماء ( تحويل الماء العسر الذي لا يرغو فيه الصابون إلى ماء يسر ) .  
٣ . تستعمل كمادة ملحية حافظة لبعض المواد الغذائية واللحوم ولها استعمالات كثيرة أخرى .

( ٢٠١٦ دور ثالث )

س٣١ : عرف ثلاثة مما يأتي : ٤- الفوسفات

- ج٣١ : الفوسفات : هي أملاح لحمض الفسفوريك لها أهمية كبيرة في الصناعة ، ومن أهم أنواعها هي :  
١ . فوسفات الصوديوم : التي تستعمل بشكل واسع كإحدى مساحيق التنظيف .  
٢ . فوسفات الكالسيوم : التي هي المصدر الرئيس للفسفور في الطبيعة وفي إنتاج الأسمدة النباتية .

س٣٢ : ضع كلمة ( صح ) امام العبارات الصحيحة وكلمة ( خطأ ) امام العبارات غير الصحيحة ثم صحح الخطأ ان وجد (لاثنين فقط) :

( ٢٠١٥ دور ثاني )

٢- يعامل عود الثقاب بمحلول هيدروكسيد الصوديوم .

ج٣٢ : خطأ ، محلول لفوسفات الأمونيوم .

س ٣٣: أجب عن واحد مما يأتي :

(٢) عدد مكونات عجينة رأس عود الثقاب ؟ وبين كيف يشتعل العود ؟ (٢٠١٩ دور ثاني)

ج ٣٣: يغطي رأس عود الثقاب بعجينة تتكون من :

١. مادة قابلة للاشتعال مثل كبريتيد الأنثيمون  $Sb_2S_3$
  ٢. مادة مؤكسدة مثل كلورات البوتاسيوم  $KClO_3$
  ٣. مادة تزيد من الاحتكاك مثل مسحوق الزجاج .
  ٤. مادة صمغية تربط مكونات العجينة .
- وعند حك رأس العود بجانب العلبة التي تحوي على الفسفور الأحمر ، تتولد حرارة تكفي لبدء الاشتعال على جانب العلبة ثم تنتقل الشعلة الى رأس العود ويستمر الاشتعال .

س ٣٤: أجب عن واحد فقط: ٢- ما مكونات رأس عود الثقاب ؟ عدد ها (٢٠١٣ دور ثاني) (٢٠١٨ دور ثالث)  
س ٣٥: أجب عن اثنين مما يأتي : (٢) ما المواد التي تتكون منها عجينة رأس عود الثقاب ؟ (٢٠١٦ دور ثاني)

ج ٣٤/٣٥: يغطي رأس عود الثقاب بعجينة تتكون من :

١. مادة قابلة للاشتعال مثل كبريتيد الأنثيمون  $Sb_2S_3$
٢. مادة مؤكسدة مثل كلورات البوتاسيوم  $KClO_3$
٣. مادة تزيد من الاحتكاك مثل مسحوق الزجاج .
٤. مادة صمغية تربط مكونات العجينة .

س ٣٦: ضع كلمة ( صح ) امام العبارات الصحيحة وكلمة ( خطأ ) امام العبارات غير الصحيحة ثم صحح الخطأ ان وجد (لثنين فقط) :

٣- تضاف مادة مؤكسدة الى عجينة رأس عود الثقاب مثل فوسفات الكالسيوم . (٢٠١٢ دور اول)

ج ٣٦: خطأ ، كلورات البوتاسيوم  $KClO_3$  .

س ٣٧: اختر الأنسب ما بين القوسين ( لثنين فقط )

٢- مادة مؤكسدة تضاف الى عجينة رأس عود الثقاب هي :

( كلورات البوتاسيوم ، هيدروكسيد البوتاسيوم ، بروميد البوتاسيوم ) (٢٠١٣ دور ثالث)

ج ٣٧: كلورات البوتاسيوم .

س٣٨: أكمل الفراغات الآتية : ( ٢٠١٦ دور ثالث ) ( ٢٠١٧ دور اول ) ( ٢٠١٨ دور اول )  
٤ ( يغطى رأس عود الثقباب بعجينة تحتوي مادة مؤكسدة مثل .....

ج٣٨: كلورات البوتاسيوم  $KClO_3$  .

س٣٩: ضع كلمة ( صح ) امام العبارات الصحيحة وكلمة ( خطأ ) امام العبارات غير الصحيحة ثم صحح الخطأ ان وجد (لاثنين فقط) :  
١- مادة تضاف الى عجينة رأس عود الثقباب تزيد من الإحتكاك مثل كلورات البوتاسيوم .

ج٣٩: خطأ ، مثل مسحوق الزجاج .

س٤٠: إملأ الفراغات الآتية ( لاثنين فقط )  
٣- من مكونات عجينة رأس عود الثقباب مادة تزيد من قوة الإحتكاك مثل .....

ج٤٠: مسحوق الزجاج .

س٤١: إختار الأنسب ما بين القوسين ( لاثنين فقط ): ٣- من بين المواد التي يدخل في تركيبها الفسفور مادة واحدة تستعمل مباشرة كسماد فوسفاتي هي : ( العظام ، السوبر فوسفات ، فوسفات الكالسيوم )

ج٤١: السوبر فوسفات . ( ٢٠١٦ دور اول )

س٤٢: ضع كلمة ( صح ) امام العبارات الصحيحة وكلمة ( خطأ ) امام العبارات غير الصحيحة ثم صحح الخطأ ان وجد (لاثنين فقط) :  
٣- من بين المواد التي يدخل في تركيبها الفسفور مادة واحدة تستعمل مباشرة كسماد هي العظام .

ج٤٢: خطأ ، هي السوبر فوسفات .

س٤٣: اجب عن واحد فقط : ٢- ما فوائد السماد الفوسفاتي على السنبلبات؟ (٢٠١٤ دور أول)(٢٠١٩ دور اول)

ج٤٣: يقوي سيقانها ويعجل نمو بذورها ويزيد من مقاومتها للأمراض .

07730763646 // 07834663646 (٢٠١٩ - ٢٠١٢) الأجوبة النموذجية للأسئلة الوزارية

المدرس في ثانوية الفياض للبنين

اعداد وترتيب : **أبو الزهراء محمد خليفة الرومي**

## الفصل الثامن : الزمرة السادسة

Oxygen, O

Sulfur, S

Selenium, Se

Tellurium, Te

Polonium, Po

Group 16,  
chalcogens

### Group 6 - The Chalcogens

THE GROUP 6 ELEMENTS ARE A MIX OF ELECTRONEGATIVE NON-METALS & METALLOIDS COMMONLY ASSOCIATED WITH METAL BEARING MINERALS

<b>8</b> O Oxygen	<b>16</b> S Sulphur	<b>34</b> Se Selenium	<b>52</b> Te Tellurium	<b>84</b> Po Polonium	<b>116</b> Lv Livermorium
-------------------------	---------------------------	-----------------------------	------------------------------	-----------------------------	---------------------------------

**MELTING POINTS**

OXYGEN -218°C	SELENIUM 221°C	TELLURIUM 480°C
SULPHUR 120°C	POLONIUM 254°C	

ALL OF THE SOLID CHALCOGENS ARE SOFT AND DON'T CONDUCT HEAT WELL

OXYGEN MAKES UP **65%** OF THE HUMAN BODY

ALL OF THE COMPOUNDS OF HYDROGEN WITH CHALCOGENS ARE TOXIC

**ALL OF THE GROUP 6 ELEMENTS HAVE SIX VALENCE ELECTRONS**

ALL THE GROUP 6 ELEMENTS FORM -2 IONS WHEN REACTING WITH ELECTROPOSITIVE METALS

SULPHUR DIOXIDE REACTS WITH WATER VAPOUR TO FORM SULPHURIC ACID AND CAUSE ACID RAIN

**USES OF THE CHALCOGENS**


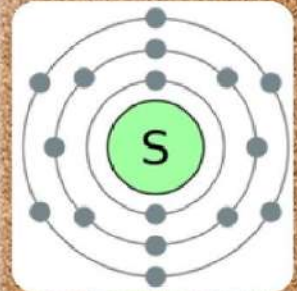
<b>OXYGEN</b> MAKING STEEL ROCKET FUEL	<b>SULPHUR</b> GUNPOWDER SULPHURIC ACID	<b>SELENIUM</b> PHOTOCOPIERS GLASS-MAKING	<b>TELLURIUM</b> CD-RW DISCS SOLAR PANELS	<b>POLONIUM</b> ALPHA PARTICLE GENERATOR RESEARCH
--	---	---	---	---

**APART FROM WATER**

OXYGEN IS THE ONLY GASEOUS CHALCOGEN

SELENIUM & POLONIUM ARE BOTH METALLOIDS

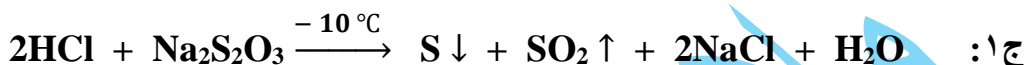
**hydrogen sulfide**





## اسئلة المعادلات الكيميائية

س ١: عبر عن اثنين من التفاعلات الآتية بمعادلات كيميائية متوازنة :  
ثايوكبريتات الصوديوم + حامض الهيدروكلوريك ( ٢٠١٣ دور ثاني )



س ٢: عبر عن اثنين من التفاعلات الآتية بمعادلات كيميائية متوازنة :  
كبريتيت الصوديوم + حامض الكبريتيك المخفف ( ٢٠١٣ دور ثالث )



س ٣: أكمل ثم وازن اثنين من المعادلات الآتية مع ذكر أسماء المتفاعلات والنواتج :  
 $\text{FeS} + \text{H}_2\text{SO}_4 \longrightarrow$  ( ٢٠١٢ دور ثاني ) ( ٢٠١٦ دور ثالث ) ( ٢٠١٨ دور ثاني )



س ٤: عبر عن اثنين من التفاعلات الآتية بمعادلات كيميائية متوازنة: ( ٢٠١٥ دور ثاني ) ( ٢٠١٨ دور اول )  
كبريتات النحاس + كبريتيد الهيدروجين

س ٥ أكمل ووازن معادلات التفاعلات الآتية ( لاثنين فقط ) :



## الأسئلة الشرحية ( الكلامية )

س ١: إملأ الفراغات الآتية بما يناسبها ( لاثنين فقط ) :  
٢- يوجد عنصر الكبريت في الطبيعة بصورة .....  
ج ١: عنصر حر .

س ٢: إختار من بين الأقواس ما يناسب التعابير الآتية :  
( ٢ ) يوجد عنصر الكبريت في الطبيعة بصورة ( حرة فقط ، مركبات فقط ، حرة ومركبات )  
ج ٢: حرة ومركبات .

س ٣: إشرح باختصار طريقة إستخراج الكبريت صناعياً بطريقة فراش. (٢٠١٤ دور ثاني) (٢٠١٦ دور اول)  
س ٤: إشرح طريقة ( فراش ) لإستخراج الكبريت . (٢٠١٦ دور ثالث) (٢٠١٩ دور ثاني)

ج ٣/٤: تتمثل طريقة فراش بصهر الكبريت وهو في باطن الأرض باستخدام معدات خاصة ، مكونة من ثلاثة أنابيب داخل بعضها البعض متمحورة مركزياً تعمل كالآتي :  
١. يدفع بخار الماء المضغوط والمسخن إلى درجة ( 170 °C ) في الأنبوبة الخارجية ( أ ) إلى مكان تجمع الكبريت مما يؤدي إلى انصهار الكبريت وهو داخل الأرض .  
٢. يضخ هواء مضغوط من الأنبوبة الداخلية ( ب ) لكي يرفع الكبريت المنصهر إلى الأعلى .  
٣. يخرج الكبريت المنصهر إلى سطح الأرض عن طريق الأنبوبة الوسطى ( ج ) مختلطاً ببعض فقاعات الهواء .  
٤. عند سطح الأرض يصب الكبريت المنصهر في أحواض كبيرة ويترك لكي يبرد ويصلب .

س ٥: عدد الخواص الفيزيائية للكبريت . ( ٢٠١٧ دور ثاني )

ج ٥: يمتلك الكبريت الخواص الفيزيائية الآتية :  
١. مادة صلبة في درجات الحرارة الإعتيادية ذات لون اصفر .  
٢. عديم الطعم وذو رائحة مميزة .  
٣. لا يذوب في الماء ولكن يذوب في بعض المذيبات اللاعضوية مثل ثنائي كبريتيد الكربون .  
٤. غير موصل للتيار الكهربائي .  
٥. له صور متعددة في الطبيعة تتباين في صفاتها الفيزيائية ، ويمكن تقسيمها إلى نوعين رئيسيين هما:  
• الكبريت البلوري : وأكثره شيوعاً هو الكبريت المعيني ثم الكبريت المشعوري .  
• الكبريت غير البلوري : ومن أمثله الكبريت المطاطي .

س٦: عدد أربعاً من الخواص الفيزيائية للكبريت . ( ٢٠١٨ دور ثاني )

ج٦: يمتلك الكبريت الخواص الفيزيائية الآتية :

١. مادة صلبة في درجات الحرارة الإعتيادية ذات لون اصفر .
٢. عديم الطعم وذو رائحة مميزة .
٣. لا يذوب في الماء ولكن يذوب في بعض المذيبات اللاعضوية مثل ثنائي كبريتيد الكربون .
٤. غير موصل للتيار الكهربائي .

س٧: ضع كلمة ( صح ) امام العبارات الصحيحة وكلمة ( خطأ ) امام العبارات غير الصحيحة ثم صحح الخطأ ان وجد ( لإثنين فقط ) : ( ١ ) من أمثلة الكبريت غير البلوري الكبريت المطاطي . ( ٢٠١٩ دور اول )  
ج٧: صح .

س٨: كيف يتم تحضير الكبريت المطاط ؟ ( ٢٠١٨ دور ثالث )

ج٨: يمكن تحضير الكبريت المطاط من تسخين الكبريت الى (  $1500^{\circ}\text{C}$  ) وصب سائل الكبريت في الماء البارد حيث يتكون الكبريت المطاطي الذي يحتوي على سلاسل حلزونية وهو اقل استقراراً من الكبريت البلوري ويتحول ببطء الى الصورة البلورية .

س٩: إختار الأنسب مما بين القوسين الذي يكمل العبارات الآتية وإثنين فقط :  
٢- من بين الجزيئات الصلبة الآتية في الحالة الحرة جزيء واحد يحتوي ثمان ذرات هو جزيء :  
( الكربون ، الكبريت ، الفسفور الأبيض ) . ( ٢٠١٢ دور ثاني ) ( ٢٠١٥ دور اول )  
ج٩: الكبريت .

س١٠: عدد خمسة استعمالات للكبريت ؟ ( ٢٠١٨ دور ثالث )

- ج١٠: للكبريت استعمالات عديدة في المجالات الصناعية والزراعية ومن أهمها :
١. يدخل في صناعة الثقاب والبارود الأسود والألعاب النارية لسهولة اشتعاله .
  ٢. يستخدم في الزراعة لمعادلة قلوية التربة وبعض أنواع الأسمدة وفي مبيدات الفطريات والحشرات .
  ٣. استخدامه بكميات كبيرة في تحضير حامض الكبريتيك ، والذي يعد اهم مادة كيميائية تجارية في العالم ، ويعتبر هذا اهم استخدام للكبريت .
  ٤. يستخدم في انتاج الأصباغ والدهانات ( الطلاء ) .
  ٥. يستخدم في انتاج الورق والمنسوجات وعدد من المنتجات الكيميائية الصناعية .

س١١: علل اثنين مما يأتي: (٢) إستعمال الكبريت في صناعة الألعاب النارية . ( ٢٠١٣ دور اول )  
ج١١: لسهولة اشتعاله . ( ٢٠١٥ دور ثاني )

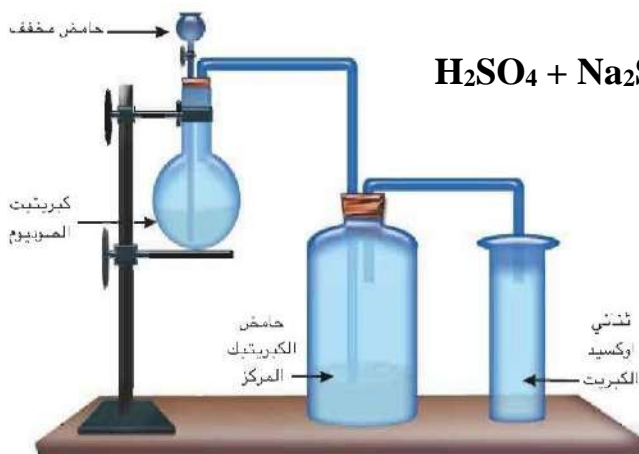
س١٢: أجب عن إثنين مما يأتي : (٢) كيف تفصل خليطاً ناعماً جداً من ملح الطعام والطحاشير والكبريت ، صف طريقة عملية لفصل هذه المواد للحصول عليها بشكل نقي وجاف . (٢٠١٨ دور ثالث)

ج١٢: طريقة الفصل :

١. نضيف الماء إلى الخليط حيث يذوب أغلب ملح الطعام ويفصل المحلول الملحي عن الخليط بالترشيح ثم نسخنه ليتبخر الماء ونحصل على بلورات نقية من ملح الطعام وبعدها نجففها .
٢. نضيف سائل ثنائي كبريتيد الكربون إلى الراسب ( الحاوي على الطباشير والكبريت ) فيذوب الكبريت ويفصل عن الطباشير بالترشيح ثم يترك محلول الكبريت المذاب ( الراشح ) ليجمد . ويبقى الطباشير ( الراسب ) في ورقة الترشيح ويجفف وبذلك نحصل على هذه المواد نقية وجافة .

س١٣: وضح مع رسم الجهاز طريقة تحضير غاز ثنائي أوكسيد الكبريت في المختبر ؟ معزراً إجابتك بكتابة المعادلة الكيميائية المتوازنة . (٢٠١٤ دور اول) (٢٠١٧ دور اول) (٢٠١٨ دور اول)

ج١٣: يحضر غاز ثنائي أوكسيد الكبريت مختبرياً من إضافة حامض الكبريتيك المخفف إلى كبريتيت الصوديوم  $Na_2SO_3$  كما في الجهاز المبين ، ولكونه أثقل من الهواء يمكن أن يجمع عن طريق إزاحة الهواء إلى الأعلى كما في المعادلة الآتية :



س١٤: علل اثنين مما يأتي : (٢) يجمع غاز  $SO_2$  بإزاحة الهواء إلى الأعلى . (٢٠١٢ دور ثاني) ج١٤: لأنه أثقل من الهواء .

س١٥: اختر من بين الأقواس ما يناسب التعابير الآتية : (٢) أحد الغازات الآتية يستعمل في صناعة حفظ الأغذية . (كبريتيد الهيدروجين ، ثنائي أوكسيد الكبريت ، كلوريد الهيدروجين)

ج١٥: ثنائي أوكسيد الكبريت .

س١٦ : اختر الأنسب ما بين القوسين ( لإثنين فقط ) :

٣- غاز ذو رائحة كريهة نفاذة كرائحة البيض الفاسد هو غاز :

( كبريتيد الهيدروجين ، ثنائي أكسيد الكبريت ، ثنائي أكسيد الكربون ) ( ٢٠١٦ دور ثاني )

ج١٦ : كبريتد الهيدروجين .

س١٧ : إملأ الفراغات الآتية بما يناسبها :

٤ ( غاز عديم اللون ذو رائحة كريهة نفاذة كرائحة البيض الفاسد هو ..... )

ج١٧ : غاز كبريتيد الهيدروجين .

س١٨ : أجب عن اثنين مما يأتي : (١) كيف يتكون غاز كبريتيد الهيدروجين في الطبيعة ؟ (٢٠١٨ دور ثاني)

ج١٨ : يتكون غاز كبريتيد الهيدروجين في الطبيعة بثلاث طرائق هي :

١. من تحلل المواد العضوية .
٢. من المياه الجوفية المحتوية المواد الكبريتية كما في العيون الكبريتية في حمام العليل في محافظة نينوى.
٣. من النشاط الحيوي للبكتريا التي تستخدم الحديد والمنغيز كجزء من غذائها .

س١٩ : أجب عن واحد فقط : ١- اشرح باختصار طريقة التلامس لصناعة حامض الكبريتيك تجارياً مع كتابة

المعادلات الكيميائية المتوازنة . ( ٢٠١٢ دور اول ) ( ٢٠١٥ دور ثاني ) ( ٢٠١٦ دور ثاني )

ج١٩ : يحضر حامض الكبريتيك بطريقة التلامس والتي يمكن تلخيصها كالآتي :

١. تفاعل الكبريت مع الأوكسجين لتكوين ثنائي أكسيد الكبريت :  $S + O_2 \longrightarrow SO_2$
٢. ادخال غاز ثنائي أكسيد الكبريت الى برج التلامس الذي يحتوي على عامل مساعد خامس أكسيد الفناديوم (  $V_2O_5$  ) للحصول على ثلاثي أكسيد الكبريت :  $2SO_2 + O_2 \xrightarrow{V_2O_5} 2SO_3$
٣. ثم يضاف حامض الكبريتيك المركز فيتكون  $H_2S_2O_7$  الداخن :  $SO_3 + H_2SO_4 \longrightarrow H_2S_2O_7$
٤. ثم يتم بعدها إضافة الماء فيتكون حامض الكبريتيك المركز :  $H_2S_2O_7 + H_2O \longrightarrow 2H_2SO_4$

س٢٠ : وضح بالمعادلات فقط تحضير حامض الكبريتيك صناعياً بطريقة التلامس . ( ٢٠١٩ دور اول )

ج٢٠ :  $S + O_2 \longrightarrow SO_2$

$2SO_2 + O_2 \xrightarrow{V_2O_5} 2SO_3$

$SO_3 + H_2SO_4 \longrightarrow H_2S_2O_7$

$H_2S_2O_7 + H_2O \longrightarrow 2H_2SO_4$

س ٢١: علل اثنين مما يأتي: (٢) يجب أخذ الحيطة والحذر عند تخفيف حامض الكبريتيك (٢٠١٣ دور ثالث)  
ج ٢١: لأنه عند ذوبانه في الماء يولد حرارة عالية . (٢٠١٥ دور اول)

س ٢٢: اجب عن واحد فقط : يسلك حامض الكبريتيك المركز كعامل مجفف عند تفاعله مع المركبات العضوية ، أثبت ذلك معزراً إثباتك بالمعادلة الكيميائية المتوازنة . (٢٠١٤ دور اول)

ج ٢٢: بسبب ميله الشديد للاتحاد بالماء ، حيث ينتزع جزيئات الماء من المركبات العضوية كما يحدث عند غمر ملعقة من سكر القصب في وعاء بحامض الكبريتيك المركز سنلاحظ بروز مادة كاربونية سوداء من الوعاء نتيجة تفحم السكر كما في المعادلة الآتية: 
$$\text{C}_{12}\text{H}_{22}\text{O}_{11} \xrightarrow{\text{مركز } \text{H}_2\text{SO}_4} 12\text{C} + 11\text{H}_2\text{O}$$

س ٢٣: اذكر خمس استعمالات لحامض الكبريتيك ؟ (٢٠١٩ دور ثاني)

ج ٢٣: يستعمل حامض الكبريتيك لأغراض متعددة أهمها :  
١. في تحضير الحوامض الأخرى كحامض النتريك والهيدروكلوريك بسبب درجة غليانه العالية .  
٢. في تنقية البترول ، وإزالة الشوائب عنه .  
٣. في صناعة المتفجرات كنترات الكليسيرين ونترات السيليلوز .  
٤. في إذابة الصدا الذي يكسو الأدوات الحديدية قبل طلائها بالخرصين .  
٥. في صناعة الأسمدة الكيميائية مثل كبريتات الامونيوم والأسمدة الفوسفاتية .

س ٢٤: إملأ الفراغات الآتية بما يناسبها لاثنين فقط :  
٣- يستعمل حامض الكبريتيك في تحضير الحوامض الأخرى مثل حامض النتريك والهيدروكلوريك بسبب .....  
ج ٢٤: بسبب درجة غليانه العالية .

س ٢٥: علل اثنين مما يأتي: (٢) يستعمل حامض الكبريتيك في تحضير الحوامض الأخرى مثل حامض الهيدروكلوريك . (٢٠١٤ دور ثاني)  
ج ٢٥: بسبب درجة غليانه العالية .

س ٢٦: علل ثلاث مما يأتي:  
٤) يستعمل حامض الكبريتيك في تجفيف المواد لا سيما الغازات التي لا تتفاعل معه . (٢٠١٦ دور ثالث) (٢٠١٧ دور ثاني)  
ج ٢٦: بسبب ميله الشديد للاتحاد مع الماء .

س٢٧ : اختر الأنسب مما بين القوسين ( لإثنين فقط ) :

٣- يستعمل حامض الكبريتيك في تجفيف المواد بسبب :

( درجة غليانه العالية ، ميله الشديد للاتحاد بالماء ، نقل محاليله للتيار الكهربائي ) (٢٠١٥ دور اول)

ج٢٧ : ميله الشديد للاتحاد بالماء .

س٢٨ : ضع كلمة ( صح ) امام العبارات الصحيحة وكلمة ( خطأ ) امام العبارات غير الصحيحة ثم صحح

( ٢٠١٢ دور اول )

الخطأ ان وجد ( لإثنين فقط ) :

٢- يستعمل حامض الكبريتيك في صناعة البطاريات لأن محاليله لها القابلية على نقل التيار الكهربائي .

ج٢٨ : صح .

س٢٩ : علل اثنين مما يأتي: (٢) يستعمل حامض الكبريتيك في صناعة البطاريات . ( ٢٠١٦ دور اول )

ج٢٩ : بسبب نقل محاليله للتيار الكهربائي .

س٣٠ : علل ثلاث فقط مما يأتي:

٤) يستعمل حامض الكبريتيك في صناعة البطاريات وفي الطلاء الكهربائي . ( ٢٠١٧ دور اول )

ج٣٠ : بسبب نقل محاليله للتيار الكهربائي .

س٣١ : عرف اثنين مما يأتي : ١- الكبريتات . ( ٢٠١٣ دور ثاني ) ( ٢٠١٧ دور اول ) ( ٢٠١٨ دور اول )

ج٣١ : هي أملاح حامض الكبريتيك الناتجة من تفاعله مع الفلزات أو أكاسيدها أو هيدروكسيداتهما أو

كاربوناتهما حيث تتكون أملاح الكبريتات الفلزية .

س٣٢ : إملأ الفراغات الآتية بما يناسبها لإثنين فقط :

٢- تستعمل كبريتات المغنيسيوم المائية في صناعة .....

ج٣٢ : الأنسجة القطنية .

س٣٣ : كيف يتم الكشف عن أيون الكبريتات في محاليلها المائية ؟ مع كتابة المعادلة الكيميائية المتوازنة .

( ٢٠١٣ دور اول ) ( ٢٠١٦ دور اول )

س٣٤ : كيف تكشف عن واحد مما يأتي ؟ (٢) أيون الكبريتات . ( ٢٠١٦ دور ثالث )

س٣٥ : كيف يتم الكشف عن أيون الكبريتات في محاليلها المائية ؟ ( ٢٠١٧ دور ثاني ) ( ٢٠١٨ دور ثاني )

ج٣٣/ج٣٤/ج٣٥ : يمكن الكشف عن أيون الكبريتات في محاليلها المائية بإضافة محلول يحتوي على أيونات

الباريوم مثل كلوريد الباريوم إليها حيث سيتكون راسب من كبريتات الباريوم البيضاء كما

في المعادلة الآتية :



07730763646 // 07834663646

الأجوبة النموذجية للأسئلة الوزارية (٢٠١٢ - ٢٠١٩)

المدرس في ثانوية الفياض للبنين

اعداد وترتيب : **أبو الزهراء محمد خليفة الرملي**

## الفصل التاسع : الزمرة السابعة

Fluorine, F

Chlorine, Cl

Bromine, Br

Iodine, I

Astatine, At

Group 17,  
halogens

### Group 7 - The Halogens

GROUP 7 IS THE ONLY GROUP THAT CONTAINS ELEMENTS IN ALL THREE STATES OF MATTER. THEY ARE ALL REACTIVE NON-METALS.

9 F	17 Cl	35 Br	53 I	85 At	117 Uus
--------	----------	----------	---------	----------	------------

THE HALOGENS ALL FORM MOLECULES EXCEPT FLUORINE

ACID LEACHES CALCIUM FROM BONES AND CAN CAUSE VERY PAINFUL BURNS. IT ALSO DISSOLVES GLASS.

THE HALOGENS REACT WITH OXYGEN TO FORM HALOGEN OXIDES. THE HALOGENS REACT WITH METALS TO FORM METAL HALIDES.

ALL OF THE GROUP 7 ELEMENTS HAVE SEVEN VALENCE ELECTRONS.

THE REACTIVITY OF THE HALOGENS INCREASES DOWN THE GROUP AS IT BECOMES HARDER TO GAIN AN ELECTRON.

ESTIMATED AMOUNT OF HALOGENS IN THE EARTH'S CRUST AT ANY ONE TIME

1 GRAM

USES OF THE HALOGENS

F	Cl	Br	I
---	----	----	---



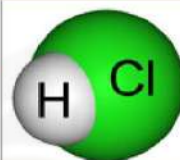
Chlorine

Bromine

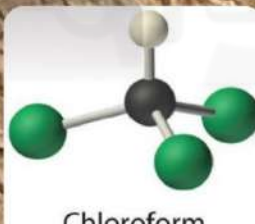
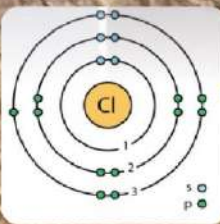
Iodine




Hydrogen chloride



Group 7 The Halogens	
19 F	Fluorine yellow gas
35 Cl	Chlorine green gas
80 Br	Bromine volatile brown liquid
127 I	Iodine volatile purple solid



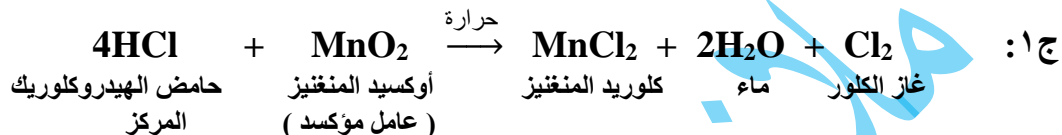
17  
Cl  
35.45





## اسئلة المعادلات الكيميائية

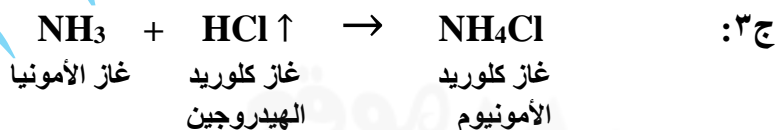
س ١: أكمل ووازن معادلات التفاعلات الآتية مع ذكر أسماء المواد المتفاعلة والنواتجة ( لإثنين فقط ) :  
( ٢٠١٥ دور اول ) ( ٢٠١٨ دور ثاني )



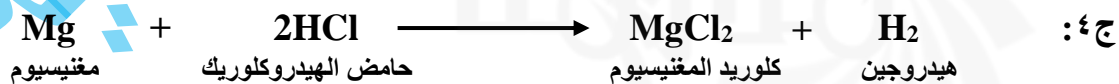
س ٢: أكمل ووازن ثلاثة من التفاعلات الآتية :



س ٣: عبر عن اثنين من التفاعلات الآتية بمعادلات كيميائية متوازنة : ( ٢٠١٢ دور اول ) ( ٢٠١٤ دور ثاني )  
→ غاز كلوريد الهيدروجين + غاز الأمونيا



س ٤: أكمل ثم وازن اثنين من المعادلات الآتية مع ذكر أسماء المتفاعلات والنواتج :  
( ٢٠١٢ دور ثاني )



## الأسئلة الشرحية ( الكلامية )

( ٢٠١٩ دور اول )

س ١: إملأ الفراغات الآتية بما يناسبها لاربعة مما يأتي :  
٢) عناصر الزمرة ..... تتميز بصفات لا فلزية عالية .  
ج ١: السابعة .

س ٢: اجب عن فرعين مما يأتي:

(ب) عدد اهم الصفات العامة للزمرة السابعة ( الهالوجينات ) ( ٢٠١٣ دور ثالث ) ( ٢٠١٨ دور اول )

ج ٢: الصفات العامة لعناصر الزمرة السابعة ( الهالوجينات )

١. تحتوي جميع عناصر هذه الزمرة على سبعة الكترونات في غلافها الخارجي وتميل في تفاعلاتها الى اكتساب الكترون واحد لإشباع غلافها الخارجي وتندرج قابليتها على اكتساب الالكترن من الفلور الى اليود .
٢. توجد الهالوجينات في درجة الحرارة الاعتيادية في حالات فيزيائية مختلفة ، فالفلور ( F<sub>2</sub> ) والكلور ( Cl<sub>2</sub> ) غازات ، أما البروم ( Br<sub>2</sub> ) فهو سائل واليود ( I<sub>2</sub> ) صلب .
٣. الهالوجينات مواد ملونة لأنها تمتص جزء من الأشعة المرئية التي تسقط عليها .
٤. تزداد درجة انصهار و غليان الهالوجينات مع ازدياد العدد الذري .

س ٣: ضع كلمة ( صح ) امام العبارات الصحيحة وكلمة ( خطأ ) امام العبارات غير الصحيحة ثم صحح الخطأ ان وجد ( لإثنين فقط): ١- يكون الكلور في مركباته على العموم احادي التكافؤ. ( ٢٠١٣ دور ثاني )  
ج ٣: صح .

( ٢٠١٦ دور ثاني )

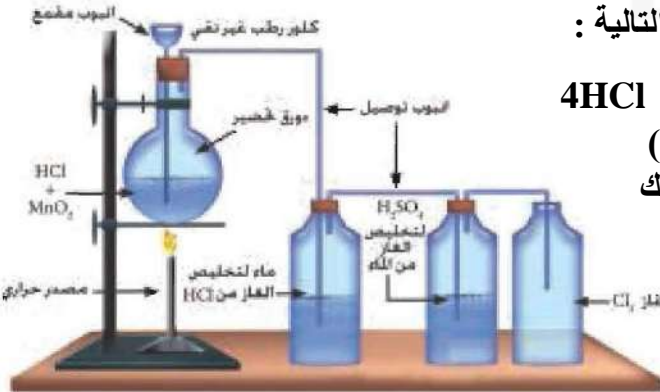
س ٤: علل اثنين مما يأتي: ٢) لا يوجد الكلور حرراً في الطبيعة .  
ج ٤: لفعاليتها الكيميائية العالية ولاتحاده بسهولة مع غيره من العناصر وتكوينه مركبات الكلور الواسعة الانتشار في الطبيعة .

س ٥: وضح مع رسم الجهاز وكتابة المعادلة الكيميائية المتوازنة طريقة تحضير غاز الكلور في المختبر .  
( ٢٠١٢ دور ثاني )

ج ٥: يحضر غاز الكلور في المختبر كما في الجهاز المبين ، من أكسدة حامض الهيدروكلوريك المركز بواسطة ثنائي أكسيد المنغنيز وحسب المعادلة التالية :



ويخلص الغاز الناتج من غاز HCl والماء ( الرطوبة )  
بإمراره على فتانين حاوية على الماء وحامض الكبريتيك  
على التوالي ، حيث يلاحظ أن ثنائي أكسيد المنغنيز



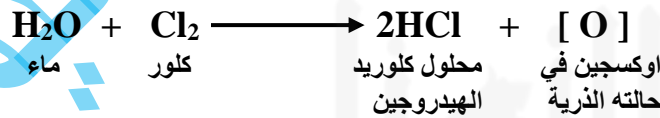
في هذه التجربة لا يسلك سلوك عامل مساعد وإنما يستهلك بعد انتهاء التفاعل فهو يسلك كعامل مساعد .

س٦: علل اثنين مما يأتي: (٢) يتم جمع غاز الكلور بإزاحة الهواء إلى الأعلى . (٢٠١٢ دور اول)  
ج٦: لأنه أثقل من الهواء .

س٧: إملأ الفراغات الآتية بما يناسبها (لاثنين فقط) :  
٣- يتم جمع غاز الكلور بإزاحة الهواء إلى الأعلى مما يدل على أنه .....  
ج٧: أثقل من الهواء .

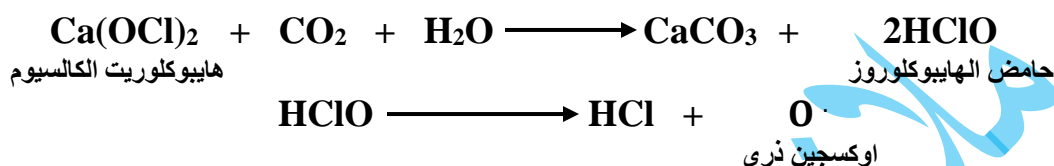
س٨: علل اثنين مما يأتي: (٢) إستنشاق غاز الكلور بكميات كبيرة يؤدي إلى الوفاة .  
(٢٠١٨ دور ثالث) (٢٠١٩ دور اول)  
ج٨: لأن له رائحة خانقة حيث يهاجم الأنسجة المخاطية للأنف والبلعوم وعند استنشاقه بكميات كبيرة يتلف الرئتين ويؤدي إلى الموت .

س٩: عدد استعمالات واحد مما يأتي : ١- غاز الكلور .  
ج٩: يستفاد من غاز الكلور في مجالات كثيرة منها :  
١ . يستعمل في تعقيم مياه الشرب وأحواض السباحة .  
٢ . تستخدم بعض مركبات الكلور في تحضير بعض العقاقير الطبية .  
٣ . يدخل الكلور في تركيب كثير من المذيبات العضوية الصناعية مثل الكلوروفورم  $CHCl_3$  وثنائي كلوريد الميثيل  $CH_2Cl_2$  ورباعي كلوريد الكربون .  
٤ . يستعمل الكلور في قصر ألوان الأنسجة النباتية حيث يعمل كقاصر ومعقم . يتفاعل الكلور مع الماء عند ذوبانه فيه ببطء في درجات الحرارة الإعتيادية وبسرعة في ضوء الشمس فهو يتحد مع الماء محرراً الأوكسجين في حالته الذرية ويسمى بـ ( الأوكسجين الذري ) الذي يمتاز بأنه فعال جداً حيث يقوم بإزالة الألوان النباتية (قصرها) وقتل الجراثيم للتعقيم، وحسب المعادلة الآتية :



٥ . يستعمل الكلور في قصر ألوان الملابس القطنية بصورة خاصة ولا يستعمل في قصر الصوف والحريير الطبيعي لأنه يتلفها . نضع زهرة ملونة أو ورقة نباتية في قنينة فيها غاز الكلور الجاف فلا نلاحظ تأثيراً ظاهراً . والآن نبلل الزهرة أو الورقة النباتية وندخلها في قنينة الغاز ونتركها مدة نشاهد زوال اللون مما يدل على أن غاز الكلور يقصر الألوان النباتية وأن للماء أهمية كثيرة في عملية القصر حيث يتكون الأوكسجين الذري الذي يقوم بعملية القصر .

٦. عند امرار غاز الكلور في هيدروكسيد الكالسيوم الجاف  $\text{Ca(OH)}_2$  يتكون مسحوق ابيض من هابيوكلوريت الكالسيوم  $\text{Ca(OCl)}_2$  وهو المادة الفعالة للمسحوق القاصر الذي يستعمل في قصر الألوان والتعقيم وذلك عند تفاعله مع الماء بوجود غاز ثنائي أوكسيد الكربون ، يكون حامض الهابيوكلوروز  $\text{HClO}$  الذي يتفكك مولداً الأوكسجين الذري الذي يقوم بعملية القصر كما في المعادلات الآتية :



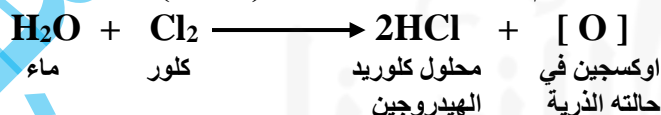
س ١٠: اجب عما يأتي : (٢ عدد ثلاثة استعمالات لغاز الكلور .

- ج ١٠ يستفاد من غاز الكلور في مجالات كثيرة منها :
١. يستعمل في تعقيم مياه الشرب وأحواض السباحة .
  ٢. تستخدم بعض مركبات الكلور في تحضير بعض العقاقير الطبية .
  ٣. يدخل الكلور في تركيب كثير من المذيبات العضوية الصناعية مثل الكلوروفورم  $\text{CHCl}_3$  وثنائي كلوريد المثيل  $\text{CH}_2\text{Cl}_2$  ورباعي كلوريد الكربون .

س ١١: أجب عن واحد فقط : ٢- وضح كيف يستعمل غاز الكلور في عملية قصر الألوان والتعقيم ؟ مع كتابة المعادلات الكيميائية المتوازنة .

س ١٢: أجب عن اثنين مما يأتي :

٣- وضح كيف يستعمل غاز الكلور في قصر ألوان الأنسجة النباتية ؟ (٢٠١٥ دور اول) (٢٠١٩ دور ثاني) ج ١١/ج ١٢: يتفاعل الكلور مع الماء عند ذوبانه فيه ببطء في درجات الحرارة الإعتيادية وبسرعة في ضوء الشمس فهو يتحد مع الماء محرراً الأوكسجين في حالته الذرية ويسمى بـ ( الأوكسجين الذري ) الذي يمتاز بأنه فعال جداً حيث يقوم بإزالة الألوان النباتية (قصرها) وقتل الجراثيم للتعقيم، وحسب المعادلة :



س ١٣: اختر الأنسب ما بين القوسين ( لإثنين فقط ) : ٣- غاز واحد من الغازات الآتية له القابلية على قصر الألوان النباتية هو ( الهيدروجين ، النتروجين ، الكلور )

س ١٤: اختر من بين الأقواس ( ثلاث فقط ) : ٤- غاز واحد من الغازات الآتية له القابلية على قصر الألوان النباتية بوجود الماء هو ( هيدروجين ، كلور ، أمونيا )

ج ١٣/ج ١٤: الكلور .

( ٢٠١٦ دور اول )

س ١٥ : إملأ الفراغات الآتية بما يناسبها ( لاثنين فقط ) :

١- غاز الكلور لا يقصر الألوان النباتية إلا بوجود .....

ج ١٥ : الماء .

( ٢٠١٨ دور ثاني )

س ١٦ : أكمل ثلاثة من الفراغات الآتية بما يناسبها :

٤ ( لا يستعمل الكلور في قصر الصوف والحريير الطبيعي لأنه .....

ج ١٦ : يتلفها .

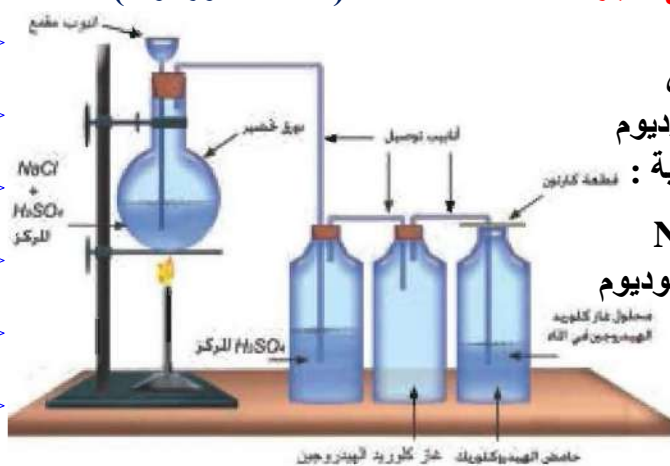
س ١٧ : علل اثنين مما يأتي: (٢) لا يستعمل غاز الكلور في قصر الصوف والحريير الطبيعي (٢٠١٨ دور اول)

ج ١٧ : لأنه يتلفها .

س ١٨ : كيف يمكن تحضير غاز كلوريد الهيدروجين في المختبر ؟ معزراً إجابتك بالمعادلة الكيميائية

( ٢٠١٣ دور اول )

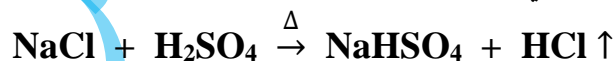
المتوازنة مع رسم جهاز التحضير مؤشراً على الأجزاء .



ج ١٨ : يحضر غاز كلوريد الهيدروجين في المختبر من

تفاعل حامض الكبريتيك المركز مع كلوريد الصوديوم

كما في الجهاز المبين وحسب معادلة التفاعل الآتية :



نضع كمية مناسبة (10g) تقريباً من كلوريد الصوديوم

النقي في دورق زجاجي ذو سداد يخترقه أنبوبان

الأول يمتد الى قعر الدورق والثاني أنبوب توصيل

يمتد الى قنينة زجاجية تحتوي على حامض

الكبريتيك المركز بحيث تنغمر نهاية الأنبوب في

الحامض ومن هذه القنينة يخرج أنبوب توصيل آخر يمتد

الى قنينة جمع الغاز الجاف ، يسكب في الأنبوب المقحم حامض الكبريتيك المركز بحيث يغطي الملح .

يسخن الدورق بهدوء نلاحظ حدوث تفاعل مصحوب بانبعثات غاز كلوريد الهيدروجين .

( ٢٠١٦ دور ثاني )

س ١٩ : أجب عن اثنين مما يأتي : عدد خمس خواص لغاز كلوريد الهيدروجين .

ج ١٩ : خواص غاز كلوريد الهيدروجين :

١ . غاز عديم اللون ويمتاز برائحة خانقة نفاذة .

٢ . أثقل من الهواء يجمع بإزاحة الهواء الى الأعلى .

٣ . غاز لا يشتعل ولا يساعد على الإشتعال .

٤. كثير الذوبان في الماء .  
٥. محلوله المائي (حامض الهيدروكلوريك) حامضي التأثير على الدلائل ، حيث يغير لون ورقة زهرة الشمس الزرقاء الى اللون الأحمر .

س ٢٠: كيف يمكنك عملياً أن تكشف عن وجود غاز كلوريد الهيدروجين ؟ مع كتابة المعادلة الكيميائية المتوازنة . ( ٢٠١٤ دور اول ) ( ٢٠١٧ دور اول ) ( ٢٠١٨ دور ثالث ) ( ٢٠١٩ دور ثاني )

ج ٢٠: يمكن الكشف عن غاز كلوريد الهيدروجين عن طريق غمر ساق زجاجي في محلول الأمونيا ثم نخرجه ونقربه من فوهة قنينة فيها غاز كلوريد الهيدروجين فنلاحظ تكون مادة ضبابية بيضاء من كلوريد الأمونيوم ناتجة من اتحاد غاز كلوريد الهيدروجين مع غاز الأمونيا المنبعث من محلول الامونيا :



س ٢١: عرف اثنين مما يأتي : ١- الكلوريدات . ( ٢٠١٦ دور ثاني ) ( ٢٠١٨ دور ثاني ) ( ٢٠١٩ دور اول )

ج ٢١: هي أملاح لحامض الهيدروكلوريك وتنشأ من إحلال فلز أو جذر كالأمونيوم مثلاً محل الهيدروجين الحامض .

س ٢٢: إملأ الفراغات الآتية بما يناسبها ( لاثنين فقط ) :  
٢- تسمى املاح حامض الهيدروكلوريك بـ .....

ج ٢٢: الكلوريدات .

س ٢٣: ضع كلمة ( صح ) امام العبارات الصحيحة وكلمة ( خطأ ) امام العبارات غير الصحيحة ثم صحح الخطأ ان وجد (لاثنين فقط):

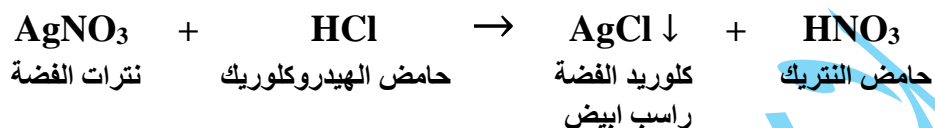
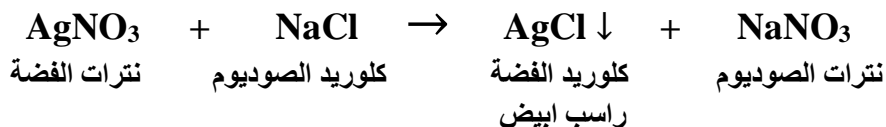
( ٣ ) تسمى املاح حامض الهيدروكلوريك بـ ( الفلوريدات ) . ( ٢٠١٨ دور اول )

ج ٢٣: خطأ ، ( الكلوريدات ) .

س ٢٤: كيف تكشف او تتأكد من وجود الكلوريدات في المحاليل ؟ ( ٢٠١٥ دور ثاني )

ج ٢٤: يكشف عن الكلوريدات بإضافة محلول نترات الفضة الى محاليل الكلوريدات الرانقة مثل محلول

NaCl ومحلول حامض الهيدروكلوريك ، حيث يتكون راسب ابيض من كلوريد الفضة القابل للذوبان بسهولة في محلول الامونيا كما في المعادلات الآتية على التوالي :



تم الجزء الثاني

والحمد لله

الذي بنعمته تتم الصالحات

